



මූල්‍ය විමසුම 2023

සරසවි සිහිනයට මග කියන සහෝදරත්වයේ දූෂ් දිගුව

විභාගය ඉලක්ක කොටගත් ප්‍රශ්න පත්‍ර

- ගිණුම්කරණය
- ආර්ථික විද්‍යාව
- ව්‍යාපාර අධ්‍යයනය



මූල්‍ය අධ්‍යයන අංශය
වාණිජ හා කළමනාකරණ අධ්‍යයන පීඨය
කැලණිය විශ්වවිද්‍යාලය


මූල්‍ය විමසුම

කැලණිය විශ්වවිද්‍යාලයීය මූල්‍ය අධ්‍යයන අංශය නියෝජනය කරමින් මූල්‍ය ශිෂ්‍ය සංගමය විසින් සාධනීයව ඉදිරිපත් කරනු ලබන "ශිල්ප 2023 අධ්‍යාපන පොදු සහතික පත්‍ර උසස් පෙළ සම්මන්ත්‍රණයට සමගාමීව ඉදිරිපත් කරන "මූල්‍ය විමසුම" සඟරාව දැක්වෙන වෙළුම මෙලෙස එළිදැක්වෙන්නේය.

සරසවි වරම් හිමි කර ගනිමින් ජීවිතයේ තවත් එක් සුවිශේෂී වූ කඩ ඉමක් ජය ගැනීමට අපේක්ෂාවෙන් සිටින සිසු සිසුවියන්ට දැනුමෙන් සුපෝෂණය කිරීම සහ ඔවුන්ට අත්වැලක් සැපයීම උතුම් අරමුණ පෙරදැරි කරගෙන එළිදැක්වෙන ලද මෙම සඟරාව පිටුවහලක් ම වේවායි ඉතා බැති සිතින් පතන්නෙමු.

අප විශ්වවිද්‍යාලයීය කථිකාචාර්යවරුන්ගේ සහ විද්‍යාර්ථීන්ගේ දැනුම් ඒකරාශී කරගනිමින් සකස් කර ඇති ලිපි වලින් සමන්විත වූ මෙම සඟරාව ශ්‍රී ලංකාවේ කර ගැනීම සඳහා නන් අයුරින් සහය දුන් ඔබ සැමට ස්තූති වන්න වන අතර මෙහි නිසි ඵල ලබා ගනු ඇතැයි අප අපේක්ෂා කරන්නෙමු.

සරසවි සිහිනය සිහිනයක් නොව සැබෑවක් කර ගැනීමට ඔබ සැමට සුභ ප්‍රාර්ථනා කරන්නෙමු.



පටුන

(01) අංශාධිපති තුමියගේ පණිවිඩය	3
(02) මූල්‍ය ශිෂ්‍ය සංගමයේ පණිවිඩය.....	4
(03) සංස්කාරක තුමියගේ පණිවිඩය	5
(04) නූතන ව්‍යාපාරික ලෝකයේ කෘත්‍රීම ඔද්දියේ භාවිතය	6-9
(05) වාණිජ්‍යය සහ තොරතුරු තාක්ෂණය	10-12
(06) ව්‍යාපාර සංඛ්‍යාලේඛනය හරහා ගමනක්.....	13-14
(07) ව්‍යාපාර අධ්‍යයනය ප්‍රශ්න පත්‍රය.....	15-49
(08) ආර්ථික විද්‍යාව ප්‍රශ්න පත්‍රය.....	50-76
(09) ගිණුම්කරණය ප්‍රශ්න පත්‍රය.....	77-93
(10) අනුග්‍රහක භවතුන්ගේ පණිවිඩ.....	95-96

අංශාධිපති තුමියගේ පත්‍රිකාව

වර්තමානයේ ශ්‍රී ලංකාව මුහුණ පා තිබෙන ආර්ථික අර්බුද හමුවේ, මූල්‍ය සාක්ෂරතාවයේ වැදගත්කම ඉස්මතු වී ඇත.

රාජ්‍ය විශ්ව විද්‍යාලයක කාර්යයක් ලෙස, මූල්‍ය ශිෂ්‍ය අධ්‍යයන සංගමය මගින් ප්‍රකාශයට පත් කරනු ලබන මූල්‍ය විමසුම සඟරාව අ.පො.ස. උසස් පෙළ වාණිජ විෂය ධාරාවෙන් ඉගෙනුම ලබන සිසු දැරියන්ගේ මූල්‍ය සාක්ෂරතාවය වැඩි දියුණු කිරීමේ අරමුණින් උසස්පෙළ විෂය ධාරාව ආවරණය කරමින් දැසවන වරටත් ප්‍රකාශයට පත් කරනු ලබන සඟරාවකි.

උසස් පෙළ විෂය නිර්දේශය මනාව ආවරණය කරමින් සිසුන්ට අවශ්‍ය ඉතා වටිනා දැනුම් සම්භාරයක් ලබා දීම මෙම සඟරාවේ ප්‍රධානතම අරමුණ වේ. මූල්‍ය අධ්‍යයන අංශයේ කටිකාවාරිය මණ්ඩලය මෙන් ම විද්‍යාර්ථීන්ගේ සහයෝගිතාවෙන් නිර්මාණය කරනු ලබන මෙම සඟරාව විශේෂත්වයක් ගනු ලබන්නේ එම නිසාවෙනි.

මෙම මූල්‍ය ලිපි ඇතුළත් සඟරාව, අනාගත ව්‍යාපාර ලෝකයට පිවිසීමට සැරසෙන පාසල් ශිෂ්‍ය ශිෂ්‍යාවන්ගේ කියවීමේ කුසලතා, විශ්ලේෂණ කුසලතා, නිවැරදි තීරණ ගැනීමේ කුසලතා, තාර්කික වින්තනය මෙන්ම අභියෝග වලට මුහුණ දීමේ හැකියාව වර්ධනයට ද මහඟු පිටිවහලක් වන බව නොඅනුමානයයි .

අ.පො.ස. උසස් පෙළ (2023) සම්මන්ත්‍රණ වැඩිමුළුවට සමගාමීව එළිදැක්වනු ලබන මෙම මූල්‍ය විමසුම සඟරාව තම දැනුම වර්ධනය කර ගැනීමට උත්සාහ ගන්නා ශිෂ්‍ය ශිෂ්‍යාවන්ට මනා අත්වැලක් ලබා දෙනු ඇතැයි අපි විශ්වාස කරමු .



ආචාර්ය ජේ.එම්.ආර්.ප්‍රනාන්දු
අංශ ප්‍රධාන
මූල්‍ය අධ්‍යයන අංශය
කැලණිය විශ්වවිද්‍යාලය

මූල්‍ය ශිෂ්‍ය සංගමයේ පණිවිඩය



කැලණිය විශ්වවිද්‍යාලයීය වාණිජ හා කළමනාකරණ අධ්‍යයන පීඨයේ, මූල්‍ය අධ්‍යයන අංශය නියෝජනය කරමින් මූල්‍ය ශිෂ්‍ය සංගමය විසින්, අධ්‍යයන පොදු සහතික පත්‍ර උසස් පෙළ විභාගය නිමිත්තෙන් සිදු කරනු ලබන “ශිල්ප” සම්මන්ත්‍රණ වැඩමුළු උදෙසා ඉදිරිපත් කරනු ලබන, සාඩම්බර ඉදිරිපත් කිරීමකි.

අප විශ්වවිද්‍යාලයීය කථිකාචාර්යවරුන්ගේ සහ විද්‍යාර්ථීන්ගේ, ආරාධිත ලේඛකයන්ගේ, ලිපි මගින් මෙම සඟරාව සමන්විත වන අතර උසස් පෙළ කඩයිම සාර්ථක ලෙස ජය ගැනීමට මෙය මහඟු පිටුවහලක් වනු ඇතැයි අප සිතන්නෙමු. උසස් පෙළ වාණිජ විෂය ධාරාව නිමිති කර ගනිමින් වාණිජ විෂය නිර්දේශය මත පදනම් වෙමින් සකස් කර ඇති “මූල්‍ය විමසුම” සඟරාව නොකඩවා වසරක් පාසා ඉදිරිපත් කිරීමට අප සැලසුම් කර ඇත්තෙමු. මෙම සඟරාවේ ඉදිරි කලාපයන් සඳහා ලිපි ඉදිරිපත් කරමින් දිගින් දිගටම අප සමගින් එක්ව සිටීමට කථිකාචාර්යවරුන්හට සහ සෙසු සියලු දෙනාට සුභඳව ඇරයුම් කර සිටින අතර මෙවර කලාපය සඳහා ලිපි සැපයීම වෙනුවෙන් ස්තූති කර සිටින්නෙමු.

මෙම සඟරාවේ පළ කරනු ලබන ලිපි සම්බන්ධව සංස්කාරකවරුන් සහ මූල්‍ය අධ්‍යයන අංශය කිසිදු වගකීමක් නොදරන අතර සියලු වගකීම් ඒ ඒ ලේඛකයන් සතු වේ.

සංස්කාරක තුමියගේ පත්‍රිකාව

අධ්‍යයන පොදු සහතික පත්‍ර උසස් පෙළ විභාගය, වාණිජ විෂය ධාරාවෙන් හදාරන ඔබට, අත්වැරක් වීම සඳහා කැලණිය විශ්ව විද්‍යාලයේ වාණිජ හා කළමනාකරණ පීඨයේ මූල්‍ය අධ්‍යයනාංශය මෙවරත් “මූල්‍ය විමසුම 2023” වාර්ෂික සඟරාව ඉමහත් ගෞරවයෙන් එළි දක්වන්නෙමු.

ඉදිරියේ දී පැවැත්වීමට නියමිත අපොස උසස් පෙළ විභාගය ඉලක්ක කොටගෙන විෂය නිර්දේශය ආවරණය වන පරිදි සකසන ලද ඉලක්කගත ප්‍රශ්න පත්‍ර මාලාවක් මෙන්ම වටිනා ලිපි පෙළක් මෙම සඟරාව තුළින් ඔබ හමුවට ගෙන ඒම, මූල්‍ය අධ්‍යයන අංශයේ කථිකාවාරිය මණ්ඩලයේ මෙන්ම විද්‍යාර්ථීන්ගේ ද සාර්ථක වැඩසටහනකි. මෙම සඟරාව සාර්ථකව ඉදිරිපත් කිරීමට නන් අයුරින් සහයෝගය ලබාදුන් සෑම අපගේ ගෞරවණීය ස්තූතිය පළකරමු.

කම්කටොලු බාධක ජය ගනිමින් ඉලක්ක වෙත ළඟාවන අනාගතයකට සුඛපැතුම්!



අනීශා යාපා
කථිකාවාරිය (සහකාර)
මූල්‍ය අධ්‍යයන අංශය
කැලණිය විශ්වවිද්‍යාලය

නූතන ව්‍යාපාරික ලෝකය කෘත්‍රිම බුද්ධිය ආවිනය

නූතන ව්‍යාපාරික ලෝකය නිරන්තරයෙන්ම නව තාක්ෂණයන් සමග බැඳී පවතී. එබැවින් නූතන ව්‍යාපාරික ලෝකය නිරතුරුවම විවිධ වෙනස්කම් වලට භාජනය වේ. එලෙස වර්තමාන ව්‍යාපාරික කටයුතු කෙරෙහි බලපෑමක් ඇති කරන ප්‍රධාන තාක්ෂණික සාධකයක් බවට කෘත්‍රිම බුද්ධිය (Artificial Intelligence - AI) පත්වෙමින් තිබේ. පරිගණක විද්‍යාවේ ශාඛාවක් වන කෘත්‍රිම බුද්ධිය දෘශ්‍ය සංජානනය, කථන හඳුනාගැනීම, තීරණ ගැනීම සහ භාෂා අතර පරිවර්තනය වැනි සාමාන්‍යයෙන් මානව බුද්ධිය අවශ්‍ය වන කාර්යයන් ඉටු කිරීමට හැකියාව ඇති පරිගණක පද්ධති සහ වැඩසටහන් සංවර්ධනය සම්බන්ධව යොමු වූ විෂයයකි.

කෘත්‍රිම බුද්ධිය යනු, තර්ක කිරීමට, ඉගෙනීමට සහ ස්වයංක්‍රීයව ක්‍රියා කළ හැකි පද්ධති වේ. ක්‍රීඩාවේ සිට වෛද්‍ය රෝග විනිශ්චය දක්වා පුළුල් පරාසයක ගැටළු විසඳීම සඳහා ඵලදායී තාක්ෂණික ක්‍රම සංවර්ධනය කිරීමේදී කෘත්‍රිම බුද්ධි (AI) පර්යේෂණය ඉතා සාර්ථක වී ඇත.

මෑත වසරවලදී, ව්‍යාපාරික ගැටළු සඳහා AI යෙදීම කෙරෙහි වැඩි උනන්දුවක් ඇති වී තිබේ. මෙයට හේතු වී ඇත්තේ වැඩිවන දත්ත ලබා ගැනීමේ හැකියාව, වඩා බලවත් පරිගණක දෘඩාංග සංවර්ධනය කිරීම සහ AI ඇල්ගොරිතමවල දියුණුව ඇතුළු සාධක ගණනාවක් නිසාය.

කෘත්‍රිම බුද්ධියෙහි මෑත කාලීන ප්‍රවණතා

- **යන්ත්‍ර ඉගෙනීමේ නැගීම:**
 යන්ත්‍ර ඉගෙනීම (Machine Learning) යනු පරිගණකවලට පැහැදිලිව ක්‍රමලේඛනයකින් තොරව ඉගෙන ගැනීමට ඉඩ සලසන (AI) වර්ගයකි. යන්ත්‍ර ඉගෙනීමේ ඇල්ගොරිතම වලට දත්ත වලින් ඉගෙන ගැනීමට සහ කාලයත් සමග ඒවායේ ක්‍රියාකාරීත්වය වැඩි දියුණු කිරීමට හැකි වේ.
- **ගැඹුරු ඉගෙනීමේ වර්ධනය:**
 ගැඹුරු ඉගෙනීම (Deep Learning) යනු දත්ත වලින් ඉගෙන ගැනීමට කෘත්‍රිම ස්නායුක ජාල (Artificial) (Neural) (Networks) භාවිතා කරන යන්ත්‍ර ඉගෙනුම් වර්ගයකි. ස්නායුක ජාල මිනිස් මොළයෙන් ආභාෂය ලබා ඇති අතර, දත්ත වලින් සංකීර්ණ රටා ඉගෙන ගැනීමට ඔවුන්ට හැකි වේ.
- **වැඩිවන දත්ත ලබා ගැනීමේ හැකියාව:**
 ව්‍යාපාරික සඳහා ලබා ගත හැකි දත්ත ප්‍රමාණය වේගයෙන් වර්ධනය වේ. මෙයට හේතුව අන්තර්ජාලය, සමාජ මාධ්‍ය සහ වෙනත් දත්ත උත්පාදන තාක්ෂණයන් ඉහළ යාමයි. වැඩිවන දත්ත ලබා ගැනීමේ හැකියාව ව්‍යාපාරිකවලට වඩාත් සංකීර්ණ AI යෙදුම් සංවර්ධනය කිරීමට සහ යෙදවීමට හැකි වේ. මෙය විශාල දත්ත (Big Data) ලෙස ද හැඳින්වේ.

ව්‍යාපාර ලෝකයේ (AI) හි යෙදුම්

කෘත්‍රීම බුද්ධිය දැනටමත් සියලුම ප්‍රමාණයේ ව්‍යාපාරවල සහ පුළුල් පරාසයක කර්මාන්තවල භාවිතා වේ. ව්‍යාපාර ලෝකය තුළ AI හි වඩාත් පොදු යෙදුම් සමහරක් පහත සඳහන් වේ.

■ස්වයංක්‍රීයකරණය (Automation) පාරිභෝගික සේවයේ සිට නිෂ්පාදනය දක්වා පුළුල් පරාසයක කාර්යයන් ස්වයංක්‍රීය කිරීමට AI භාවිතා කළ හැක. මෙය වඩාත් උපායමාර්ගික සහ නිර්මාණාත්මක වැඩ කෙරෙහි අවධානය යොමු කිරීමට සේවකයින් නිදහස් කළ හැකිය.

■දත්ත විශ්ලේෂණය (Data Analysis) මිනිසුන්ට හඳුනා ගැනීමට අපහසු හෝ කළ නොහැකි රටා සහ ප්‍රවණතා හඳුනා ගැනීමට විශාල දත්ත (Big Data) කට්ටල විශ්ලේෂණය කිරීමට AI භාවිත කළ හැක. නිෂ්පාදන සංවර්ධනයේ සිට අලෙවිකරණ ව්‍යාපාර දක්වා සෑම දෙයක් ගැනම වඩා හොඳ තීරණ ගැනීමට මෙම තොරතුරු භාවිතා කළ හැකිය.

■පෞද්ගලිකකරණය (Personalization) පාරිභෝගික අත්දැකීම පෞද්ගලිකකරණය කිරීමට AI භාවිතා කළ හැක. උදාහරණයක් ලෙස, AI ඔබගේ ක්‍රියාත්මක වන නිර්දේශ පද්ධති පාරිභෝගිකයින් උනන්දු විය හැකි නිෂ්පාදන සහ සේවා යෝජනා කළ හැක.

■පාරිභෝගික සේවය (Customer Service 24/7) පාරිභෝගික සහාය සැපයිය හැකි චැට්බෝට් (Chatbot) සහ අතර්ථ සහායක (Virtual Assistants) සංවර්ධනය කිරීමට AI භාවිත කෙරේ. AI පාරිභෝගික දත්ත විශ්ලේෂණය කිරීමට සහ ප්‍රවණතා හඳුනා ගැනීමට ද භාවිතා වේ, එමඟින් ව්‍යාපාරවලට ඔවුන්ගේ පාරිභෝගික සේවා වැඩිදියුණු කිරීමට උපකාරී වේ.

■අලෙවිකරණය සහ විකුණුම් (Sales & Marketing) ඉලක්කගත අලෙවිකරණ ව්‍යාපාර සංවර්ධනය කිරීමට සහ පාරිභෝගික හැසිරීම පුරෝකථනය කිරීමට AI භාවිත කෙරේ. විකුණුම් කාර්යයන් ස්වයංක්‍රීය කිරීමට ද AI භාවිතා වේ.

■නිෂ්පාදන සංවර්ධනය (Product Development) නව නිෂ්පාදන සහ සේවා සංවර්ධනය කිරීම සඳහා පාරිභෝගික දත්ත සහ ප්‍රතිපෝෂණ විශ්ලේෂණය කිරීමට AI භාවිත කෙරේ. නිෂ්පාදන පරීක්ෂාව සහ තත්ත්ව පාලනය ස්වයංක්‍රීය කිරීමට ද AI භාවිත කෙරේ.

■මෙහෙයුම් (Operations) සැපයුම් දාම කළමනාකරණය (Supply Chain Management) සහ නිෂ්පාදනය වැනි ව්‍යාපාරික ක්‍රියාවලීන් ස්වයංක්‍රීය කිරීමට සහ ප්‍රශස්ත කිරීමට AI භාවිත කෙරේ. උපකරණ අසාර්ථක වීම පුරෝකථනය කිරීමට සහ වැළැක්වීමට ද AI භාවිතා වේ.

විවිධ කාර්යාලවල (AI) භාවිතා කරන ආකාරය පිළිබඳ නිශ්චිත උදාහරණ කිහිපයක් මෙන්න:

- සිල්ලර වෙළඳාම: තොග කළමනාකරණය වැඩිදියුණු කිරීමට, පුද්ගල රුවපිටු අනුව නිෂ්පාදිත කිරීමට, සහ වංචා හඳුනා ගැනීමට AI භාවිත කෙරේ.
- මූල්‍ය: අවදානම් තක්සේරුව සහ වංචා හඳුනාගැනීම වැනි කාර්යයන් ස්වයංක්‍රීය කිරීමට AI භාවිත කෙරේ. නව මූල්‍ය නිෂ්පාදන සහ සේවා සංවර්ධනය කිරීමට ද AI භාවිතා වේ.
- සෞඛ්‍ය ආරක්ෂණය: නව ඖෂධ සහ ප්‍රතිකාර නිපදවීමට, රෝග නිර්ණය කිරීමට සහ රෝගීන්ට පුද්ගලාරෝපිත සත්කාර සැපයීමට AI භාවිත කෙරේ.
- නිෂ්පාදනය: නිෂ්පාදන කාර්යක්ෂමතාව, තත්ත්ව පාලනය සහ පුරෝකථන නඩත්තු වැඩි දියුණු කිරීම සඳහා AI භාවිතා වේ.

සමස්තයක් වශයෙන්, AI ව්‍යාපාරික ලෝකයට විශාල බලපෑමක් ඇති කරයි. AI බලයෙන් ක්‍රියාත්මක වන යෙදුම් ව්‍යාපාරවලට කාර්යයන් ස්වයංක්‍රීය කිරීමට, පාරිභෝගික අත්දැකීම් පුද්ගලීකරණය කිරීමට සහ වඩා හොඳ තීරණ ගැනීමට උදවු කරයි. AI නවෝත්පාදන සහ බාධා කිරීම් සඳහා නව අවස්ථා ද නිර්මාණය කරයි.



ඇතැම් ලෝක ප්‍රසිද්ධ ව්‍යාපාර (AI) භාවිතා කරන ආකාරය පිළිබඳ නිශ්චිත උදාහරණ කිහිපයක් මෙන්න:

- Netflix සිය පරිශීලකයින්ට විකුපට සහ රූපවාහිනී වැඩසටහන් නිර්දේශ කිරීමට AI භාවිතා කරයි.
- නිෂ්පාදන නිර්දේශ පොදුගලීකරණය කිරීමට සහ එහි (Alexa) හඬ සහායකයා බල ගැන්වීමට Amazon AI භාවිත කරයි.
- Google එහි සෙවුම් ප්‍රතිඵල වැඩිදියුණු කිරීමට සහ Google Translate සහ Google Map වැනි නව නිෂ්පාදන සංවර්ධනය කිරීමට AI භාවිත කරයි.
- Walmart පාරිභෝගික ඉල්ලුම පුරෝකථනය කිරීමට සහ එහි සැපයුම් දාමය ප්‍රශස්ත කිරීමට AI භාවිතා කරයි.
- GE එහි කාර්මික උපකරණ සඳහා අනාවැකි නඩත්තු පද්ධති සංවර්ධනය කිරීමට AI භාවිතා කරයි.

මේවා ව්‍යාපාර AI භාවිතා කරන බොහෝ ක්‍රම සඳහා උදාහරණ කිහිපයක් පමණි. AI තාක්ෂණය අඛණ්ඩව වර්ධනය වන බැවින්, ව්‍යාපාරික ලෝකය තුළ AI හි තවත් නව්‍ය සහ කඩාකප්පල්කාරී යෙදුම් දැකීමට අපට අපේක්ෂා කළ හැකිය.

ව්‍යාපාරයේ (AI) භාවිතා කිරීමේ ප්‍රතිලාභ

ව්‍යාපාරයේදී AI භාවිතා කිරීමෙන් බොහෝ වාසි ඇත. ප්‍රධාන ප්‍රතිලාභ සමහරක් ඇතුළත් වේ:

- **කාර්යක්ෂමතාව වැඩි කිරීම:** AI හට දැනට මිනිසුන් විසින් සිදු කරනු ලබන කාර්යයන් ස්වයංක්‍රීය කළ හැකි අතර, වඩාත් උපායමාර්ගික සහ නිර්මාණාත්මක වැඩ කෙරෙහි අවධානය යොමු කිරීමට සේවකයන් නිදහස් කරයි.
- **අඩු කරන ලද පිරිවැය:** කාර්යයන් ස්වයංක්‍රීය කිරීම, කාර්යක්ෂමතාව වැඩිදියුණු කිරීම සහ දෝෂ අඩු කිරීම මගින් පිරිවැය අඩු කිරීමට AI ව්‍යාපාරවලට උදවු කළ හැක.
- **වැඩිදියුණු කළ තීරණ ගැනීම:** විශාල දත්ත ප්‍රමාණයක් විශ්ලේෂණය කිරීමෙන් සහ මිනිසුන්ට හඳුනා ගැනීමට අපහසු හෝ කළ නොහැකි රටා හඳුනා ගැනීමෙන් වඩා හොඳ තීරණ ගැනීමට AI හට ව්‍යාපාරවලට උදවු කළ හැක.
- **පාරිභෝගික තෘප්තිය වැඩි කිරීම:** වඩා හොඳ පාරිභෝගික සේවාවක් සැපයීම සහ පාරිභෝගික අවශ්‍යතා සපුරාලන නිෂ්පාදන සහ සේවා සංවර්ධනය කිරීම මගින් පාරිභෝගික තෘප්තිය වැඩිදියුණු කිරීමට AI ව්‍යාපාරවලට උදවු කළ හැක.



ජයනාත් සමරවික්‍රම
කථිකාචාර්ය
මූල්‍ය අධ්‍යයන අංශය
කැලණිය විශ්වවිද්‍යාලය

වාණිජය සහ තොරතුරු තාක්ෂණය

වර්තමානයේ ශීඝ්‍රයෙන් පරිණාමය වන ලෝකය තුළ, විවිධ විෂයයන් සඳහා තොරතුරු තාක්ෂණය (IT) ඒකාබද්ධ කිරීම වඩා වඩාත් අත්‍යවශ්‍ය වෙමින් පවතී. තොරතුරු තාක්ෂණය හේතුවෙන් සැලකිය යුතු පරිවර්තනයක් සිදු වූ එවැනි එක් විෂයක් වන්නේ වාණිජයයි. සාම්ප්‍රදායිකව මූල්‍ය ගනුදෙනු සහ ව්‍යාපාර මෙහෙයුම් වල මුල් බැස ඇති වාණිජ ප්‍රවාහය දැන් ඩිජිටල් යුගය වැලඳ ගනිමින් එහි භාවිතාවන් වැඩිදියුණු කිරීමට නැඹුරු වෙමින් පවතී.

වාණිජය සහ තොරතුරු තාක්ෂණය එකිනෙකට වෙනස් විෂයන් දෙකක් ලෙස පෙනුනද ඇත්ත වශයෙන්ම ඒවා එකිනෙකට සහසම්බන්ධ වේ. වාණිජය තුළ තොරතුරු තාක්ෂණය භාවිතාව යනු ගිණුම්කරණය සහ ව්‍යාපාර කළමනාකරණයේ සිට අලෙවිකරණය සහ පාරිභෝගික සබඳතා දක්වා විවිධ ව්‍යාපාර ක්‍රියාවලීන් විධිමත් කිරීමට, ස්වයංක්‍රීය කිරීමට සහ ප්‍රශස්ත කිරීමට තාක්ෂණය භාවිතා කිරීමයි. මෙම තාක්ෂණ භාවිතාව තුළින් සමස්ත වාණිජ ප්‍රවාහයට ප්‍රතිලාභ රැසක් ලැබී ඇත.

1. ඉහළ කාර්යක්ෂමතාව:

තොරතුරු තාක්ෂණය මෙවලම් සහ මෘදුකාංග වාණිජ අධ්‍යයනයට ඇතුළත් කිරීම මගින් දත්ත වේගයෙන් සැකසීමට, සංකීර්ණ ගණනය කිරීම් පහසුවෙන් සිදු කිරීමට සහ විශාල දත්ත පද්ධති කාර්යක්ෂමව කළමනාකරණය කිරීමට හැකියාව ලැබේ. මෙය ව්‍යාපාර තුළ තීරණ ගැනීමට සහ සම්පත් කළමනාකරණයට උපකාරී වේ.

2. තාර්කික දත්ත විශ්ලේෂණය:

තොරතුරු තාක්ෂණය මගින් නූතන ව්‍යාපාරික කටයුතු සඳහා විශ්ලේෂණාත්මක දත්ත උපයෝගී කර ගන්නේ කෙසේදැයි ඉගෙන ගත හැකිය. එමෙන්ම යාවත්කාලීන වූ දත්ත මගින් තීක්ෂණ අවබෝධයක් ලබා ගත හැකි අතර, ආයතනවලට වෙළඳපල වෙනස්කම් වලට වේගයෙන් අනුවර්තනය වීමට උපකාරී කරයි.

3. ගෝලීයකරණය සහ ඊ-වාණිජය (Globalization & E-commerce):

ඊ-වාණිජය සහ ගෝලීයකරණය ව්‍යාප්ත වීමෙන් අදහස් වන්නේ ව්‍යාපාර ගෝලීය පරිමාණයෙන් ක්‍රියාත්මක විය යුතු බවයි. තොරතුරු තාක්ෂණ කුසලතා මගින් මෙම ඩිජිටල් වෙළඳපල අවබෝධ කර ගැනීමට සහ සැරිසැරීමට, ජාත්‍යන්තර වෙළඳාම සහ ව්‍යාපාර ව්‍යාප්තියට ද පහසුකම් සපයයි.

4. ඩිජිටල් අලෙවිකරණය (Digital & Marketing):

තොරතුරු තාක්ෂණය ඩිජිටල් අලෙවිකරණ ලෝකයට දොර විවර කරයි, එහිදී ව්‍යාපාර ඵලදායී ලෙස ප්‍රවර්ධනය කිරීම සඳහා සමාජ මාධ්‍ය, ඩිජිටල් මාධ්‍ය සහ වෙනත් සබැඳි මෙවලම් භාවිතා කරන්නේ කෙසේදැයි ඉගෙන ගත හැකිය. ඩිජිටල්කරණය වෙමින් පවතින ලෝකයක එය තීරණාත්මක සාධකයකි.

5. ස්වයංක්‍රීයකරණය සහ AI (Automation & AI):

වාණිජ අංශය වැඩි වැඩියෙන් “ස්වයංක්‍රීයකරණය සහ කෘත්‍රීම බුද්ධිය” ක්‍රියාවලි විධිමත් කිරීමට සහ මානව දෝෂ අවම කිරීමට යොදා ගනී. මෙම තාක්ෂණයන් පිළිබඳ ඉගෙනීම ස්වයංක්‍රීයකරණය සහ කෘත්‍රීම බුද්ධිය අනුගමනය කරන කර්මාන්තවල රැකියා අවස්ථා ලබා ගැනීමට උපකාරී වේ.

5. මූල්‍ය තාක්ෂණය (Fintech):

Fintech මගින් අපගේ මූල්‍ය ගනුදෙනු හසුරුවන ආකාරයේ විප්ලවීය වෙනසක් සිදුකරයි. ජංගම බැංකු යෙදුම්වල සිට ක්‍රිප්ටෝ මුදල් වේදිකා දක්වා ගිණ්ටෙක් විසඳුම් අවබෝධ කර ගැනීමට සහ ක්‍රියාත්මක කිරීමට තොරතුරු තාක්ෂණ කුසලතා අත්‍යවශ්‍ය වේ. ගිණ්ටෙක් පිළිබඳ මනා දැනුමක් ඇති වාණිජ සිසුන් මූල්‍ය අංශයේ භූමිකාවන් සඳහා වඩා හොඳින් අනුවර්තනය වේ.

6. දුරස්ථ කාර්ය කුසලතා:

දුරස්ථ කාර්ය සඳහා තොරතුරු තාක්ෂණ ප්‍රවීණතාවය අත්‍යවශ්‍ය වන අතර එය මෑත වසරවල ප්‍රමුඛත්වය ගෙන ඇති ප්‍රවණතාවකි. තොරතුරු තාක්ෂණ දැනුම ඇති වාණිජ සිසුන් හට ඩිජිටල් වැඩ පරිසරයක් තුළ දියුණු වීමට ඉතා ඉහළ අවස්ථාවක් ඇත.

7. ව්‍යවසායකත්ව අවස්ථා:

තොරතුරු තාක්ෂණ ප්‍රවීණතාවය ඇති වාණිජ සිසුන්ට තාක්ෂණය මත පදනම් වූ ලෝකයක ව්‍යවසායකයින් ලෙස සාර්ථක වීමට වැඩි අවස්ථාවක් ඇත. ඔවුන්ට නවීන ඩිජිටල් නිෂ්පාදන සහ සේවා සංවර්ධනය කිරීමට සහ අලෙවි කිරීමට උපකාරී කල හැකිය.

මෙලෙස වාණිජ්‍යය තුළ තොරතුරු තාක්ෂණය භාවිතාවේ ඇති වැදගත්කම හේතුවෙන් වාණිජ විෂය ධාරාව තුළට තොරතුරු තාක්ෂණය හඳුන්වා දීම සඳහා, අධ්‍යාපන ආයතනවලට විශේෂිත පාඨමාලා පිරිනැමීම හෝ පවතින විෂයමාලාවලට තොරතුරු තාක්ෂණ මොඩියුල ඇතුළත් කිරීම සිදුකරමින් පවතී. අදාළ මෘදුකාංග සහ මෙවලම් සමඟ ප්‍රායෝගික පුහුණුව ඉගෙනුම් ක්‍රියාවලියේ අනිවාර්ය කොටසක් විය යුතුය. මීට අමතරව, කර්මාන්ත විශේෂඥයින්ගේ වැඩමුළු, සම්මන්ත්‍රණ සහ ආරාධිත දේශන මගින් වාණිජ්‍යයේ තොරතුරු තාක්ෂණ ප්‍රායෝගික යෙදුම් වෙත සිසුන්ට නිරාවරණය කළ හැකිය. මෙම අත්දැකීම් මගින් වටිනා තීක්ෂණ බුද්ධියක් ලබා දිය හැකි අතර වාණිජ අංශය තුළ තොරතුරු තාක්ෂණ ආශ්‍රිත වෘත්තීය මාර්ග ගවේෂණය කිරීමට සිසුන් පෙළඹවිය හැකිය.

අවසාන වශයෙන්, වාණිජ විෂය ධාරාවට තොරතුරු තාක්ෂණ ඒකාබද්ධ කිරීම හුදෙක් විකල්පයක් නොවේ; එය වර්තමාන ඩිජිටල් යුගයේ අවශ්‍යතාවයකි. එසේ කිරීම මගින් ඊළඟ පරම්පරාවේ වාණිජ වෘත්තීයයින් හට තාක්ෂණය මත පදනම් වූ ලෝකයක ස්ථාවර වීමට අවස්ථාවක් ලැබෙන අතර ඔවුන්ට නූතන ව්‍යාපාරික පරිසරයේ දිනෙන් දින වෙනස්වන අවශ්‍යතාවන්ට අනුවර්තනය වීමේ හැකියාව තිබිය යුතුය.

තාක්ෂණික දියුණුවට ප්‍රතිචාර වශයෙන් ව්‍යාපාර අඛණ්ඩව විකාශනය වන බැවින්, තොරතුරු තාක්ෂණයේ ශක්තිමත් පදනමක් තිබීම අද මෙන්ම අනාගතයේ දී වාණිජ වෘත්තීයයන්ගේ සාර්ථකත්වය සඳහා ප්‍රධාන වේ.



අර්.පී.එස්.සොයිසා
කථිකාවාරිය (සහකාර)
මූල්‍ය අධ්‍යයන අංශය
කැලණිය විශ්වවිද්‍යාලය

ව්‍යාපාර සංඛ්‍යාලේඛනය නිවැරදි කර ගැනීම...

තීරණ ගැනීමේදී ව්‍යාපාර සංඛ්‍යාලේඛනය තීරණාත්මක කාර්යභාරයක් ඉටුකරන අතර ව්‍යාපාර දත්ත තේරුම් ගැනීමට සහ අවබෝධයක් ලබාගැනීමට හැකියාව ලබාදෙයි. මෙම ලිපියෙන් දත්ත ඵලදායී ලෙස අවබෝධ කරගැනීම සහ භාවිතා කිරීම පිළිබඳ ව්‍යාපාර සංඛ්‍යාලේඛනයේදී වැදගත් වන ප්‍රශ්න කිහිපයක් අපි සොයා බලමු.

විස්තරාත්මක සංඛ්‍යාලේඛනවල අරමුණ කුමක්ද?

දත්ත සමූහයක අත්‍යවශ්‍ය ලක්ෂණ සාරාංශ කිරීමට සහ විස්තර කිරීමට විස්තරාත්මක සංඛ්‍යාලේඛන භාවිතා කරයි. එමගින් දත්තවලට පැහැදිලි හා සංක්ෂිප්ත නිරූපණයක් සපයන අතර දත්ත තේරුම් ගැනීමට සහ අර්ථ නිරූපණය කිරීමට පහසු වේ. සංඛ්‍යා ලේඛනවල පොදු මිනුම් අතරට කේන්ද්‍රික ප්‍රවණතාවයේ මිනුම් (මධ්‍යන්‍යය, මධ්‍යස්ථය හා මාතය) සහ අපකිරණ මිනුම් (පරාසය, මධ්‍යන්‍ය අපගමනය, චතුර්ථක අපගමනය, විචලතාව හා සම්මත අපගමනය) ඇතුළත් වේ.

කාල ශ්‍රේණි දත්තවල ප්‍රවණතා සහ රටා හඳුනා ගන්නේ කෙසේද?

කාල ශ්‍රේණි විශ්ලේෂණය යනු කාල නියම කළ දත්ත තුළ ප්‍රවණතා ස්ථාවර රටා සහ අනිකුත් ව්‍යුහයන් හඳුනාගැනීම සඳහා භාවිතා කරන වටිනා මෙවලමකි. අනුපකාර ක්‍රමය (Free hand method), අර්ධ මධ්‍යක ක්‍රමය (Semi average method), හා අඩුතම වර්ග ක්‍රමය (Least Square Method) උපනතිය නිමානය කිරීමටත්, සාමාන්‍ය ප්‍රතිශත ක්‍රමය හා චල මධ්‍යක ක්‍රමය (Moving average method) ආර්තව දර්ශක නිර්මාණය කිරීමටත් බහුලව යොදා ගැනේ. මෙවැනි ශිල්පීය ක්‍රම ව්‍යාපාරික කාල ශ්‍රේණි දත්ත සඳහා භාවිතා කිරීමෙන් වඩාත් අර්ථවත් තොරතුරු අනාවරණය කරගත හැක.

ව්‍යාපාර තුළ සම්භාවිතා ව්‍යාප්ති වල ඇති වැදගත්කම කුමක්ද?

සම්භාවිතා ව්‍යාප්තිය දී ඇති අවස්ථාවක විවිධ ප්‍රතිඵලවල සම්භාවිතාව ආදර්ශනය කරයි. ද්‍රව්‍ය කළමනාකරණය, අවදානම් තක්සේරුව සහ ඉල්ලුම් පුරෝකතනය කිරීම් වැනි කාර්යයන් සඳහා නිශ්චිත අවබෝධයක් ලබා ගැනීමට ඉතා වැදගත් වේ. ප්‍රමණ ව්‍යාප්තිය, හා poison ව්‍යාප්තිය යන සම්භාවිතා ව්‍යාප්ති ව්‍යාපාරික ක්ෂේත්‍රය තුළ බහුලව වශයෙන් භාවිතා වේ.

විචල්‍යයන් අතර සබඳතාව තක්සේරු කරන්නේ කෙසේද?

සහසම්බන්ධතාවය සහ ප්‍රතිගාමී විශ්ලේෂණය යනු විචල්‍යයන් අතර පවතින සම්බන්ධතාව පරීක්ෂා කිරීම සඳහා අත්‍යවශ්‍ය මෙවලම් වේ. සහසම්බන්ධතා සංගුණකය, රේඛීය සම්බන්ධතාවයේ ප්‍රබලත්වය හා දිශාව විවරණය කිරීමටත් ප්‍රතිගාමී විශ්ලේෂණය, එක් විචල්‍යයක් තවත් විචල්‍යයක් මත පදනම්ව පුරෝකතන කිරීමටත් උපකාරී වේ. විකිණුම් පුරෝකතනය, වෙළඳපල පර්යේෂණ සහ අවදානම් තක්සේරුව වැනි කාර්යයන් සඳහා මෙම ශිල්පීය ක්‍රම ඉතා වැදගත් වේ.

ව්‍යාපාරික තීරණ ගැනීම සඳහා සංඛ්‍යාන කල්පිත පරීක්ෂාවේ කාර්යභාරය කුමක්ද? කල්පිත පරීක්ෂාව මගින් නියැදි දත්ත මත පදනම්ව ජනගහනයක් පිළිබඳ නිගමනයන් කිරීමට අපට මඟ සලසයි. එය වඩාත් විශ්වාසදායක තීරණ ගැනීමේ හැකියාව ලබා දෙමින් උපකල්පන වලට කිරීමට හෝ ප්‍රතික්ෂේප කිරීමට උපකාරී වේ. අලෙවිකරණ පර්යේෂණ සහ තත්ව පාලන වැනි ක්ෂේත්‍ර වල දී කල්පිත පරීක්ෂණ වලට අදාළව එ-පරීක්ෂාව (t-test), කයි වර්ග පරීක්ෂාව (chi-square test) සහ විචලනය විශ්ලේෂණ වගුව (ANOVA) භාවිතා කරයි.

ව්‍යාපාර සංඛ්‍යාලේඛන තුළ දත්ත දූෂණකරණය වැළැක්වීමට අපට කෙසේද?

දූෂණකරණය හෙවත් දත්ත නිරූපණය සංකීර්ණ දත්ත පැහැදිලි සහ තේරුම් ගත හැකි ආකෘතියකින් ඉදිරිපත් කිරීමේ ප්‍රබල මාධ්‍යයක් සපයයි. ප්‍රස්තාර, තීරු සටහන්, සහ සංඛ්‍යාත වක්‍ර මගින් දත්ත ඉතා ඉක්මනින් ග්‍රහණය කර ගැනීමට හැකියාව ලබාදෙයි. Excel, Tableau සහ Power BI වැනි මෙවලම් දත්ත නිරූපණය කිරීම සඳහා ඔහුලව භාවිතා කරයි.

සංඛ්‍යාන නිගමනවල විශ්වාසනීයත්වය සහතික කරන්නේ කෙසේද?

සංඛ්‍යානමය සොයා ගැනීම්වල විශ්වාසනීයත්වය සහතික කිරීම සඳහා නියැදි ප්‍රමාණය නිර්ණය කිරීම සහ සංඛ්‍යානමය බල විශ්ලේෂණය ඉතා වැදගත් වේ. අධ්‍යයනයක් සඳහා අවශ්‍ය අවම නියැදි ප්‍රමාණය ගණනය කිරීමෙන් පර්යේෂකයන්ට සංඛ්‍යානමය වශයෙන් මෙන්ම ප්‍රායෝගිකව වැදගත් වන ප්‍රතිඵල ලබාගත හැක. වෙළෙඳපොළ පර්යේෂණ සහ අත්හදා බැලීම් වැනි ක්ෂේත්‍ර වල දී මෙය විශේෂයෙන් වැදගත් වේ.

සමස්තයක් වශයෙන් ගත් කල ව්‍යාපාර සංඛ්‍යානමය යනු දත්ත වලින් වටිනා තොරතුරු ලබාගැනීමට ආයතනවලට බලය දෙන අත්‍යවශ්‍ය ක්‍රමවේදයකි. විස්තරාත්මක සංඛ්‍යාලේඛන, සම්භාවිතා ව්‍යාප්ති, කල්පිත පරීක්ෂාව සහ දත්ත දූෂණකරණය වැනි සංකල්ප අවබෝධ කර ගැනීම සිදුකල හැක. මෙම මූලික මූලධර්ම අවබෝධ කර ගැනීම තුළින් ව්‍යාපාරයක් කාර්යක්ෂමව වැඩි දියුණු කිරීම, වෙළෙඳපොළ තරගකාරීත්වයට සාර්ථකව මුහුණ දීම සහ වඩාත් ලාභදායීක තීරණ ගැනීම් සිදු කල හැක.



අනීශා යාපා
කථිකාවාරිය (සහකාර)
මූල්‍ය අධ්‍යයන අංශය
කැලණිය විශ්වවිද්‍යාලය

ව්‍යාපාර අධ්‍යයනය

■ ප්‍රශ්න අංක 1 සිට 30 තෙක් වූ ප්‍රශ්නවලට නිවැරදි පිළිතුර තෝරා, එහි අංකය ප්‍රශ්නය ඉදිරියෙන් ඇති තිත් ඉර මත ලියන්න.

01 ව්‍යාපාරයක පදනමට අදාළ මූලිකාංග අනුපිළිවෙලින් දක්වා ඇති පිළිතුර කුමක්ද?

- 1) ගනුදෙනුකරු / ලාභය / නිෂ්පාදනය / අවශ්‍යතා - වුවමනා
- 2) ගනුදෙනුකරු / අවශ්‍යතා - වුවමනා / නිෂ්පාදනය / ලාභය
- 3) ලාභය / නිෂ්පාදනය / අවශ්‍යතා - වුවමනා / ගනුදෙනුකරු
- 4) නිෂ්පාදනය / ලාභය / ගනුදෙනුකරු / අවශ්‍යතා - වුවමනා
- 5) අවශ්‍යතා - වුවමනා / ලාභය / ගනුදෙනුකරු / නිෂ්පාදනය (.....)

02 ව්‍යාපාර කෙරෙහි උනන්දුවක් දක්වන පාර්ශ්ව කිහිපයක් පහත දැක්වේ.

A අයිතිකරුවෝ B ණය හිමියෝ C සේවකයෝ D පාරිභෝගිකයෝ E සැපයුම්කරුවෝ
F විභව ආයෝජකයෝ G රජය H ප්‍රජාව I කළමනාකරුවෝ

ඉහත පාර්ශ්ව අතුරෙන් අභ්‍යන්තර පරිසරය නියෝජනය කරන පාර්ශ්ව ඇතුළත් වරණය තෝරන්න.
1) A,B,C 2) A,D,I 3) B,D,H 4) F,G,H 5) A,C,I (.....)

03 ව්‍යාපාරවල සමාජයීය වගකීම් හා ආචාරධර්ම සඳහා නිදසුන් කිහිපයක් පහත දැක්වේ.

- A - සේවකයින්ට වෘත්තීමය ආරක්‍ෂාව ලබාදීම
- B - අයිතිකරුවන්ට සාධාරණ ඉපැයීමක් ලබාදීම
- C - පාරිභෝගිකයින්ට සත්‍ය පමණක් සන්නිවේදනය කිරීම
- D - වෙනත් පාර්ශ්වයන්ට හානි නොවන ලෙස කටයුතු කිරීම
- E - වෙනත් ව්‍යාපාර සමග සාධාරණව හා අවංකව තරග කිරීම

ඉහත සඳහන් ඒවායින් ව්‍යාපාර ආචාරධර්ම සඳහා නිදසුන් වන්නේ,

- 1) A, B හා C පමණි 2) A, C හා D පමණි 3) B, C හා D පමණි
- 4) B, D හා E පමණි 5) C, D හා E පමණි (.....)

04 මූල්‍ය ප්‍රතිපත්තියට සහ ගිස්කල් ප්‍රතිපත්තියට අදාළ අයිතම පහත දැක්වේ.

A පොලී අනුපාත B වර්තන වියදම් පාලනය
C බදු සහ දඩ මුදල් D විවිධ වෙළඳපළ කටයුතු

මේවායින් මූල්‍ය ප්‍රතිපත්තියට සහ ගිස්කල් ප්‍රතිපත්තියට අදාළ අයිතම පිළිවෙලින් දක්වා ඇත්තේ,

- 1) A, B සහ C, D තුළය. 2) A, C සහ B, D තුළය. 3) A, D සහ B, C තුළය.
- 4) B, C සහ A, D තුළය. 5) B, D සහ A, C තුළය. (.....)

05 වර්තමානයේදී ව්‍යාපාර සමාජ වගකීම පිළිබඳ ගැඹුරින් සාකච්ඡා කළ ද ඇතැම් ව්‍යාපාරකයින් ව්‍යාපාරික සමාජ වගකීම් පැහැර හැරීමට බලපා ඇති හේතුවක් නොවන්නේ?

- 1) කෙටිකාලීන ආදායම් පිළිබඳ අවධානය.
- 2) සේවකයින්ද දැනුවත් නොකිරීම
- 3) කාලීන විසඳුම් සොයා යාම.
- 4) නෛතික දෘෂ්ටිකෝණයකින් විමසීම
- 5) අයිතිකරුවන්ගේ ප්‍රතිලාභ පිළිබඳව පමණක් අවධානය. (.....)

06 රාජ්‍ය ආදායම තුළ විවිධ වූ බදු වර්ග දැක්විය හැකිය. ඒ අතරින් සෘජු බදු පමණක් දැක්විය හැකි කාණ්ඩය තෝරන්න.

- 1) ආදායම් බදු, සමාගම් ලාභ බදු, ප්‍රාග්ධන ලාභ බදු.
- 2) පොලී මත ලාභ බදු, අපනයන බදු, ආදායම් බදු.
- 3) රඳවාගැනීමේ බදු, සමාගම් ලාභ බදු, නිෂ්පාදන බදු.
- 4) පුද්ගලික ආදායම් බදු, සමාගම් ලාභ බදු, රේගු බදු
- 5) ප්‍රාග්ධන ලාභ බදු, සමාගම් ලාභබදු, අපනයනබදු (.....)

07 පැතුම් සතු ලක්ෂ 50ක නිවස සඳහා ගිණි රක්ෂණ ආවරණයක් ලබාගෙන ඇත. පසුගිය කාලයේදී ඇති වූ ගංවතුරෙන් ඔහුගේ නිවසට හානි සිදු වූ අතර ඒ සඳහා ඔහු රක්ෂණ වන්දි ඉල්ලා සිටිය ද වන්දි ගෙවීම රක්ෂණ ආයතනය විසින් ප්‍රතික්ෂේප කර ඇත. එසේ ප්‍රතික්ෂේප කිරීමට අදාළ රක්ෂණ මූලධර්මය වන්නේ,

- 1) උපරිම විශ්වාසයයි. 2) රක්ෂණ ගිණිකමයි.
- 3) හානිපූරණයයි. 4) ආසන්නතම හේතුවයි.
- 5) ආදේශනයයි. (.....)

08 සංකල්පනාත්මක කුසලතා පිළිබඳ වඩාත් නිවැරදි ප්‍රකාශය තෝරන්න.

- 1) නව අදහස් විශ්ලේෂණය කිරීමේ, ගැටලු විසඳීමේ හා අන් අය සමග සහයෝගයෙන් කටයුතු කිරීමේ හැකියාව හා තීක්ෂණව සිතීමේ හැකියාවයි.
- 2) අභ්‍යන්තර හා බාහිර පරිසරය පිළිබඳ ව අවබෝධය හා ගැටලු තේරුම් ගැනීමේ හා විසඳීමේ හැකියාවයි.
- 3) සංවිධානයක පරිසරය පිළිබඳ අවබෝධය, ගැටළු තේරුම් ගැනීමේ හා විසඳීමේ හැකියාව, දුරදර්ශීව හා තීක්ෂණව සිතීමේ හැකියාවයි.
- 4) සංවිධාන පරිසරය පිළිබඳ ව අවබෝධය, ගැට තේරුම් ගැනීමේ හා විසඳීමේ හැකියාව, දුරදර්ශීව හා කාර්යයන් කිරීමේ හැකියාවයි.
- 5) ගැටලු තේරුම් ගැනීමේ හා විසඳීමේ හැකියාව, සේවක සහයෝගීතාව සහ යම් කාර්යයක් කිරීමට පැවතිය යුතු සුවිශේෂ උනුම, පලපුරුද්ද හා හැකියාවයි. (.....)

09 ව්‍යාපාර සැලැස්මක මූලිකාංග X වලින් ද, ඒවායෙහි ඇතුළත් කරනු ලබන මූලික තොරතුරු Y වලින් ද පහත වගුවෙන් දැක්වේ.

X	Y
A. විධායක සාරාංශය	a. භාණ්ඩ හා සේවා පිළිබඳව
B. ව්‍යාපාර විස්තරය	b. කම්හල් පිරිසත සැලැස්ම
C. මෙහෙයුම් සැලැස්ම	c. තරගකාරීත්ව විශ්ලේෂණය
D. අලෙවිකරණ සැලැස්ම	d. තනතුරු හා වගකීම්
E. මානව සම්පත් සැලැස්ම	e. උත්පාදන හා මෙහෙවර

X හා Y තීරු නිවැරදි ව ගැළපූ විට පිළිතුරු වන්නේ,

- 1) e, a, b, c, d
- 2) b, c, d, a, e
- 3) c, b, d, a, e
- 4) b, c, d, e, a
- 5) d, c, a, e, b (.....)

10 ව්‍යාපාරයකට මූල්‍ය සම්පාදනය කර ගත හැකි මාර්ග කිහිපයක් පහත දැක්වේ.

- A. කොටස් නිකුත් කිරීම
- B. බැංකු අයිරා
- C. බැංකු ණය
- D. කල් බදු
- E. රඳවාගත් ලාභ
- F. අතිරික්ත වත්කම් විකිණීම

ඉහත මූල්‍ය සම්පාදන මාර්ග අතුරින්, බාහිර, දිගුකාලීන හා වකු මූල්‍ය සම්පාදන මාර්ග පමණක් ඇතුළත් පිළිතුර තෝරන්න.

- 1) A හා B
- 2) B හා C
- 3) C හා D
- 4) D හා E
- 5) E හා F

(.....)

11 2007 අංක 07 දරන සමාගම් පනතට අනුව කොටස් නිකුත් කිරීම සහ කොටස් මත වූ ඇරයුම් කිරීම සම්බන්ධයෙන් සමාගමට ලැබුණු හෝ ලැබිය යුතු හා ගෙවිය යුතු සියලුම මුදල් වල එකතුව,

- 1) කොටස් ප්‍රාග්ධනය වේ.
- 2) නිකුත් කළ කොටස් ප්‍රාග්ධනය වේ.
- 3) අවම සහභාග මුදල වේ.
- 4) ප්‍රකාශ කළ ප්‍රාග්ධනය වේ.
- 5) ආරම්භක කොටස් ප්‍රාග්ධනය වේ

(.....)

12 පහත වගුවේ X වලින් ප්‍රමිති සංකේත දැක්වෙන අතර, Y වලින් ප්‍රමිති නාම දැක්වේ.

X

Y

- | | |
|-----------------------|------------------------------------|
| A. ISO 9001 : 2008 | 1. ආහාර ආරක්ෂණ කළමනාකරණය |
| B. ISO 14001 : 2004 | 2. තොරතුරු ආරක්ෂණ කළමනාකරණය |
| C. ISO 22000 : 2005 | 3. වෘත්තීය සෞඛ්‍ය සුරැකි කළමනාකරණය |
| D. ISO 27000 | 4. පරිසර කළමනාකරණ පද්ධති |
| E. OHSAS 18001 : 2007 | 5. තත්ත්ව කළමනාකරණ පද්ධති |

ඉහත තොරතුරු නිවැරදිව ගලපා ඇති පිළිතුරු කුමක්ද ?

- 1) 1, 2, 3, 4, 5
- 2) 1, 3, 4, 5, 2
- 3) 5, 4, 2, 1, 3
- 4) 1, 2, 5, 4, 3
- 5) 3, 1, 5, 4, 2

(.....)

13 පහත වගුවේ X හා Y තීරුවල වෙත්පත් ගනුදෙනු වලට අදාළ තොරතුරු කීපයක් දැක්වේ.

X

Y

- | | |
|--------------------------|----------------------------|
| A වර්ග | 1. අණකරු, අණලද්දා, ආදායකයා |
| B සම්බන්දවන පාර්ශවකරුවන් | 2. සාමාන්‍ය, විශේෂ |
| C රේඛණය කිරීම | 3. ධාරක, විධාන |

ඉහත තොරතුරු නිවැරදිව ගලපා ඇති පිළිතුරු කුමක්ද ?

- 1) 1, 3, 2
- 2) 3, 2, 1
- 3) 2, 1, 3
- 4) 3, 1, 2
- 5) 1, 2, 3

(.....)

14 ශ්‍රී ලංකාවේ මූල්‍ය පද්ධතියේ සංයුතිය නිවැරදිව දැක්වෙන පිළිතුර තෝරන්න.

- 1) වාණිජ බැංකු, භාණ්ඩාගාර බිල්පත්, තත්කාලීන දළ පියවුම් පද්ධතිය, මුදල් වෙළෙඳපොළ, ශ්‍රී ලංකා මහ බැංකුව
- 2) මූල්‍ය උපකරණ, මූල්‍ය ආයතන, මුදල් වෙළෙඳපොළ, ශ්‍රී ලංකා මහ බැංකුව, තත්කාලීන දළ පියවුම් පද්ධතිය
- 3) මූල්‍ය ආයතන, මූල්‍ය යටිතල පහසුකම්, මූල්‍ය උපකරණ, මූල්‍ය වෙළෙඳපොළ, මූල්‍ය නියාමනය
- 4) ශ්‍රී ලංකා මහ බැංකුව, වාණිජ බැංකු, විශේෂිත බැංකු, මූල්‍ය සමාගම්, මූල්‍ය උපකරණ
- 5) මූල්‍ය උපකරණ, මූල්‍ය ආයතන, තත්කාලීන දළ පියවුම් පද්ධතිය, මුදල් වෙළෙඳපොළ, ශ්‍රී ලංකා මහ බැංකුව

(.....)

15 සාකච්ඡාවාදී අලෙවිකරණ සංකල්පයෙහි ප්‍රධාන කොටස් X තීරුවේ ද, එම කොටස් මගින් අවධානය යොමු කරන අංග Y තීරුවේ ද දැක්වේ.

X

- (i) සම්බන්ධතා අලෙවිකරණය
- (ii) සමෝධානික අලෙවිකරණය
- (iii) අභ්‍යන්තර අලෙවිකරණය
- (iv) කාර්යසාධන අලෙවිකරණය

Y

- A - ආයතනයේ සියලු ම සේවකයින්
- B - සමාජය හා පරිසරය
- C - ඇල්මැති පාර්ශව
- D - අලෙවිකරණ මිශ්‍රය

X තීරුවේ සඳහන් අලෙවිකරණ සංකල්ප Y තීරුවේ සඳහන් අංග සමග නිවැරදිව අනුපිළිවෙලින් ගලපා ඇති පිළිතුර තෝරන්න.

- 1) A , B, C, D
- 2) B, C, A, D
- 3) B, C, D, A
- 4) C, A, D, B
- 5) C, D, A, B

(.....)

16 සීමිත විශ්මි ඇපරල්ස් (පොද්) සමාගම තම සේවක සේවිකාවන් සඳහා පවත්වන ලද වාර්ෂික සුභද හමුවේ දී එම ආයතනයේ කළමනාකාර අධ්‍යක්ෂවරය විසින් පසුගිය වසරේ විවිධ දත්ත පෙන්වූ සේවක සේවිකාවන් ඇගයීමට ලක් කරමින් ඔවුන්ට තෂාන ප්‍රදානය කරන ලදී. කළමනාකාර අධ්‍යක්ෂවරය කටයුතු කළ ප්‍රධාන භූමිකාව හා ඊට අදාළ උප භූමිකාව නිවැරදි ව දැක්වෙන පිළිතුරු තෝරන්න.

- 1) අන්තර් පුද්ගල භූමිකාව - ප්‍රධානියා
- 2) තොරතුරු භූමිකාව - තොරතුරු බෙදා හරින්නා
- 3) තීරණ භූමිකාව - සම්පත් වෙන්කර දෙන්නා
- 4) අන්තර් පුද්ගල භූමිකාව - නායකයා
- 5) තීරණ භූමිකාව - ව්‍යවසායකයා

(.....)

17 නිෂ්පාදන ආයතනයක කිසියම් භාණ්ඩයක නිෂ්පාදනයට අදාළ තොරතුරු පහත දැක්වේ.

- ඒකකයක ස්ථාවර පිරිවැය - රු. 50
- මුළු විචල්‍ය පිරිවැය - රු. 100 000
- අපේක්ෂිත නිෂ්පාදන ඒකක - 1000

මෙම නිෂ්පාදන ආයතනය නිෂ්පාදන පිරිවැයට රු. 50 ක ලාභයක් එකතු කර මිල නියම කිරීමට අපේක්ෂා කරයි. මෙහි සමච්ඡේද ලක්ෂයට අදාළ නිෂ්පාදන ඒකක ගණන කීයද?

- 1) 100 කි. 2) 200 කි. 3) 500 කි.
- 4) 1 000 කි. 5) 2000 කි

(.....)

18 පරිගණක ආධාරක නිර්මාණකරණය (CAD) නිසා ඇති හොඳ වාසිය කුමක්ද?

- 1) අපතය අඩුවීම.
- 2) ශුන්‍ය දෝෂ නිෂ්පාදිත බිහිවීම.
- 3) නිෂ්පාදනය වේගවත් වීම.
- 4) සේව්‍ය - සේවක සබඳතා වර්ධනය වීම.
- 5) එලෙදැයිතාව වර්ධනය වීම

(.....)

19 පහත වගුවේ X තීරුව මගින් නිෂ්පාදන ක්‍රම ද Y තීරුව මගින් එම නිෂ්පාදන සඳහා නිදසුන් ද දැක්වේ.

X

- A - කාර්ය
- B - කාණ්ඩ
- C - ප්‍රවාහ

Y

- 1 - මනාලියකගේ මිම්මට අනුව මංගල ඇදුමක් මැසීම
- 2 - යුධ හමුදාවට නිල ඇඳුමක් මැසීම
- 3 - ඇණවුමකට අනුව නිවාස සැලසුමක් ඇඳීම
- 4 - පාසලක ශිෂ්‍ය නායක කණ්ඩායම සඳහා පදක්කම් සෑදීම
- 5 - ජෑම් නිෂ්පාදන ආයතනයක් සිහි රහිත ජෑම් වර්ගයක් වෙළෙඳපොළට ඉදිරිපත් කිරීම සඳහා නිපදවීම
- 6 - වොක්ලට් නිෂ්පාදන ආයතනයක් අපනයනය සඳහා වොක්ලට් නිපදවීම

නිෂ්පාදන ක්‍රම හා ඊට අදාළ නිදසුන් නිවැරදිව ගලපා ඇති කාණ්ඩය තෝරන්න.

- 1) A - 1 , 2 B - 3 , 4 C - 5 , 6
- 2) A - 1 , 3 B - 2 , 4 C - 5 , 6
- 3) A - 1 , 4 B - 3 , 5 C - 2 , 6
- 4) A - 3 , 4 B - 5 , 6 C - 1 , 2
- 5) A - 5 , 6 B - 1 , 2 C - 3 , 4

(.....)

20 තීරණ ගැනීමේ බලතල පහළ මට්ටමේ තනතුරු දරන නිලධාරීන්ට පැවරීම සහ තීරණ ගැනීමේ බලතල ඉහළ කළමනාකාරීත්වය රඳවා ගැනීම පිළිවෙලින් හඳුන්වන්නේ,

- 1) මධ්‍යගතකරණය හා විමධ්‍යගතකරණය යනුවෙනි.
- 2) විමධ්‍යගතකරණය හා මධ්‍යගතකරණය යනුවෙනි.
- 3) මධ්‍යගතකරණය හා දෙපාර්තමේන්තුකරණය යනුවෙනි.
- 4) දෙපාර්තමේන්තුකරණය හා මධ්‍යගතකරණය යනුවෙනි.
- 5) පාලන අවකාශය හා මධ්‍යගතකරණය යනුවෙනි.

(.....)

21 සේවක වගකීම් හා සේවක යුතුකම් කිහිපයක් පහත දැක්වේ.

- A. ආයතනයේ කීර්තිනාමය ආරක්ෂා කිරීම.
- B. සංවිධානයේ අරමුණු ඉටුවන පරිදි වැඩ කිරීම.
- C. ආයතනයේ වැඩි දියුණුව සඳහා උනන්දු වීම.
- D. වැඩ ස්ථානයේ යහපත් ලෙස හැසිරීම.
- E. රැකියා ගිවිසුමට අනුව කාර්ය ඉටු කිරීම
- F. ආයතනයේ කීර්තිනාමය ආරක්ෂා කිරීම හා වර්ධනය කිරීම.

ඉහත සඳහන් දෑ අතරින් සේවක වගකීම් පමණක් ඇතුළත් වර්ණය තෝරන්න.

- 1) A,C,D
- 2) D,E,F
- 3) A,C,F
- 4) A,D,E
- 5) B,D,E

(.....)

22 කළමනාකරණය හා සම්බන්ධ වගන්ති කිහිපයක් පහත දැක්වේ.

- A කාර්යඵල මැණීම හා විචලනය හඳුනා ගැනීම ... (i)... ට අයත් කාර්යයකි.
- B අභිප්‍රේරණය හා සන්නිවේදනය ... (ii)... ට අයත් කාර්යයකි.
- C අධිකාරිය හා වගකීම් පැවරීම ... (iii)... ට අයත් කාර්යයකි.
- D පරමාර්ථ හා අරමුණු ස්ථාපිත කිරීම ... (iv)... ට අයත් කාර්යයකි.

ඉහත වගන්තිවල නිස්තැන් පිරවීම සඳහා යොදාගත හැකි සංකල්ප කිහිපයක් පහත දැක්වේ.

- a) කළමනාකරණය b) සැලැස්සුම්කරණය
- c) අලෙවිකරණය d) නායකත්වය
- e) සංවිධානකරණය f) පාලනය

i, ii, iii හා iv නිස්තැන් පිරවීම සඳහා ගැළපෙන පිළිතුර අනුපිළිවෙළින් දැක්වෙන වරණය තෝරන්න.

- 1) a, d, e, f
- 2) f, d, b, c
- 3) f, d, e, b
- 4) b, c, d, f
- 5) e, a, b, d

(.....)

23 පහත දැක්වෙන්නේ මුදලේ කාර්යයන් හා මුදලේ ගුණාංග කිහිපයකි.

- A බෙදෙන සුළුබව B විනිමය මාධ්‍යයක් වීම.
- C ආරක්ෂණ සංකේත D සමජාතීය බව
- E වටිනාකමේ මිම්මක් වීම. F විලම්භිත ගෙවීම් මාධ්‍යයක් වීම

මින් මුදලේ කාර්යයන් පමණක් ඇතුළත් කාණ්ඩය වන්නේ,

- (1) A, B, F (2) A, C, D (3) B, C, D
- (4) B, E, F (5) C, D, E

(.....)

24 ශ්‍රී ලංකා මහ බැංකුවේ අරමුණු හා කාර්ය කිහිපයක් පහතින් දැක්වේ.

- A. ආර්ථික හා මිල ස්ථායීතාව ඇති කිරීම. B. මුදල් ප්‍රතිපත්තිය මෙහෙය වීම.
- C. මූල්‍ය ක්‍රමයේ ස්ථායීතාව ඇති කිරීම. D. ව්‍යවහාර මුදල් නිකුත් කිරීම.
- E. රජයේ මූල්‍ය හා ආර්ථික උපදේශකයා ලෙස කටයුතු කිරීම.

ඉහත ඒවා අතරින් ශ්‍රී ලංකා මහ බැංකුවේ ප්‍රධාන අරමුණු ද්විත්වය වන්නේ,

- 1) A හා E ය.
- 2) B හා D ය.
- 3) C හා E ය.
- 4) A හා C ය.
- 5) D හා E ය.

(.....)

25 දත්ත තොරතුරු බවට පත් කිරීමේ උපාංගයක් නොවන්නේ,

- 1) ආදානයයි. 2) වර්ගීකරණයයි. 3) ගබඩාකිරීමයි.
- 4) ප්‍රතිදානයයි. 5) ප්‍රතිපෝෂණයයි

(.....)

26 පහත සඳහන් කරුණු අතරින් ව්‍යාපාර ගෝලීයකරණය කිරීම සඳහා ප්‍රධාන සාධකය වන්නේ කුමක්ද?

- 1) යුරෝපා සංගමය 2) තාක්ෂණය
- 3) NAFTA වෙළඳ ගිවිසුම 4) රටවල්වල ජනවාර්ගික විවිධත්වය වැඩිවීම.
- 5) වර්ධනය වූ දේශපාලන ස්ථාවරතාව

(.....)

27 ආර්ථික ඇණවුම් ප්‍රමාණය ගණනය කරනුයේ,

- 1) රඳවා ගැනීමේ පිරිවැය හා මුළුතොග පිරිවැය අවම කර ගැනීමටය.
- 2) මුළු තොග පිරිවැය අවම කිරීමට හා මුළු ඉල්ලුම සොයා ගැනීමටය.
- 3) තොග මිල කිරීමට හා ඇණවුම් පිරිවැය අවම කර ගැනීමටය.
- 4) තොග මිල කිරීමට හා ඇණවුම් ප්‍රමාණය අවම කර ගැනීමටය.
- 5) තොග රඳවා ගැනීමේ හා ඇණවුම් කිරීමේ පිරිවැය අවම කර ගැනීමටය (.....)

28 නිෂ්පාදන ආයතනයක ගුණාත්මක පාලනය හා තොග පාලනය සඳහා භාවිත කෙරෙන ශිල්ප ක්‍රම කිහිපයක් පහත දැක්වේ.

- | | |
|--------------------------------|------------------------------------|
| A. තත්ත්ව ආරක්ෂණය | E. ද්විත්ව භාජන ක්‍රමය |
| B. ABC විශ්ලේෂණය | F. පරිගණක වැඩසටහන් |
| C. තත්ත්ව කව | G. තොග මට්ටම් නිශ්චය කිරීමේ ක්‍රමය |
| D. සංඛ්‍යානමය ක්‍රියාවලි පාලනය | H. ශූන්‍ය දෝෂ |

ඉහත ශිල්ප ක්‍රම අතුරින් ගුණාත්මක පාලන ශිල්ප ක්‍රම පමණක් ඇතුළත් වරණය තෝරන්න.

- 1) A, E, G, H
- 2) B, D, F, G
- 3) B, E, G, H
- 4) A, C, D, H
- 5) A, D, E, F (.....)

29 අලෙවිකරණ දර්ශනයේ විකාශනයට අදාළ සංකල්ප පිළිබඳ ව නිවැරදි පිළිතුර තෝරන්න.

- 1) භාණ්ඩ හා සේවාවල ගුණාත්මක පිළිබඳ ව අවධානය යොමු නොකරන අතර නිෂ්පාදන ධාරිතාව ඉහළ නැංවීම කෙරෙහි පමණක් වීම නිෂ්පාදන සංකල්පය වේ.
- 2) උසස් ගුණාත්මක භාණ්ඩ නිපදවා සාධාරණ මිලකට වෙළෙඳපොළට සැපයීම මගින් පමණක් ඒවාට ඉල්ලුමක් ඇතිවීම අලෙවිකරණ සංකල්පයයි.
- 3) පාරිභෝගික අවශ්‍යතා හා වුවමනා පිළිබඳ දැඩි අවධානයක් යොමු කරමින් විවිධ විකුණුම් ප්‍රවර්ධන ක්‍රම අනුගමනය කිරීමෙන් ඉල්ලුම වැඩි කරගත හැකි වීම නිෂ්පාදන සංකල්පයයි.
- 4) අලෙවිකළ හැකි භාණ්ඩ නිෂ්පාදනය කරනවා වෙනුවට නිෂ්පාදනය කළ හැකි භාණ්ඩ නිපදවා අලෙවිකිරීම විකුණුම් සංකල්පයයි.
- 5) කෙටිකාලීනව අලෙවිකරණ උපක්‍රම භාවිත කරමින් කෙටිකාලීනව ගනුදෙනුකරුවන්ට වටිනාකමක් ලබාදීම සමාජීය අලෙවිකරණ සංකල්පයයි. (.....)

30 පරිගණක පද්ධති මුහුණපාන අවදානම් අවම කර ගැනීමට ගත හැකි ක්‍රියාමාර්ගයක් නොවන්නේ,

- 1) අගුල් පද භාවිතය(password).
- 2) භාවිත කරන්නාගේ නාමය යොදා ගැනීම(user name or ID).
- 3) තොරතුරු පිටපත් පිටත ස්ථානයක ගබඩා කිරීම.
- 4) ජනප්‍රිය සන්නමක් සහිත පරිගණක යොදා ගැනීම.
- 5) පරිගණක ඒකක සඳහා ආරක්ෂිත දොරගුලු භාවිතය. (.....)

■ ප්‍රශ්න අංක 31 සිට 40 තෙක් වූ ප්‍රශ්නවලට පිළිතුරු සැපයීමේදී සුදුසු වචන යොදා ගිස්තැන් පුරවන්න.

31 ව්‍යාපාර කාර්මාන්ත මූලය අනුව කෘෂිකර්මය,.....හා..... වශයෙන් ද නිෂ්පාදනයේ ස්වභාවය අනුව ප්‍රාථමික,.....හා..... වශයෙන් ද වර්ග කරනු ලබයි.

32
(අ) තිරසර සංවර්ධනය මූලිකාංග තුන වන්නේ ආර්ථික හා සංවර්ධනය වේ.
(ආ) රටක මුදල් සැපයුම පාලනය කරනුයේ ප්‍රතිපත්තිය මගින් වන අතර, මුදල් සැපයුම හා පොදු මිල මට්ටම අතර ඇත්තේ සම්බන්ධතාවකි.

33 නිෂ්පාදකයාගේ සිට පාරිභෝගිකයා දක්වා සිදුවන හාණ්ඩ හා සේවා හුවමාරුවට අදාළ සමස්ත ක්‍රියාවලිය..... ලෙස හැඳින්විය හැකි ය.

34 පහත දැක්වෙන්නේ එක්තරා කිරිපිටි ඇසුරුමක දක්නට ලැබුණු ලාංඡන දෙකකි.



1



2

ඉහත අංකයේ 1 ලාංඡනයේ ඇති HACCP හා අංක 2 ලාංඡනයේ ඇති GMP යන කෙටියෙදුම් වලින් කියවෙන්නේ කුමක්දැයි ලියන්න.

1. 2.

35 රාජ්‍ය සේවා අඛණ්ඩව පවත්වා ගෙන යාම සඳහා දරන වියදම් ලෙසත් දිගුකාලීන ආයෝජන සඳහා රජය දරන වියදම් ලෙසත් හඳුන්වනු ලබයි.

36 දුම්කොළ හා මධ්‍යසාර බදු දෙපාර්තමේන්තුව මගින් අය කරන අතර උපයන විට ගෙවීම් බදු දෙපාර්තමේන්තුව විසින් අය කරයි.

37 ආදායම් වැඩිවන අනුපාතයට අනුව අයකරන බදු අනුපාතය ද වැඩි කිරීම බදු නොවන අතර පහළ ආදායම් ලබන අයගෙන් වැඩි බද්දක් අයකිරීම.....බදු ලෙසද හැඳින්වේ.

38 දේශීය ආර්ථිකය තුළ මිල ස්ථායීතාවය පවත්වා ගැනීම ප්‍රතිපත්තියේ මූලික අරමුණ වන අතර සාර්ව ආර්ථික ස්ථායීතාවය ආරක්ෂා කිරීම ප්‍රතිපත්තියේ මූලික අරමුණ වේ.

39 දළ ජාතික නිෂ්පාදිතය තුළ ප්‍රාථමික අංශය කාර්මාන්ත නියෝජනය කරන අතර ද්විතීක අංශය කාර්මාන්ත නියෝජනය කරයි

40 රජයේ ආදායම ආදායම හා ආදායම් ලෙස කොටස් දෙකකි.

■ ප්‍රශ්න අංක 41 සිට 50 තෙක් වූ ප්‍රශ්නවලට නිශ්චිත පිළිතුරු සපයන්න

41 පාරිභෝගික අයිතිවාසිකම් 4 ක් ලියන්න.

- (1)
- (2)
- (3)
- (4)

42 රක්ෂණ ගිවිසුමක් වලංගු වීම සඳහා පැවතිය යුතු මූලිකාංග හතරක් සඳහන් කරන්න.

- (1)
- (2)
- (3)
- (4)

43 දත්ත සැකසීමේදී භාවිත කරන තාක්ෂණය වර්ග කළ හැකි ආකාර හතර නම් කරන්න

- (1)
- (2)
- (3)
- (4)

44 අලෙවිකරණ මිශ්‍රයේ විචල්‍යයන් 4 ක් නම් කරන්න.

- (1)
- (2)
- (3)
- (4)

45 හෙන්ට් මින්ස්බර්ග්ගේ වර්ගීකරණයට අනුව කළමනාකරුවෙකුට අදාළ තීරණ භූමිකාවෙහි උපභූමිකා හතර නම් කරන්න.

- (1)
- (2)
- (3)
- (4)

46 හවුල් ව්‍යාපාර සම්බන්ධයෙන් පහත කාර්යයන්ට අදාළ හිඟ ඉදිරියෙන් ඇති තිත් ඉර මත ලියා දක්වන්න.

- (1) රු. 1000 කට වැඩි ප්‍රාග්ධනයක් යෙදීම.
- (2) ලාභ අලාභ බෙදා ගැනීම.
- (3) උපරිම හවුල්කරුවන් සංඛ්‍යාව
- (4) ව්‍යාප්ත නමකින් පවත්වාගෙන යාම

47 සුළු හා මධ්‍ය පරිමාණ ව්‍යාපාර හඳුනා ගැනීම සඳහා ශ්‍රී ලංකාවේ විවිධ ආයතන භාවිත කරන විවිධ නිර්ණායක කිහිපයක් පහත වගුවේ දැක්වේ. එම නිර්ණායක ඉදිරිපත් කළ ආයතනය නම් කරන්න.

නිර්ණායකය

ප්‍රකාශයට පත් කළ ආයතනය

- | | |
|---|-------|
| 1. ස්ථිර සේවක සංඛ්‍යාව 500 අඩු, | |
| 2. විදුලිබල ධාරිතාව කිලෝවොට් ඇම්පියර් 500 අඩු | |
| 3. සේවක සංඛ්‍යාව 250 අඩු ව්‍යාපාර | |
| 4. ආයෝජිත ප්‍රාග්ධනය රුපියල් මිලියන 200 අඩු | |


48 අන්තර් ජාතික වෙළෙඳාමේ දී නිදහස් වෙළෙඳාමට බලපාන තීරුවකු නොවන බාධා හතරක් නම් කරන්න.

- (1)
- (2)
- (3)
- (4)

49 නිෂ්පාදන ව්‍යාපාරයක තොග සම්බන්ධ ගණනය කිරීමේදී අදාළ වන තොග මට්ටම් 4 ක් දැක්වන්න

- (1)
- (2)
- (3)
- (4)

50 පහත දැක්වෙන සංකේත මගින් ඇඟවෙන ආයතන කවරේ ද?



- (1)
- (2)
- (3)
- (4)

ව්‍යාපාර අධ්‍යයනය දෙවන කොටස

(01)

පහත සිද්ධිය ඇසුරෙන් (i) හා (ii) කොටස් වලට පිළිතුරු සපයන්න. කවිදු, රවිදු හා වම්දු පාසල් මිතුරන් වේ. කවිදු සිල්ලර වෙළෙඳ සැලක් පවත්වා ගෙන යන ව්‍යාපාරිකයෙකි. රවිදු ගොවිපළක හිමිකරුවකු වන අතර සිය පවුලේ අවශ්‍යතා ගොවිපළෙන් පිරිමසා ගනී. වම්දු ඇඟලුම් කම්හලක හවුල් කරුවකු වන අතර අදාළ කම්හල තුළ ජාත්‍යන්තර වෙළඳ පොළ සඳහා අවශ්‍ය නිමි ඇදුම් නිෂ්පාදනය කෙරේ.

(i) (අ) ප්‍රාථමික, ද්විතීයික සහ තෘතීයික ව්‍යාපාර සඳහා මෙම සිද්ධිය ඇසුරෙන් නිදසුන බැගින් ලියා දක්වන්න. (ලකුණු 02යි)

(ආ) වම්දුගේ ව්‍යාපාරයෙන් මෙරට ආර්ථිකයට ලැබෙන දායකත්වය. කරුණු දෙකක් ඇසුරෙන් තහවුරු කරන්න. (ලකුණු 02යි)

(ii) වම්දුගේ ව්‍යාපාරයට වර්තමානයේ උදා වී ඇති අවස්ථා දෙකක් හා මුහුණ දීමට සිදු වී ඇති තර්ජන දෙකක් සඳහන් කරන්න. (ලකුණු 04 යි)

(iii) (අ) "අවශ්‍යතාවලට වඩා ව්‍යාපාර වලට වැදගත් වන්නේ වුවමනා වේ." අවශ්‍යතා හා වුවමනා අතර සැසඳීමක් පදනම් දෙකක් ඔස්සේ සිදු කරමින් ඉහත ප්‍රකාශය පිළිබඳව ඔබේ අදහස් දක්වන්න (ලකුණු 02 යි)

(ආ) තොරතුරු තාක්ෂණය හේතුවෙන් ව්‍යාපාර කටයුතු ඉතා සීඝ්‍ර වශයෙන් වෙනස් වූ අතර එසේ සිදු වූ වෙනස්කම් දෙකක් ලියන්න. (ලකුණු 02 යි)

(iv) (අ) අභ්‍යන්තර පරිසර බලවේගයක් වන සංවිධාන සංස්කෘතිය යනුවෙන් හඳුන්වන්නේ කුමක් දැයි විස්තර කරන්න. (ලකුණු 02 යි)

(ආ) පාසලේ කටයුතු සඳහා බලපෑම් කරන අභ්‍යන්තර බලවේග දෙකක් ඇසුරු කරගෙන එම බලවේග පාසලේ කටයුතු සඳහා ශක්තියක් වන ආකාරය හා දුර්වලතා ගෙන දිය හැකි ආකාරය දක්වන්න. (ලකුණු 02 යි)

(v) (අ) ප්‍රාථමික නිෂ්පාදිතය සහ කාර්මික නිෂ්පාදිතය වෙන වෙන ම පැහැදිලි කරන්න. (ලකුණු 02යි)

(ආ) ව්‍යාපාර ආයතන සමාජ හා සංස්කෘතික තිරසර බව තහවුරු කිරීම සඳහා කටයුතු කිරීමේ දී අවධානය යොමු කළ යුතු කරුණු දෙකක් ද, සමාජ හා සංස්කෘතික තිරසර බව තහවුරු කිරීම සඳහා ගත හැකි ක්‍රියාමාර්ග දෙකක් ද සඳහන් කරන්න. (ලකුණු 02 යි)

(මුළු ලකුණු 20 යි)

(02)

(i) (අ) ශ්‍රී ලංකා ප්‍රතිපත්තිය යටතේ සාර්ව ආර්ථික ස්ථායීතාව ආරක්ෂා කර ගැනීම සඳහා රජය භාවිත කරන උපකරණ දෙකක් පැහැදිලි කරන්න.

(ලකුණු 02 යි)

(ආ) "සමාජ වගකීම ව්‍යාපාර වල සැලැස්ම ප්‍රවර්ධනය" මෙහි අදහස පැහැදිලි කරන්න.

(ලකුණු 02 යි)

(ii) අශේන් "හොට් අන්ඩ් ස්පයිසි" නමින් අවන් හලක් ඇරඹීමේ ව්‍යාපාර අදහසකින් පසු වේ. ඔහුට තමාගේ ම ව්‍යාපාරයක් ඇරඹීම හෝ වරලත් ව්‍යාපාරයක් මිල දී ගැනීම යන අවස්ථා දෙකෙන් එක් අවස්ථාවක් තෝරා ගැනීමට සිදු වී ඇතැයි උපකල්පනය කරන්න.

(අ) ස්වකීය වෙළෙඳ සලකුණක් පවත්වාගෙන යාමෙන් ඔහුට අත්වන වාසි කවරේද? (ලකුණු 02 යි)

(ආ) වරලත් නිමයෙකු සමඟ වරලත් ගිවිසුමකට යාමෙන් ඔහුට අත්කර ගත හැකි ප්‍රතිලාභ දෙකක් ලියන්න. (ලකුණු 02 යි)

(iii) (අ) "පාරිභෝගික කටයුතු පිළිබඳ අධිකාරිය පාරිභෝගිකයාට පමණක් නොව ව්‍යාපාරිකයාට ද වැදගත්වේ". මේ ප්‍රකාශය සනාථ කිරීමට කරුණු දෙකක් ඉදිරිපත් කරන්න. (ලකුණු 02 යි)

(ආ) ISO 9001:2015 ප්‍රමිතිය තම ව්‍යාපාර වෙත ලබා ගැනීමට ව්‍යාපාර උනන්දුවක් දක්වන්නේ ඇයි? (ලකුණු 02 යි)

(iv) හවුල් ව්‍යාපාරයක් ලෙස ආරම්භ කරන ලද ව්‍යාපාරයක්, සීමිත පෞද්ගලික සමාගමක් බවට හෝ සීමිත පොදු සමාගමක් බවට පරිවර්තනය කිරීමට එහි හිමිකරුවන් තීරණය කර ඇත.

(අ) හවුල් ව්‍යාපාරයක් සීමිත පෞද්ගලික සමාගමක් බවට පරිවර්තනය කිරීමෙන් අත්වන වාසි දෙකක් ලියන්න. (ලකුණු 02 යි)

(ආ) සීමිත පොදු සමාගමක් බවට පරිවර්තනය කිරීමට තීරණය කළේ නම් එම තීරණයේ ඇති අවාසි දෙකක් ලියන්න. (ලකුණු 02 යි)

(v) සමූපකාර ප්‍රතිපත්ති හතරක් සඳහන් කර, ඒවා සමූපකාර ව්‍යාපාරයේ උන්නතියට ඉවහල් වන්නේ කෙසේ දැයි පැහැදිලි කරන්න. (ලකුණු 04 යි)

(මුළු ලකුණු 20 යි)

(03)

(i) අ) සුළු හා මධ්‍ය පරිමාණ ව්‍යාපාර සහ ව්‍යවසායකත්වය අතර ඇති සම්බන්ධතාව පැහැදිලි කරන්න.

(ලකුණු 02 යි)

(ආ) "ව්‍යවසායකයින් බිහිවිය හැක්කේ උපතින් මිස එය තැනිය නොහැකි සංකල්පයක් ලෙස හඳුනා ගත හැක." මේ ප්‍රකාශය පිළිබඳ ඔබගේ අදහස පැහැදිලි කරන්න. (ලකුණු 02 යි)

(ii) අ) ව්‍යාපාරකයින් අතර මුදල් පැවතියත් ඇතැම් වත්කම් කල්බඳු ක්‍රමයට ලබා ගැනීමට නැඹුරු වන්නේ ඇයි ?

(ලකුණු 02 යි)

(ආ) කොළඹ කොටස් වෙළඳ පොළේ ආයෝජනය කිරීමට අපේක්ෂා කරන නවක ආයෝජකයෙකුට කොටස් තැරැවිකාර සමාගමකින් ලබාගත හැකි සේවා කවරේද? (ලකුණු 02 යි)

(iii) අ) "විලම්බිත ගෙවුම් මාධ්‍යයක් ලෙස මුදල් ක්‍රියා කරයි." මෙහි අදහස පැහැදිලි කර, මුදල් එසේ ක්‍රියා කිරීමේ ඇති වැදගත්කම පෙන්වා දෙන්න.

(ලකුණු 02 යි)

(ආ) බැංකු අයිරා පහසුකම සහ බැංකු අයිරා අතර වෙනස පැහැදිලි කරන්න. (ලකුණු 02 යි)

(iv) අ) ණයට භාණ්ඩ විකණීමට සාපේක්ෂව ණය පතකට භාණ්ඩ විකණීමෙන් ව්‍යාපාරයකට අත්වන වාසි හා අවාසි කවරේ ද ?

(ලකුණු 02 යි)

(ආ) ස්වයංක්‍රීය ටෙලර් යන්ත්‍ර සහ ස්වයංක්‍රීය තැන්පතු යන්ත්‍ර මෙරට වාණිජ බැංකු විසින් සිය බැංකු ශාඛා ඉදිරිපිට ස්ථාපිත කර ඇත. මෙම ස්වයංක්‍රීය බැංකු සේවා මගින් බැංකු වට හා ගනුදෙනුකරුට අත්කර ගත හැකි ප්‍රතිලාභ දෙක බැගින් පෙන්වා දෙන්න.

(ලකුණු 02 යි)

(v) මිතුරන් දෙදෙනෙකු අතර සිදු වූ සංවාදයක් පහත දැක් වේ.
අමල් - මෙම කාඩ් පත ලබා දෙන විට ගිණුමක් තිබුණේ නැහැ. මුදල් හා භාණ්ඩ මිල දී ගන්නන් පුළුවන්. භාණ්ඩ ගත්තම දින කිහිපයක් යනතුරු පොලී අය කරන්නේ නැහැ.
සමන් - මගේ කාඩ් එක නම් හරිම සුරක්ෂිතයි. මුදල් ගන්නා විට පොලී ගන්නේ නැහැ. වෙත්පත වගේ ප්‍රතික්ෂේප වෙන්නේ නැහැ.

අ) අමල් හා සමන් යන මිතුරන් දෙදෙනා සතුව පැවති විද්‍යුත් මුදල් කාඩ් පත් වෙත වෙනම නම් කරන්න. (ලකුණු 02 යි)

ආ) අමල් හා සමන් සතු කාඩ් පත් භාවිත කිරීමෙන් ඔවුන්ට අත්විය හැකි අවාසි දෙක බැගින් ලියන්න. (ලකුණු 02 යි)
(මුළු ලකුණු 20 යි)

(04)

(i) (අ) සන්නිවේදන ක්‍රියාවලියේ අන්තර්ගත ප්‍රතිචාරය සහ ප්‍රතිපෝෂණය යන මූලිකාංගවල අර්ථය පැහැදිලි කර, සන්නිවේදන ක්‍රියාවලියේ සම්බන්ධතාව ප්‍රතිපෝෂණයේ අවශ්‍යතාව පැහැදිලි කරන්න. (ලකුණු 02 යි)

(ආ) "පීචිත රක්ෂණය, සෙසු රක්ෂණයෙන් වෙනස් වන්නේ ඒවාට බලපාන රක්ෂණ මූලධර්මවලින් පමණක් නොවේ." මෙම රක්ෂණ වර්ග දෙක අතර ඔබ දැකින සමානකම් හා වෙනස්කම් දෙක බැගින් සඳහන් කරන්න. (ලකුණු 02 යි)

(ii) (අ) "ගබඩාවක් ස්ථානගත කිරීමේ දී සලකා බලන ප්‍රධාන සාධකයක් වනුයේ පිරිවැයයි." මෙම සාධකය යටතේ සලකා බලන මූලික පිරිවැය වර්ග හතරක් නම් කරන්න. (ලකුණු 02 යි)

(ආ) ද්‍රව්‍ය ගබඩාකරණ ක්‍රියාවලිය පියවර කිහිපයකින් සමන්විත වේ." එම ක්‍රියාවලියේ පියවර අනුපිළිවෙලින් දක්වන්න. (ලකුණු 02 යි)

(iii) (අ) ප්‍රවාහන හා සැපයුම් සේවා යනුවෙන් අදහස් වන්නේ කුමක් දැයි පැහැදිලි කරන්න. (ලකුණු 02 යි)

(ආ) ප්‍රවාහනයේ ඇති වෙමින් පවතින නව ප්‍රවණතා හතරක් ලියන්න. (ලකුණු 02 යි)

(iv) (අ) කුරියර් සේවය තැපැල් සේවයට විකල්පයක් ලෙස ජනප්‍රිය වූ සේවාවකි. මෙම සේවාව පැහැදිලි කර, ඒ තුළ පවතින සුවිශේෂ වූ ප්‍රතිලාභ දෙකක් ලියන්න. (ලකුණු 02 යි)

(ආ) සංචාරක සිල්ලර වෙළෙන්ඳා මෙරට තුළ ජනප්‍රිය වෙමින් පවතී. මෙම ප්‍රවණතාවට හේතු විය හැකි සාධක හතරක් සඳහන් කරන්න. (ලකුණු 02 යි)

(v) විද්‍යුත් වෙළෙඳාම සිදුවන ආකාර අනුව එහි ප්‍රභේද කිහිපයක් දැකිය හැක.

(අ) ව්‍යාපාරිකයාගෙන් පාරිභෝගිකයාට

(ආ) රජයෙන් පුරවැසියන්ට

ඉහත (අ) ක්‍රමයෙන් පාරිභෝගිකයාට හා (ආ) ක්‍රමයෙන් පුරවැසියන්ට අත්වන ප්‍රතිලාභ දෙක බැගින් ලියන්න.

(ලකුණු 04 යි)
(මුළු ලකුණු 20 යි)

(05)

(i) (අ) එක් එක් ආයතන වල කටයුතු පාලනය සඳහා කළමනාකරුවන් සිටින අතර ,ඔවුන්ට නිශ්චිත වූ නිලනාමයක් නොමැත.ඔවුන් අධ්‍යක්ෂ, විධායක නිලධාරී ,කොමසාරිස් ආදී නම්වලින් හඳුන්වයි මෙලෙස ආයතනයක කළමනාකරුවන් විවිධ ආකාරයෙන් වර්ග වීම සඳහා උපයෝගී කරගනු ලබන පදනම් තුනක් නම් කරන්න (ලකුණු 02)

(ආ) හෙන්රි මිත්ස්බර්ග් ට අනුව කළමනාකරණ භූමිකා හෙවත් කාර්යයන් ප්‍රධාන ශීර්ෂ 3 ක් යටතේ දැක්විය. එම ශීර්ෂ 3 දක්වා , එකිනෙකට අයත් කාර්යයන් 1 බැගින් දැක්වන්න. (ලකුණු 02)

(ii) (අ) ආයතනයකට "කළමනාකරණය" වැදගත් වන ආකාර දෙකක් පැහැදිලි කරන්න. (ලකුණු 02)

(ආ) සබන් තොග වශයෙන් අලෙවි කරන ස්ථානයක තොග පවත්වා ගෙන යාමට අදාළ කරුණු පහත දැක්වේ.

- එක් ඇණවුමක් සඳහා පිරිවැය රු 100 කි
- වාර්ෂික තොග අවශ්‍යතාව ඒකක 12800 කි
- එක් ඒකකයක් කාලවිච්ඡේදයක් තුළ පවත්වා ගෙන යාමේ පිරිවැය රු 16 කි

මේ ඇසුරින් එම ආයතනයේ සබන් තොග සම්බන්ධයෙන් ආර්ථික ඇණවුම් ප්‍රමාණය ගණනය කරන්න. (ලකුණු 02)

(iii) (අ) මෙහෙවර ප්‍රකාශයක් සකස් කිරීමේදී අන්තර්ගත කළ යුතු සාධක හතරක් දැක්වන්න. (ලකුණු 02)

(ආ) පරමාර්ථ හා අරමුණු අතර සම්බන්ධතාව පැහැදිලි කරන්න. (ලකුණු 02)

(iv) (අ) "අර්බුදකාරී චතාවරණයක් තුළ වුවද ව්‍යාපාර ආයතනයක් අඛණ්ඩව පවත්වා ගෙන යාමට නායකත්වය බෙහෙවින් වැදගත් වේ", මේ බව කරුණු දෙකක් ඇසුරින් සනාථ කරන්න. (ලකුණු 02)

(ආ) සැලැස්ම යන්න විස්තර කර එය සැලසුම්කරණයෙන් වෙනස් වන ආකාරය දැක්වන්න. (ලකුණු 02)

(v) (අ) කම්හල් පිරිසත සැලසුම් කිරීම යනු කුමක්දැයි හදුන්වන්න. (ලකුණු 02)

(ආ) නිෂ්පාදන අංශයට කම්හල් පිරිසත සැලැස්මක ප්‍රයෝජන කරුණු හතරක් මගින් පෙන්වා දෙන්න. (ලකුණු 02)
(මුළු ලකුණු 20 යි)

(06)

(i) (අ) නිර්මලා මනාලියන් හැඩගැන්වීමේ ශිල්පිණියකි.ඇය ගනුදෙනුකරුවන් අතර ජනප්‍රිය වී ඇත්තේ ඒ ඒ මනාලියන්ගේ රූපි අරුවකම්වලට ඉඩ දෙමින් ඔවුන්ට ගැළපෙන ආකාරයට හැඩ ගැන්වීමේ කටයුතු නිතරම සිදු කරන නිසාය. පිවිත් වැදගත්ම දිනයක් වන මංගල දිනයේදී මනාලියකට ඉහළම සේවාවක් ලබා දීම නිසා ගනුදෙනුකරුවන්ගේ විශ්වාසය හා පක්ෂපාතීත්වය දිනා ගැනීමට ඇය සමත් වී ඇති අතර එ තුළින් තමන් අපේක්ෂා කළ ලාභයද ඇයට ඉපයීමට හැකි වී ඇත.

මෙහි සඳහන් වන අන්දමට නිර්මලා තම ව්‍යාපාරය සම්බන්ධයෙන් අනුගමනය කරන අලෙවිකරණ දර්ශනය කුමක් විය හැකිද? ඔබේ පිළිතුර පහදන්න. (ලකුණු 02)

(ආ) අලෙවිකරණය හා අලෙවිය අතර වෙනස්කම් හතරක් සඳහන් කරන්න (ලකුණු 02)

(ii) (අ) රක්ෂණයේ පදනම අවදානමයි.රක්ෂණය කල හැකි අවදානමක් ලෙස පිළිගැනීමට තිබිය යුතු ගුණාංග මොනවාද?

(ආ) මෝටර් රථ රක්ෂණයේ දී විස්තීර්ණ රක්ෂණ ඔප්පුව හා අවම තෙවන පක්ෂ රක්ෂණ ඔප්පුව හදුන්වන්න. (ලකුණු 02)

(iii) සී/ස සියල් හා සී/ස විමල් සමාගම් දෙකෙහි මූල්‍ය තොරතුරු පහත දැක්වේ.

	ප්‍රාග්ධන ආයෝජනය	විකුණුම්	බදු පෙර ශුද්ධ ලාභය
සී/ස සියල් සමාගම	300 000	600 000	50 000
සී/ස විමල් සමාගම	150 000	300 000	60 000

(අ) ඉහත සමාගම් දෙකෙහි ශුද්ධ ලාභ අනුපාත ගණනය කරන්න. (ලකුණු 02)

(ආ) ඉහත දත්ත අනුව වඩාත් සාර්ථක ව්‍යාපාරය කුමක්දැයි පැහැදිලි කරන්න. (ලකුණු 02)

(iv) (අ) ඉලක්ක වෙළඳපල යනු කුමක්දැයි හඳුන්වා ඒ සම්බන්ධයෙන් අලෙවිකරුවන්ගේ කාර්යභාරය විය යුත්තේ කුමක් දැයි සඳහන් කරන්න. (ලකුණු 02)

(ආ) භාණ්ඩ සන්නම හා පෞද්ගලික සන්නම අතර වෙනස පෙන්වා දෙන්න. (ලකුණු 02)

(v) (අ) සෘජු මූල්‍ය සම්පාදන මාර්ග හතරක් නම් කරන්න. (ලකුණු 02)

(ආ) සීමිත පොදු සමාගමක් අවශ්‍ය අරමුදල්වලින් වැඩි ප්‍රමාණයක් සෘජු සම්පාදන මාර්ග අතුරින් සම්පාදනය කර ගැනීමට තීරණය කර ඇතැයි සිතන්න. සෘජු මූල්‍ය සම්පාදන මාර්ගවල වාසි දෙකක් පැහැදිලි කරන්න. (ලකුණු 02)

(මුළු ලකුණු 20 යි)

(07)

(i) (අ) මානව සම්පත් සැලසුම්කරණය හඳුන්වන්න. (ලකුණු 02)

ආ) මානව සම්පත් සැලසුම්කරණ ක්‍රියාවලියක පියවර පිළිවෙලින් දක්වන්න (ලකුණු 02)

(ii) (අ) සේවක ආකර්ෂණ ක්‍රියාවලියෙහි පියවරයන් පිළිවෙලින් දක්වා පැහැදිලි කරන්න. (ලකුණු 02)

(ආ) පත්වීම් ලිපියක ඇතුළත් කරුණු හතරක් සඳහන් කරන්න. (ලකුණු 02)

(iii) රතනා ඇපරේට්ස් ආයතනයේ සේවක වැටුප වසර කිහිපයකින්ම වැඩි කර නොමැති අතර උසස් වීම් සම්බන්ධයෙන් ද හිසි වැඩපිළිවෙළක් නොමැතිව සඳහන් වේ. අවම පහසුකම් යටතේ සේවක සේවිකාවන් සේවයේ යෙදුනද සැලකිය යුතු පිරිසක් ආයතනයෙන් ඉවත්ව යන අතර වැඩට නොපැමිණීම ද ඉහල ගොස් ඇත.

(අ) මෙම වාතාවරණය නිසා එම ආයතනයට මුහුණ දීමට සිදු විය හැකි ගැටලු දෙකක සඳහන් කරන්න. (ලකුණු 02)

(ආ) මෙම ආයතනයේ "සේවක ප්‍රවාසිතාව" හා "ශ්‍රම පිරිවැටුම" සම්බන්ධයෙන් වෙන වෙනම අදහස් දක්වන්න. (ලකුණු 02)

(iv) ව්‍යාපාරයක සාර්ථකත්වයට මහ බැංකුව සපයනු ලබන මූල්‍ය යටිතල පහසුකම් යන්න පැහැදිලි කර , ඊට උදාහරණ දෙකක් සපයන්න. (ලකුණු 04)

(v) සී/ස නවෝද සමාගමේ වෙළඳ ගිණුමෙන් උපුටාගත් දත්ත කිහිපයක් පහත දැක්වේ.

	රු	රු
විකුණුම් තොගය		1000 000
ආරම්භක තොගය	100 000	
ගැණුම්	600 000	
	700 000	
(-) අග තොගය	(220 000)	480 000

පහත දෑ වලට පිලිතුරු සපයන්න.

1.දළ ලාභය (ලකුණු 01)

2.දළ ලාභ අනුපාතය (ලකුණු 01)

3.සාමාන්‍ය තොගය (ලකුණු 01)

4.තොග පිරිවැටුම් අනුපාතය (ලකුණු 01)

(මුළු ලකුණු 20 යි)



(08)

(i) (අ) තීරණ උපකාරක පද්ධතියක ඇතුළත් ව්‍යුහගත තීරණ හා ව්‍යුහගත නොවන තීරණ යනු කුමක්දැයි නිදසුන් සහිතව පැහැදිලි කරන්න. (ලකුණු 02)

(ආ) පරිගණක තාක්ෂණය ඔස්සේ තොරතුරු රූපමය දත්ත, සංවයාමය ශ්‍රව්‍යමය හා දෘශ්‍යම දත්ත රැස්කිරීම, සැකසීම ගබඩා කිරීම හා බෙදා හැරීම සිදු කරයි. එසේ වුවද, රූපමය, අක්ෂරමය හා අංකමය වශයෙන් භාවිත කරන අවස්ථා සඳහා නිදසුන් සපයන්න. (ලකුණු 02)

(ii) (අ) තොරතුරු තාක්ෂණය යනු කුමක්දැයි හඳුන්වා ඊට අයත් ක්ෂේත්‍ර මොනවාදැයි පැහැදිලි කරන්න. (ලකුණු 02)

(ආ) අලෙවිකරණ තොරතුරු පද්ධති හා මූල්‍ය කළමනාකරණ තොරතුරු පද්ධති මගින් සිදු කරන කටයුතු දෙක බැගින් දක්වන්න. (ලකුණු 02)

(iii) (අ) පරිගණක ගත කරන ලද තොරතුරු පද්ධතියක ඇතුළත් වන උපාංග හතරක් සඳහන් කරන්න. (ලකුණු 02)

(ආ) "තොරතුරු තාක්ෂණය බද්ධ වී ඇත්තේ ක්ෂේත්‍ර තුනක් පදනම් කොටගෙනය" මෙහි තොරතුරු තාක්ෂණය යන්න කෙටියෙන් හඳුන්වා එයට අදාළ ක්ෂේත්‍ර තුන නම් කරන්න. (ලකුණු 02)

(iv) (අ) සඳුන් බේකරි නිෂ්පාදිත නිපදවා අලෙවි කිරීමේ ව්‍යාපාරයක් ආරම්භ කිරීමට අපේක්ෂාවෙන් සිටී. ඒ සඳහා ඔහු සකස් කිරීමට සූදානම් වන ව්‍යාපාර සැලැස්මෙහි "මෙහෙයුම් සැලැස්ම" හා "මූල්‍ය සැලැස්ම" තුළ ඇතුළත් කළ යුතු කරුණු දෙක බැගින් නම් කරන්න. (ලකුණු 02)

(ආ) ව්‍යාපාර සැලැස්මක වැදගත්කම කරුණු දෙකක් ඇසුරින් පැහැදිලි කරන්න. (ලකුණු 02)

(v) ව්‍යාපාරයක් ආරම්භ කිරීමට කටයුතු කරමින් සිටි කමල්ට ඔහුගේ මිතුරෙකු වූ අමල් පෙන්වා දී තිබුණේ ව්‍යාපාර සැලැස්මක් නිර්මාණය කිරීම දුෂ්කර කටයුත්තක් බවත් ඊට මුදල් හා කාලය වෙන් කිරීම එල රහිත බවත්ය. අමල්ගේ මෙම යෝජනාව නිසා අළුතින් ආරම්භ කරන මෙම ව්‍යාපාරය සම්බන්ධයෙන් ඇතිවිය හැකි ගැටලු හතරක් කෙටියෙන් විස්තර කරන්න (ලකුණු 04)

(මුළු ලකුණු 20 යි)

පිළිතුරු

1. 2	11. 4	21. 3
2. 5	12. 3	22. 3
3. 5	13. 4	23. 4
4. 3	14. 3	24. 4
5. 3	15. 2	25. 2
6. 1	16. 4	26. 2
7. 4	17. 3	27. 5
8. 3	18. 4	28. 4
9. 1	19. 2	29. 2
10. 3	20. 2	30. 4

31. කාර්මික හා සේවා - ද්විතීක හා තෘතීක

32. අ)ආර්ථික,සමාජ,පරිසර ආ)මූල්‍ය ප්‍රතිපත්තිය, ප්‍රතිලෝම

33. වාණිජ්‍යය

34. 1 - උපද්‍රව හා අවදි පාලන ලක්ෂය 2 - යහපත් නිෂ්පාදන පිළිවෙත් සහතිකකරණය

35. වර්තන විශදම් - ප්‍රාග්ධන විශදම්

36. සුරාඛද්‍ර දෙපාර්තමේන්තුව - දේශීය ආදායම් දෙපාර්තමේන්තුව

37. අනුක්‍රමික ඛද්‍ර - ප්‍රතික්‍රමික ඛද්‍ර

38. මූල්‍ය - ෆිස්කල්/ අයවැය

39. නිශ්කර්ශක - නිර්මාණක

40. ඛද්‍ර - ඛද්‍ර නොවන

41.

1. මූලික අවශ්‍යතා සපුරා ගැනීමට ඇති අයිතිය

2. වන්දි ලබා ගැනීමට ඇති අයිතිය

3. පාරිභෝගික අධ්‍යාපනය ලැබීමට ඇති අයිතිය.

4. සෞඛ්‍ය සම්පන්න පරිසරයක ජීවත් වීමට ඇති අයිතිය.

42.

- නෛතික බැඳීමක් ඇති කර ගැනීමේ අදහස

- අර්පණය හෙවත් යෝජනාව

- ප්‍රතිගහනය හෙවත් පිළිගැනීම

- නෛතික බව

- දෙපාර්ශවයට නෛතික බැඳීමක් ඇති කරගැනීමට ඇති හැකියාව

43.

- හස්තමය ක්‍රමය

- අර්ධ හස්ත ක්‍රමය

- විද්‍යුත් යාන්ත්‍රික ක්‍රමය

- ඉලෙක්ට්‍රොනික් ක්‍රමය

44

- මිල

- නිෂ්පාදන

- බෙදාහැරීම

- ප්‍රවර්ධනය

45.

- ව්‍යවසායකයා
- බාධා පාලනය කරන්නා
- අදහස හුවමාරු කරන්නා
- සම්පත් බෙදා හරින්නා

46.

- 1840 වංචා වැළැක්වීමේ ආඥා පනත
- 1890 හවුල් ව්‍යාපාර ආඥා පනතේ 24 වන වගන්තිය
- 2007 අංක 7 දරන සමාගම් පනත
- 1918 අංක 6 දරන ව්‍යාපාර නාම ලියාපදිංචි කිරීමේ ආඥා පනත

47.

- ග්‍රාමීය සංවර්ධන අමාත්‍යාංශය
- ශ්‍රී ලංකා මහ බැංකුව
- ජන හා සංව්‍යාලේඛන දෙපාර්තමේන්තුව
- කර්මාන්ත සංවර්ධන අමාත්‍යාංශය

48.

- සලාක කිරීම හෙවත් කෝටා නියම කිරීම.
- දේශීය නිෂ්පාදකයන්ට සහනාධාර හෝ දිරිගැන්වීම් ලබා දීම.
- ප්‍රජාතනය.
- ස්වේච්ඡාවෙන් අපනයනය සීමා පනවා ගැනීම. විදේශ විනිමය පාලනය
- අපනයන හා ආනයන සීමා පනවීම
- වෙළඳ සම්බාධක පනවීම
- පරිපාලන හා තාක්ෂණික ප්‍රමිතීන් නියම කිරීම

49.

- යලි ඇහවුම් මට්ටම
- අවම තොග මට්ටම
- සාමාන්‍ය තොග මට්ටම
- උපරිම තොග මට්ටම

50.

- ශ්‍රී ලංකා මහජන උපයෝගිතා කොමිෂන් සභාව
- ශ්‍රී ලංකා රේගුව
- පාරිභෝගික කටයුතු පිළිබඳ අධිකාරිය
- ශ්‍රී ලංකා ප්‍රමිති ආයතනය

(01)

(i) (අ) ප්‍රාථමික

නිද : රවිදු සිදු කරන ගොවිපළ කටයුතු ද්විතීයික

නිද : වමිදු සිදු කරන ඇඟලුම් නිෂ්පාදනය තෘතීයික

නිද : කවිදු සිදු කරන සිල්ලර වෙළඳ කටයුතු වමිදු සිදු කරන ඇඟලුම් අපනයන කටයුතු

- (ආ) 1. රැකියා අවස්ථා සැපයීම
- 2. විදේශ විනිමය ඉපයීම මගින් විනිමය ගැටලු පාලනය
- 3. ආර්ථික වර්ධනයට දායකත්වය සැපයීම
- 4. ඇඟලුම් වෙළඳපොළේ වෙනස් වන වුවමනා සපුරාලීම

(ii) අවස්ථා

- 1. මෙරට ඇඟලුම්වලට ලොව තුළ ඇති කීර්තිනාමය
- 2. පුහුණුව හා පළපුරුද්ද සහිත සේවකයින් ශ්‍රම වෙළඳපොළේ සිටීම
- 3. ඇඟලුම් සැකසුම් කලාප හරහා යටිතල පහසුකම් සැපයීම
- 4. රාජ්‍ය අනුග්‍රහය ලැබීම
- 5. බදු සහන හිමි වීම
- 6. හිතකර විදේශ වෙළෙඳ ප්‍රතිපත්තිය
- 7. ශක්තිමත් ආයතනික සහාය ලැබීම

තර්ජන

- 1. අඩු පිරිවැය රටවලින් එල්ල වන තරඟකාරීත්වය.
උදා: චීනය, ඉන්දියාව, විසට් නාමය
- 2. දැඩි වෙළඳ සම්බාධකවලට මුහුණ දීමට සිදු වීම
- 3. ඇණවුම් සපුරාලීමට වැඩි කාලයක් ගත වීම
- 4. විශාල වශයෙන් ආනයනික අමුද්‍රව්‍ය මත යැපීම (කර්මාන්තයේ පසුපස බැඳීම් දර්වමවීම)
- 5. ඇමරිකාව, ඩුකානස හා ඉතාලිය යන රටවල් කිහිපයක් මත ඉල්ලුම තීරණය වීම
- 6. කර්මාන්තය තුළ පරිමානුකූල පිරිමැසුම් නොමැති වීම
- 7. කලාපය තුළ නව රෙදිපිළි නිෂ්පාදන කේන්ද්‍රස්ථාන බිහිවීම
- 8. නිෂ්පාදන පිරිවැය ඉහළ යාම
- 9. කර්මාන්තයේ තරඟකාරීත්වය වර්ධනය

(iii) (අ)

පදනම	අවශ්‍යතා	චුළුමනා
අර්ථය	මිනිසා විසින් අනිවාර්යයෙන්ම සපුරා ගත යුතු කාර්යය හා මානසික තත්ත්ව	මිනිස් අවශ්‍යතා සපුරා ගන්නා විවිධ ආකාර චුළුමනා වේ.
ප්‍රමාණය ස්වභාවය	සීමිත වීම	අසීමිත වීම.
ජීවත් වීම හා සම්බන්ධව	අත්‍යවශ්‍යයෙන්ම සපුරා ගත යුතු වීම	අත්‍යවශ්‍යයෙන්ම සපුරා ගත යුතු නොවීම.
අදාළ වීම	සෑම පුද්ගලයාට ම පොදු වීම	පුද්ගලයාගෙන් පුද්ගලයාට විවිධ වීම.
සපුරාගැනීමට බලපෑම් කිරීමේ හැකියාව	සමාජ බලවේග මගින් වෙනස් කළ නොහැකිය	සමාජ බලවේග මගින් වෙනස් කළ හැකිය.
නිර්මාණය කිරීමේ තත්ත්වය /බිහිවීම	ව්‍යාපාරිකයින්ට නිර්මාණය කළ නොහැකි වීම (ජීව විද්‍යාත්මකයි)	ව්‍යාපාරිකයින්ට නිර්මාණය කළ හැකි වීම.
සපුරා නොගැනීමේ ප්‍රතිඵලය	රෝගයකට හෝ මරණයකට හේතු වේ	අපේක්ෂා භංගත්වයට හේතු වේ.
කාර්යභාරය	ජීවිතය පවත්වා ගැනීම.	ජීවන තත්ත්වය උසස් කිරීම.
වෙනස් වීම	ස්ථාවරම පවතී. /වෙනස් නොවේ.	කාලය සමග වෙනස් වේ.

අවශ්‍යතා සෑම මිනිසාටම පොදු ය. ඒවා නිර්මාණය කිරීම හෝ ප්‍රවර්ධනය කළ නොහැකිය. එහෙත් චුළුමනා නිර්මාණය හෝ ප්‍රවර්ධනය කළින් වෙනස් කිරීම කළ හැකිය. එම නිසා ව්‍යාපාර නව නිෂ්පාදන කළින් හා ප්‍රචාරණය කළින් චුළුමනාවන් ප්‍රවර්ධනය කොට තම ව්‍යාපාර සාර්ථක කර ගනී. එම නිසා මිනිස් අවශ්‍යතා නොව චුළුමනා කෙරේ ව්‍යාපාර අවධානය යොමු කරයි.

- (ආ) 1. තොරතුරු හා සන්නිවේදන තාක්ෂණ හේතුවෙන් වෙළඳ පොළ ස්ථානය අවකාශයක් බවට පරිවර්තනය වීම
2. දේශීය ව්‍යාපාර ගෝලීය ව්‍යාපාර බවට පත් වීම
3. ඩිජිටල් ව්‍යාපාර හරහා ඩිජිටල් නිෂ්පාදිත වෙළඳාම බිහි වීම
4. විද්‍යුත් මුදල් භාවිතයට පැමිණීම
5. විද්‍යුත් ව්‍යාපාර හා විද්‍යුත් වාණිජ්‍ය වැනි ව්‍යාපාර ආකෘති බිහි වීම

(IV) (අ) ව්‍යාපාරයේ සිටින සියලු ම දෙනා අතර බෙදාහදා ගන්නා හා ඊළඟ පරම්පරාව වෙත පවරා දෙනු ලබන විශ්වාස, වටිනාකම්, ආකල්ප, ප්‍රතිමාන, පුරුදු හැසිරීම් රටා සංවිධාන සංස්කෘතියයි.

නැතහොත්

සංවිධානයක් තුළ පොදු හැසිරීම් රටාවක් ඇති කර ගැනීම සඳහා ස්ථාපිත කරගත් පොදුවේ පිළිගැනීමට ලක් වූ විශ්වාස, ආකල්ප, වටිනාකම් හා සාරධර්ම මාලාවකි.

(ආ)

බලවේගය	ධනාත්මක බලපෑම	සෘණාත්මක බලපෑම
විදුහල්පති	භාග්‍යකම් හැකියාව කැපවීම අත්දැකීම් සහිත බව ඉහළ පොරොන්දුව	කැපවීම අඩුකම පළපුරුද්ද අඩුකම
සිසුන්	චිත්තගුණ වීම කුසලතා පූර්ණ වීම	ඉගෙනුමට සෘණ ආකල්ප දැරීම පසුගාමී බව
ගුරුවරු	ඉහළ අධ්‍යාපන සුදුසුකම් ලබා තිබීම ඉගැන්වීමේ කුසලතා සහිත වීම. මානව හිතවාදී වීම පුහුණුව හා පළපුරුද්ද සහිත වීම	ප්‍රමාණවත් ගුරුවරු නොමැති වීම. වගකීම /වගවීම නොදැරීම පුහුණුව අඩු වීම

(V) (අ) ප්‍රාථමික නිෂ්පාදිතය

ස්වභාව ධර්මයෙන් ලැබී ඇති දේ ඒ ආකාරයෙන්ම ප්‍රයෝජනයට ගන්නා නිෂ්පාදිත වේ.
නිද: කෘෂිකාර්මික හෝග වගාව, වන වගාව, ධීවර කර්මාන්තය. පතල් හා කැනීම් කර්මාන්තය.

කාර්මික නිෂ්පාදිතය

කැනීමෙන්, නිපැයීමෙන්, තැනීමෙන් හෝ සැපයීමෙන් සිදු කරන දෑ මීට අයත් වේ.
නිද: පතල් හා කැනීම්, නිෂ්පාදන කර්මාන්ත, ඉදි කිරීම්, විදුලිය සැපයීම.

(ආ) අවධානය යොමු කළ යුතු කරුණු

1. ජනතාවගේ ජීවන තත්ත්ව උසස් කිරීම
2. ජනතාවට සමාන අවස්ථා සැපයීම
3. සමාජ ඒකගුතාව ඇති කිරීම
- 4.ජාත්‍යන්තර සහභාගිත්වය ලබා ගැනීම
5. මානව ප්‍රාග්ධනය නඩත්තු කිරීම
6. දේශීය සංස්කෘතිය, සම්ප්‍රදායන් හා සිරිත් විරිත් ආරක්ෂා කිරීම
- 7.සංස්කෘතික පරිසරය සුරැකීම
8. දුගී බව අවම කිරීමට කටයුතු කිරීම (දිළිඳු ප්‍රජාව)
- 9.සේවක සබඳතා

ගත හැකි ක්‍රියාමාර්ග

1. මානව විවිධත්වයට ගරු කරමින් කටයුතු කිරීම
2. මානව අයිතිවාසිකම් සුරැකීමට දායක වීම
3. අධ්‍යාපනය, සෞඛ්‍යය, ප්‍රවාහන ආදී අත්‍යවශ්‍ය පහසුකම් සඳහා දායක වීම
4. සමාජ සංරක්ෂණ කටයුතු වලට දායක වීම සංස්කෘතික විවිධත්වයට ගරු කිරීම හා සුරැකීමට දායක වීම
5. නීතිය හා සාමය සුරැකීමට දායක වීම

(02)

(i) (අ)

1. බදු / රජයේ ආදායම්

යම් පුද්ගලයකු හෝ ආයතනයක් විසින් අනිවාර්යෙන්ම ගෙවිය යුතු යැයි රජය හෝ රජයේ බලධාරී ආයතනයක් විසින් නියම කරනු ලබන ගෙවීමක් බද්දක් ලෙස හැඳින්වේ. සෘජු හා වක්‍ර බදු පැනවීම, අහෝසි කිරීම, අනුපාත වෙනස් කිරීම, බදු සහන යනාදිය හරහා බලපෑම් කිරීමයි.

2. රාජ්‍ය විෂදම්

වර්තන විෂදම් හා ප්‍රාග්ධන විෂදම් වෙනුවෙන් වර්ෂයක් තුළ දී කරනු ලබන මුළු විෂදම රාජ්‍ය විෂදම වේ. මෙම විෂදම් අඩු වැඩි කිරීමෙන් සිදු කරන බලපෑමයි.

(ආ) ව්‍යාපාර සමාජ වගකීම් ඉටු කිරීමේ දී ව්‍යාපාර නාම, සන්නම හෝ වෙළෙඳ ලකුණු මුල්කර ගෙන එම කාර්යය සිදු කරයි. එය සැලැවුණු ප්‍රචාරණයකි.

නිදසුන් : පාසල් ක්‍රීඩා තරඟ උත්සව වල දී ව්‍යාපාර අනුග්‍රහය දැක්වීම

(ii) (ආ)

1. තමන්ටම අනන්‍ය වූ ව්‍යාපාරික නාමයක් ගොඩ නගා ගත හැකි වීම
2. උපයන සියලු ලාභ සිය අභිමතය පරිදි ප්‍රයෝජනයට ගත හැකි වීම
3. පූර්ණ ව්‍යාපාරික නිදහසක් හිමි වීම
4. විවිධ ගුණාත්මයෙන් යුත් ඕනෑම වර්ගයක භාණ්ඩ අලෙවි කළ හැකි වීම
5. උපයන ලාභය මත හෝ විකුණුම් මත හෝ කිසිදු ගෙවීමක් වෙනත් පාර්ශ්වයකට ගෙවිය යුතු නොවීම.

(ආ)

1. වරලත් නිමියාගේ කීර්තිනාමය මත විශාල වෙළඳපොළක් ලබාගත හැකි වීම
2. අසාර්ථක වීමේ ප්‍රවණතාව අඩු වීම
3. ජනප්‍රිය වෙළඳ නාමය නිසා ප්‍රචාරණය/ ප්‍රවර්ධනය පහසු වීම
4. වරලත් නිමියාගේ කළමනාකරණ පුහුණුව ලැබීම
5. වරලත් නිමියාගේ මූල්‍ය පහසුකම් ලැබීම
6. අමුද්‍රව්‍ය අවම මිලකට ලබාගත හැකි වීම
7. ආරම්භයේ සිට ම ලාභ ලැබිය හැකි වීම හා මුල සිට ම (බිංදුවේ සිට) ව්‍යාපාරය පටන් ගැනීමට අවශ්‍ය නොවීම
8. විශාල ව්‍යාපාරයකට පිවිසිය හැකි වීම
9. නිෂ්පාදිතයේ අන්තර්ගතය ලැබීම හා නිෂ්පාදිත පිළිබඳ වගකීම බාර ගැනීම

(iii) (අ)

1. අධිකාරිය විසින් නියම කර ඇති ප්‍රමිති වලට අනුව නිෂ්පාදනය, සැපයීම, ගබඩා කිරීම, ප්‍රවාහනය විකිණීම් සිදු වීම නිසා නාස්තිය අවම වී වර්ධනය වීම
2. පාරිභෝගික අයිතිවාසිකම් ආරක්ෂා කිරීමට යොමු වීම නිසා පාරිභෝගික විශ්වාසය දිනා ගැනීමට හැකි වීම
3. වෙළෙඳ විෂමාවාර වලින් වැළකී කටයුතු කිරීමෙන් ආයතනයේ ප්‍රතිරූපය වර්ධනය වීම
4. ව්‍යාපාරිකයාට මුහුණ දීමට සිදුවන තෛතික තත්ත්වයන් අවම වීම
5. ව්‍යාපාර අතර ඇතිවන අනවශ්‍ය තරඟකාරීත්වය අවම වීම
6. ඒකාධිකාරී තත්ත්වයන් ඇති නොවීම නිසා සාධාරණව තරඟ කළ හැකි වීම

2. ප්‍රජාතන්ත්‍රවාදී සාමාජික පාලනය උන්නතියට ඉවහල් වන ආකාරය බහුතර කැමැත්ත මත අධ්‍යක්ෂ මණ්ඩලය පත් කර ගන්නා අතරම බහුතර කැමැත්ත මත තීරණ ගැනීම සිදුවන බැවින් වඩා හොඳ තීරණ එහි සාර්ථකත්වය සඳහා ගත හැක.
3. සාමාජික ආර්ථික සහභාගිත්වය උන්නතියට ඉවහල් වන ආකාරය සාධාරණ මුදලකින් සාමාජිකත්වය ලබාගත හැකි නිසා බොහෝ පිරිසකට සමුපකාරය වටා එක් රොක් විය හැකි අතරම එහි අතිරික්තය සාමාජිකයින්ගේ යහපතට යෙදවීමේ අවස්ථාව උදා වේ.
4. ස්වෛරීභාවය සහ නිදහස උන්නතියට ඉවහල් වන ආකාරය සාමාජිකයන්ගෙන් පාලනය වන ස්වෛරී ආත්මාධාර සංවිධානයක් බැවින් රජය හෝ වෙනත් බහුජන සංවිධාන වල බලපෑමට යටත් නොවන බැවින් නිදහසේ ව්‍යාපාර කටයුතු කළ හැකි වීම.
5. සමුපකාර අධ්‍යාපනය, පුහුණුව හා තොරතුරු උන්නතියට ඉවහල් වන ආකාරය කළමනාකරුවන්ට සහ සේවකයන්ට අධ්‍යාපනය සහ පුහුණුව තීරතුරුවම සැපයිය හැකි බැවින් එහි සේවක ඵලදායීතාව හා ව්‍යාපාරික දැනුම ඉහළ යාම.

(03)

- (i) (අ) 1. බොහෝ සාර්ථක මහ පරිමාණ ව්‍යාපාර (ව්‍යවසායකත්ව ව්‍යාපාර වල) ආරම්භක අවස්ථාවල සුළු හා මධ්‍ය පරිමාණ ව්‍යාපාර වේ
2. ව්‍යවසායකයින්ට සුළු හා මධ්‍ය පරිමාණ ව්‍යාපාර තුළ නිර්මාණශීලී කුසලතා පහසුවෙන් භාවිත කළ හැකි වීම
3. සුළු හා මධ්‍ය පරිමාණ ව්‍යාපාර හරහා ව්‍යවසායකයින් නවෝත්පාදන බිහි කිරීම
4. සුළු හා මධ්‍ය පරිමාණ ව්‍යාපාර හරහා ව්‍යවසායකයින්ට වෙළඳ පොළ නිස හඳුනාගෙන ව්‍යාපාර අවස්ථා සඳහා පිවිසිය හැකි වීම

(ආ) මෙම ප්‍රකාශයට සමඟ එකඟ විය නොහැක.

ව්‍යවසායකයින් තැනිය හැකි බව විවිධ පර්යේෂණ වලින් ඔප්පු කර ඇත. කිසිදු ව්‍යවසායකත්ව පසුබිමක් නොමැති පවුල් වල අය ද ව්‍යවසායකත්වයට නැඹුරු වී ඇත. ඔවුන් ව්‍යවසායකත්ව කුසලතා බොහෝමයක් ලබාගෙන ඇත්තේ අධ්‍යාපනය හා පළපුරුද්ද තුළින් ය. ඒ අනුව තර්ක කරන්නේ ව්‍යවසායකත්වය ඉගැන්විය හැකි බවයි. එසේම ඇතැම් ව්‍යවසායකත්ව කුසලතා ඉගැන්විය හැක.

නිද : තාක්ෂණික කුසලතා, සන්නිවේදන කුසලතා

- (ii) (අ) 1. සිය මුදල්වල විකල්ප ආයෝජන පැවතීම
2. අදාළ වත්කම් වලින් ආදායම් උපයා වාරික ගෙවිය හැකි වීම
3. කඩිනමින් ලබාගත හැකි වීම
4. මෙහෙයුම් කල්බද්දක් නම් නඩත්තු කිරීම කල්බදු සමාගම් විසින් කරන නිසා නඩත්තු වියදම් දැරීමට සිදු නොවීම.
5. එකවර කල් බදු කිහිපයක් වුවද ලබා ගත හැකි වීම
6. යන්ත්‍ර යල් පැනීම නිසා සිදුවන පාඩු හා ප්‍රාග්ධන අලාභ මග හැරීම

- (ආ) 1. ආයෝජකයන් වෙනුවෙන් මධ්‍යම තැන්පතු ක්‍රමයේ ගිණුම් විවෘත කිරීම
- 2. ආයෝජකයන්ගේ ගැනුම් ඇණවුම් හා විකුණුම් ඇණවුම් භාර ගැනීම්
- 3. කොටස් හා ණයකරවල ආයෝජනය සම්බන්ධ උපදෙස් ආයෝජකයින්ට සැපයීම
- 4. කොටස් වෙළඳ පොළ විශ්ලේෂණය කිරීම හා වෙළඳ පොළ සමීක්ෂණ වාර්තා සැකසීම මගින් ආයෝජකයින්ගේ ප්‍රතිලාභ උපරිම කිරීම සහතික කිරීම.
- 5. වෙළඳ පොළ ගනුදෙනු බේරුම් කිරීමේ කටයුතු ඉටු කිරීම.
- 6. ආයෝජන අරමුදල් පාලනය

(iii) (අ) අනාගත මුදල් ගෙවීමක් සඳහා වර්තමානයේ ගිවිස ගත හැකි බවයි. එනම් ඉදිරි දිනක දී මුදල් ගෙවීමේ කොන්දේසි යටතේ භාණ්ඩ හා සේවා මිල දී ගත හැකි වීම යි.

වැදගත්කම

- 1. පහසුවෙන් ණය ලබා ගැනීමට හැකි වීම.
- 2. පහසුවෙන් ණය බේරුම් කිරීමට හැකි වීම.
- 3. අතේ මුදල් නොමැති අවස්ථාවක දී වුව ද භාණ්ඩ මිලට ගැනීමට හැකි වීම නිසා ව්‍යාපාර කටයුතු පුළුල් වීම.

(ආ) බැංකු අයිරා පහසුකම

බැංකු ජංගම ගිණුමේ ශේෂය ඉක්මවා කිසියම් නිශ්චිත මුදල් ප්‍රමාණයක් දක්වා වෙත්පත් නිකුත් කිරීමට වාණිජ බැංකු මගින් ලබා දෙන අනුමැතිය බැංකු අයිරා පහසුකම ලෙස හැඳින්වේ.

බැංකු අයිරාව

ජංගම ගිණුම්ගිමියා (ගනුදෙනුකරු) ජංගම ගිණුමේ ශේෂය ඉක්මවා නිකුත් කරන ලද වෙත්පත්වල වටිනාකම බැංකු අයිරාව ලෙස හැඳින්වේ.

(iv) (අ) වාසි

- 1. ණය මුදල ලැබීම නිශ්චිත වීම බොල්ණය නොමැති වීම . එනම් ණය පත නිකුත් කළ බැංකුව විකුණුම්කරුගේ ගිණුමට අදාළ මුදල බැර කිරීම නිශ්චිත වීම
- 2. ණයගැතියන් පරිපාලනය කිරීමේ ගැටලු ඇති නොවීම
- 3. ක්ෂණිකව ගිණුම්ගත වීම
- 4. ණයට විකිණීමට සාපේක්ෂව කඩිනමින් මුදල් ලැබීම
- 5. නියමිත දිනයේදීම අදාළ මුදල ගිණුමට බැර වීම.
- 6. වෙළෙඳ නාමාවලි සඳහා ලැබෙන නොමිලේ ප්‍රචාරණය
- 7. ගනුදෙනු පහසු වීම
- 8. වැරදි හා වෙනත් උගුණතා අවම වීම
- 9. ලෝක ව්‍යාපතව ගනුදෙනු කළ හැකි වීම

අවාසි

- 1. බැංකුව වෙත විකුණුම් වටිනාකම මත කොමිස් මුදල් ගෙවීමට සිදු වීම
- 2. විශේෂ යන්ත්‍ර ස්ථාපිත කිරීමට සිදු වීම
- 3. ඉහළ මූල්‍ය හැකියාවක් ඇති පුද්ගලයන්ට පමණක් ණය පත් නිකුත් කිරීම නිසා ණය පත් ගිම් ගනුදෙනුකරුවන් පිරිස සීමා වීම
- 4. වංචනික ලෙස ණය පත් ඉදිරිපත් වීමෙන් ගැටලු ඇති වීම
- 5. දුරකථන සම්බන්ධතා අඩපන වීම, විදුලිය ඇණහිටීම වැනි අවස්ථාවල දී ගෙවීම් ලබාගත නොහැකි වීම.

- (ආ) බැංකුවට අත්කර ගත හැකි ප්‍රතිලාභ
1. කාර්ය මණ්ඩලය අඩු කර ගත හැකි වීම
 2. බැංකුව තුළ තදබදය අඩු වීම
 3. නිරවද්‍යතාව ඉහළ යාම
 4. බැංකු සේවා පුළුල් වී බැංකුවල ලාභදායීත්වය වැඩි වීම

- ගනුදෙනුකරුට අත්කර ගත හැකි ප්‍රතිලාභ
1. ඕනෑම වේලාවක කාඩ් පත් භාවිතයෙන් ගිණුමෙන් මුදල් ආපසු ගැනීමට හැකි වීම
 2. ඕනෑම වේලාවක ගිණුමට මුදල් තැන්පත් කිරීමට හැකි වීම
 3. ගිණුමකින් ගිණුමකට මුදල් මාරු කිරීම කළ හැක
 4. ගිණුමේ ශේෂය දැනගත හැකි වීම බිල්පත් ගෙවීමේ පහසුකම් පැවතීම.

(v) (අ) අමල්- ණය පත
සමන්- හර පත

- (ආ) අමල්ට අවාසි
1. ණය පත සඳහා මුදල් ගෙවීම ප්‍රමාද වීමෙන් දඩ මුදලක් ගෙවීමට සිදු වීම.
 2. සෑම වෙළෙඳ සැලකිණිම ගනුදෙනු සිදු කළ නොහැකි වීම.
 3. අනවශ්‍ය මිල දී ගැනීම් සිදු වීම අනවශ්‍ය ලෙස පරිභෝජනයට නැඹුරු වීම.
 4. වංචනික භාවිතය
 5. තාක්ෂණික ගැටලු
 6. ගනුදෙනුව නිම නොවීම
 7. පිරිවැයක් දැරීමට සිදු වීම (වාර්ෂික ගාස්තු, අයදුම්පත් පත්‍ර, මුදල් අත්තිකාරම් ගාස්තු, ණය සීමාව ඉක්මවීමේ ගාස්තු)
 8. ණය සීමාවකට යටත් වීම.

- සමන්ට අවාසි
1. ගිණුමක් තිබීම අනිවාර්ය වීම
 2. ගිණුමේ ඇති ශේෂය දක්වා පමණක් ගනුදෙනු සිදු කළ හැකි වීම
 3. පිරිවැයක් දැරීමට සිදු වීම
 4. තාක්ෂණික දෝෂ නිසා පරිහරණ ගැටලු ඇති වීම

(04)

(i) (අ) ප්‍රතිචාරය

පණිවුඩය ලබන්නා විසින් ඇසුන හෝ කිය වූ පණිවුඩය පිළිබඳ ව ක්‍රියා කරන ආකාරයයි.

ප්‍රතිපෝෂණ

පණිවුඩය ලැබුණු බව, තේරුම් ගත් බව තහවුරු කරමින් පණිවුඩය ලබන්නාගෙන් පණිවුඩය යවන්නාට ලැබෙන ප්‍රතිචාරයයි.

ප්‍රතිපෝෂණයේ අවශ්‍යතාව

සන්නිවේදනයේ අවසාන ඵලය වන ප්‍රතිචාරය නිවැරදිව ලැබෙන බව කල් ඇතුළු තහවුරු කර ගැනීමට ප්‍රතිපෝෂණය වැදගත් වේ. එසේම පණිවුඩය නොලැබීම, ප්‍රමාද වීම, වැරදියට තේරුම් ගැනීම යනාදිය කල් ඇතුළු දැන ගෙන ඒවා නිවැරදි කිරීමට අවස්ථාවක් මින් ලැබේ.

හෝ

1. පාර්ශ්ව අතර ගැටලු විසඳා ගැනීමේ පදනම සැපයීම
2. සන්නිවේදනයේ දී ප්‍රජාතන්ත්‍රවාදී ප්‍රවේශයක් ඇති වීම
3. සඵලදායී සන්නිවේදනයක් ඇති වීම
4. සන්නිවේදන ක්‍රියාවලියේ දියුණු කළ යුතු ක්ෂේත්‍ර හඳුනාගත හැකි වීම
5. ඉහළ තේරුම් ගැනීමේ මට්ටමක් සාධනය කළ හැකි වීම
6. පාර්ශ්ව අතර යහපත් සම්බන්ධතාවක් ගොඩනැගිය හැකි වීම
7. ඵලදායී සමායෝජනයක් ඇති වීම

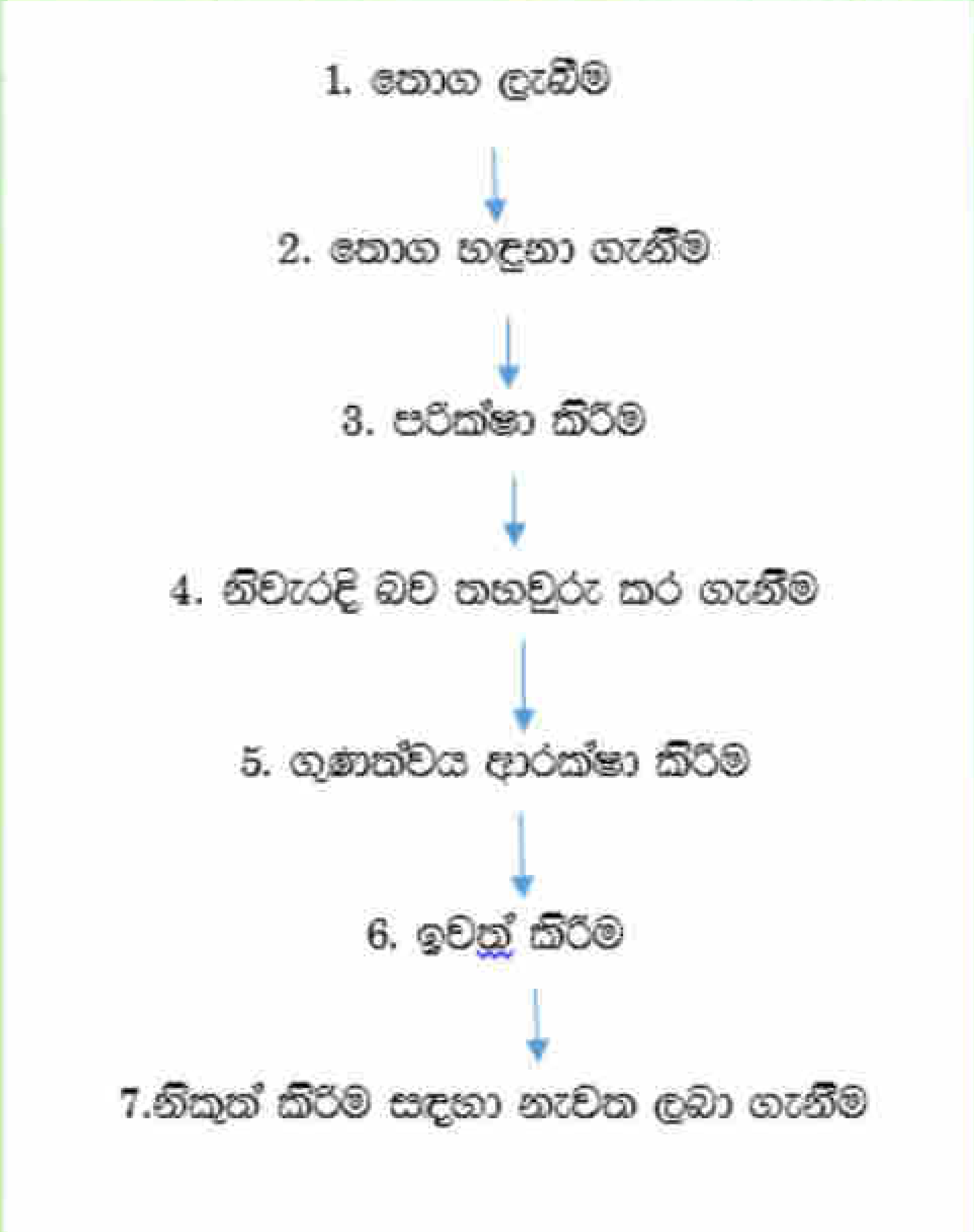
(ආ) සමානකම්

1. රක්ෂ්‍ය හිමිකම, උපරිම විශ්වාසය, ආසන්නතම හේතුව සහ මූලධර්ම අදාළ වීම.
2. අවදානම් ආවරණයක් සිදු වීම
3. වාරික ගෙවිය යුතු වීම
4. එකඟ වී ඇති පරිදි හානිය සිදු වූ විට වන්දි ගෙවීම

වෙනස්කම්	
පිරිත රක්ෂණය	සෙසු රක්ෂණය
2. ඉතිරි කිරීමකට සමාන වේ. පිරිතයට හානියක් සිදු වුවත් නැතත් රක්ෂණ මුදල ලැබේ.	2. ඉතිරි කිරීමකට සමාන නොවේ. දේපළට හානියක් සිදු වූ විට පමණක් වන්දි ලබා ගත හැකිය.
3. විෂය වස්තුව සජීවී වේ / පුද්ගල පිරිතයකි.	3. විෂය වස්තුව අජීවී වේ. අප්‍රාණික වස්තුවකි / දේපළකි.
4. පිරිත රක්ෂණ ඔප්පුවේ වටිනාකම ගෙවීමේ හැකියාව මත තීරණය වේ (ඕනෑම අගයකට රක්ෂණය කළ හැක)	4. රක්ෂණ ඔප්පුවේ වටිනාකම දේපළ වටිනාකම් මත තීරණය වේ (රක්ෂණය කළ හැක්කේ තක්සේරු අගයට පමණි/ අධි හෝ උපරි රක්ෂණයේ දී හැර)

- (ii) (අ) 1. කර්මාන්ත ශාලාව වෙත අමුද්‍රව්‍ය ප්‍රවාහනය සඳහා පිරිවැය
 2. නිෂ්පාදිත භාණ්ඩ අවසාන පාරිභෝගිකයාට බෙදා හැරීම දක්වා වන ප්‍රවාහන ගාස්තු
 3. බැංකු හා පැටවීමේ ගාස්තු
 4. ගබඩා කුලිය
 5. ඇප තැන්පතු
 6. රක්ෂණ ගාස්තු
 7. වාහන නවතා තැබීමේ ඉඩකඩ හා වියදම්.

(ආ)



(iii) (අ) පාරිභෝගික අවශ්‍යතා හා මූලික සපුරාලීම තහවුරු කිරීමේ අරමුණින් භාණ්ඩ, සේවා හා අදාළ තොරතුරු ඉදිරියට හා පසු පසට ගලා යාම, ඒවායේ ආරම්භක අවස්ථාවේ සිට පරිභෝජන අවස්ථාව දක්වා කාර්යක්ෂමව හා සම්පූර්ණ සැලසුම් කිරීමේ හා ක්‍රියාත්මක කිරීමේ ක්‍රියාවලියයි.

හෝ

ආයතනයකට අවශ්‍ය අමුද්‍රව්‍ය ලබා ගැනීම. නිෂ්පාදනය සිදු කිරීම. ගබඩා කිරීම, බැංකු හා පැටවීමේ කටයුතු, බෙදා හැරීම වැනි එකිනෙකට සම්බන්ධ කටයුතු සැලසුම් සහගතව සිදුකිරීමේ ක්‍රියාවලිය මින් අදහස් වේ.

- (ආ) 1. උමං මාර්ග ප්‍රවාහනය
 2. ගුවන් පාලම් ඉදි කිරීම
 3. අධිවේගී මාර්ග ඉදි කිරීම
 4. විදුලි මෝටර් රථ යොදා ගැනීම
 5. පරිසර හිතකාමී ශක්ති ප්‍රභේද භාවිත කිරීමට පෙළඹවීම
 නිද: එළවළු පළතුරුවලින් ඉන්ධන නිපදවීම
 6. තමන් සිටින ස්ථානයට ප්‍රවාහන මාධ්‍ය ගෙන්වා ගත හැකි වීම
 7. හයිපර්ලූප් සංකල්පය

අනාගත ලොව ප්‍රවාහන පද්ධතිය ලෙස හඳුනා ගන්නා දකුණු අප්‍රිකාවේ උපත ලැබූ එලොන් මස්ක් හඳුන්වා දුන් සංකල්පයකි. ප්‍රධාන වශයෙන් ඔටසක් දිගේ ඇති කරන රික්තකයක් යොදා ගෙන භාණ්ඩ හා මිනිසුන් ප්‍රවාහනය කිරීම සිදු වේ.

8. වෝක්කාර් / එයාර්විල්
 පයින් ගමන් කිරීමට විකල්පයක් ලෙස යොදා ගත හැකි ඉතාම කුඩා උපකරණයකි. ඒ මත හැඳී තනි පුද්ගලයෙකුට කඩිනමින් ගමන් කළ හැක.
 9. විදුලි දුම්රිය යොදා ගැනීම
 10. තනි පීල්ලේ දුම්රිය

(iv) (අ) කුරියර් සේවය සාමාන්‍ය තැපැල් ක්‍රමයෙන් බාහිරව ලිපි සහ පාර්සල් වේගවත්ව නියෝජිතයන් මාර්ගයෙන් ලොව පුරා යැවීමට උපකාර වන සේවාව යි. මෙය දේශීය වශයෙන් ද ලිපි ලේඛන කඩිනමින් යැවීමට යොදාගත හැකි සේවාව කි.

සුවිශේෂ ප්‍රතිලාභ

1. ඉතා වේගවත් වීම
2. ඉහළ ආරක්ෂාව
3. ගෝලීය වශයෙන් ව්‍යාප්තිය
4. භාණ්ඩ යැවීමේ දී ඒවා පවතින ස්ථාන හඳුනා ගත හැකි වීම
5. වගකීමක් පැවතීම
6. පහසුවෙන් ප්‍රවේශ වීම හා 24 පැය පුරා ක්‍රියාත්මක වීම

- (ආ) 1. පාරිභෝගිකයා වෙතට පැමිණ භාණ්ඩ සැපයීම.
 2. නැවුම් භාණ්ඩ සැපයීම
 3. මිල අඩු වීම / වට්ටම් සැපයීම
 4. කේවල් කිරීමෙන් භාණ්ඩ ලබා ගත හැකි වීම
 5. තෝරා ගැනීමට ඇති ඉඩ කඩ වැඩි වීම
 6. පාරිභෝගිකයාගේ මිල දී ගැනීමේ පුරුදු වෙනස් වීම

- (v) (අ) ව්‍යාපාරිකයාගෙන් පාරිභෝගිකයාට අත්වන ප්‍රතිලාභ
1. භාණ්ඩ තෝරා ගැනීමට පුළුල් ඉඩ කඩක් පැවතීම
 2. පහසුවෙන් හා ඉක්මනින් ඇණවුම් කළ හැකි වීම/ඇණවුම් කාලය අවම වීම.
 3. දවසේ පැය 24 පුරාම සතියේ දින 07 ම ගනු දෙනු වල යෙදිය හැකි වීම.
 4. නිෂ්පාදිතයේ මිල මට්ටම් සාපේක්ෂව අඩු වීම.
 5. තොරතුරු බහුල වීම
 6. ගනුදෙනු වේගවත් වීම

(ආ) රජයේ පුරවැසියන්ට අත්වන ප්‍රතිලාභ

1. පුරවැසියන්ට පහසුවෙන් හා කඩිනමින් සේවා පහසුකම් භුක්ති විදීමේ හැකියාව ලැබීම
2. සතියේ දින හත හා පැය 24 පුරා සේවා පහසුකම් ලබාගත හැකි වීම
3. පුරවැසියන්ගේ කාලය හා ශ්‍රමය ඉතුරු වීම
4. සැමට එක සමාන සේවාවක් ලබාගත හැකි වීම
5. සේවා ලැබීමේ පිරිවැය අඩු වීම
6. ගනුදෙනු සඳහා භූගෝලීය විෂමතා දුරස්ථතා බල නොපෑම
7. ඉහළ විශ්වාසනීයත්වය

(05)

(i) (අ)

- විශේෂඥතාව දක්වන ක්ෂේත්‍රය
- බලතල හෙවත් අධිකාරිය
- කටයුතු වල ස්වභාවය

(ආ)

1. පුද්ගලාන්තර භූමිකාව
2. තොරතුරු භූමිකාව
3. තීරණ භූමිකාව

(ඉහත (අ) සහ (ආ) කොටසේ දක්වා ඇති ආකාරයට පිළිතුරු සපයා ඇත්නම් සම්පූර්ණ ලකුණු ලබා දෙන්න)

- (ii) (අ) 1. සීමිත සම්පත් කාර්යක්ෂමව හා සඵලදායීව යොදාගැනීමට හැකි වීම
2. ගනික ව්‍යාපාර පරිසරයට සාර්ථකව ප්‍රතිචාර දැක්විය හැකි වීම.
 3. ආයතනයේ පරමාර්ථ හා අරමුණු සාර්ථකව ලගා කර ගත හැකි වීම.
 4. මතුවන ගැටලුවලට සාර්ථකව මුහුණ දීමට හා නිවැරදිව තීරණ ගැනීමට හැකි වීම.

(ආ) ඒකක 400

- (iii) (අ) 1. ව්‍යාපාරයේ ස්වභාවය
2. ඉලක්ක ගනුදෙනුකරුවන්
 3. ව්‍යාපාර ඒ සුවිශේෂී බව
 4. වටිනාකම්, විශ්වාස හා දර්ශනය

(ආ) ආයතනයක් දිගු කාලයක් දී ළගා කරගැනීමට අපේක්ෂිත ප්‍රතිඵල පරමාර්ථ වන අතර කෙටි කාලයක් තුළ අත්පත් කර ගැනීමට අපේක්ෂිත අරමුණු වේ.

පරමාර්ථ ඉටු වන ආකාරයට අරමුණු ගොඩනගා ගත යුතු අතර අරමුණු ඉටුවීමෙන් පරමාර්ථ කර ගත හැකිය.

- (iv) (අ) 1. ඉහළ කාර්ය සාධනය සඳහා සේවකයන් අභිප්‍රේරණය කිරීමට හැකි වීම .
2. අනුගාමිකයන්ගේ ආත්ම විශ්වාසය හා මානසික ශක්තිය තහවුරු කිරීමට හැකි වීම.

(ආ) සැලසුම්කරණය යනු ව්‍යාපාර ආයතනයක් ළගා කරගැනීමට අපේක්ෂිත තත්වයන් නිර්මාණය කිරීමෙන් ඒ සඳහා වන කළයුතු ක්‍රියාකාරකම් නිශ්චය කිරීමටත් උචිත ආකාරයට වැඩ පිළිවෙලවල් නිර්මාණය කිරීම වන අතර සැලසුම් කරණයේ ප්‍රතිඵල නැතහොත් සැලසුම්කරණය තුළින් ගොඩනගා ලිඛිත ලේඛනය සැලසුමකි.

(v) (අ) කාර්යක්ෂම නිෂ්පාදන ක්‍රියාවලියක් සකස් කිරීම සඳහා අවශ්‍ය භෞතික පහසුකම් එනම් කාර්ය මධ්‍යස්ථාන , දුර්වල , යන්ත්‍ර උපකරණ , සහාය සේවා ආදිය සැලසුම් කිරීම කම්හල් පිරිසත සැලසුම් කිරීම ලෙස හැඳින්විය හැකිය.

- (ආ) 1. දුර්වල හා යන්ත්‍ර භාවිත කිරීමේ කාර්යක්ෂමතාව වර්ධනය වීම.
 2. ඉඩකඩ වලින් උපරිම ප්‍රයෝජන ගත හැකි වීම.
 3. දුර්වල භාවිත කිරීමේ පිරිවැය අඩු කර ගත හැකි වීම.
 4. දුර්වල හා සේවකයින් වලනය වීමේදී ඇති වන බාධා අවම වීම.
 5. අනතුරු අවම වීම.

(06)

(i) (අ) ගනුදෙනුකරු සංකල්පය

නිර්මලා එක් එක් ගනුදෙනුකරුවන්ගේ අවශ්‍යතා හා වුවමනා සුවිශේෂීව හඳුනා ගෙන ඒවා තෘප්තිමත් කරලීමට ප්‍රයත්න දරන බව මෙම විස්තරයෙන් කියැවෙන බැවින්ද ගනුදෙනු කරුවන්ගේ විශ්වාස හා පක්ෂපාතීත්වය දිනා ගැනීමට සමත් වී ඇති බව සඳහන්ව ඇති බැවින්ද ඇය අනුගමනය කරන්නේ ගනුදෙනුකරු සංකල්පය බව කිව හැකි අතර ගනුදෙනුකරුවන් වෙත් වෙන්ව ගෙන ඒ ඒ ගනුදෙනුකරුට ගැලපෙන ආකාරයට නිෂ්පාදිත ඉදිරිපත් කිරීම ගනුදෙනුකරු සංකල්පයයි.

(ආ) අලෙවිකරණ

1. පුළුල් ක්‍රියාවලිය.
2. විකිණීමට පෙර හා පසුත් ක්‍රියාත්මක වේ.
3. පාරිභෝගිකයා ඉක්මනින් දැකගනී.
4. මිනිස් අවශ්‍යතා වුවමනා තෘප්තිමත් කිරීම තුළින් ව්‍යාපාරික අරමුණු ඉටුකරගැනීම සඳහා වූ සමෝධානික ක්‍රියාවලියකි.

අලෙවිය

1. අලෙවිකරණය එක් කාර්යයකි.
2. අදාළ කාර්යයෙන් පසු ගනුදෙනුව අවසන් වේ
3. නිෂ්පාදිත විකිණීම කෙරෙහි අවධානය යොමු වේ.
4. භාණ්ඩයක අයිතිය , මූල්‍යමය වටිනාකමක් මත වෙනත් පාර්ශවයක් වෙත පැවරීම.

- (ii) (අ) 1. පුරෝකචනය කල හැකි වීම
 2. අහඹුවකින් සිදුවුවක් වීම.
 3. සම්බන්ධතාවකින් තොරවීම
 4. සත්‍යාපනය කල හැකි වීම.

(ආ) විස්තීර්ණ රක්ෂණ ඔප්පුව

මෙම ඔප්පුව මගින් අදාළ වාහනයට , වාහනයේ ගමන් ගන්නා මගීන්ට හා ගෙන යන භාණ්ඩ වලටද බාහිර පුද්ගලයන්ට ද දේපල වලටත් යන පාර්ශව තුනටම සිදු වන හානිය ආවරණය වේ

අවම තෙවන රක්ෂණ ඔප්පුව

තෙවන පක්ෂ අවදානම් පමණක් මෙමගින් ආවරණය කරයි. එනම් බාහිර පාර්ශව වලට සිදුවන මරණ තුවාල හා දේපල හානි වලට වන්දි ගෙවනු ලැබේ. සෑම රථවාහන හිමියෙකුම ලබා ගත යුතු රක්ෂණ සහතිකයයි.

(iii) (අ) ශුද්ධ ලාභ අනුපාතය - (බදු පෙර ශුද්ධ ලාභය + විකුණුම්)X(100)

සී/ස සියල් සමාගම
 $(50,000/600,000) \times 100$
 8.3%

සී/ස විමල් සමාගම
 $(60,000/300,000) \times 100$
 20%

(ආ) සී/ස විමල් සමාගම

ආයෝජිත ප්‍රාග්ධනට සාපේක්ෂව උපයා ඇති ශුද්ධ ලාභ අනුපාතය ඉහළ අගයක් ගැනීම.

(iv) (අ) සමස්ත වෙළෙඳපොළ තුළ සිටින විවිධ ගති ලක්ෂණ වලින් යුක්ත ගනුදෙනුකරුවන් හඳුනාගෙන ඒ අතරින් ආයතනයට වඩාත් ආකර්ශනීය ලෙස මෙන්ම ලාභදායීව සේවය කල හැකි වෙළෙඳපල කොටසයි.

අලෙවිකරුවන්ගේ කාර්යභාරය වන්නේ තෝරාගත් ඉලක්ක වෙළෙඳපලට ගැලපෙන පිළිගැන්වීම සංවර්ධනය කිරීමයි.

(ආ) භාණ්ඩ සන්නම යනු යම් ආයතනයක් සිය විවිධ නිෂ්පාදිත සඳහා වෙන් වෙන්ව සන්නම් භාවිතා කිරීමයි. පෞද්ගලික සන්නම යනු නිෂ්පාදකයෙකු විසින් නිෂ්පාදිත වෙළෙඳුන්ට අලෙවි කළ පසුව වෙළෙඳුන් විසින්ම එම නිෂ්පාදිත සඳහා නිර්මාණය කර ගන්නා සන්නමකි.

(v) (අ) 1.කොටස් නිකුතුව

2. ණයකර නිකුතුව

3. රඳවාගත් ලාභ

4. ක්ෂය සඳහා වෙන්කිරීම්

(ආ) අමතර පිරිවැයක් දැරීමට සිදු නොවීම.

කොන්දේසි වලට යටත් වීමට සිදු නොවීම .

(07)

(i) (අ) ආයතනයක් පරමාර්ථ හා අරමුණු ඉටුකර ගැනීම සඳහා ආයතන සේවක අවශ්‍යතා නිශ්චය කිරීම හා එම අවශ්‍යතා ඉටුකරගැනීම පිණිස ගතයුතු උපාය මාර්ග තීරණය කිරීම පිළිබඳ ක්‍රියාවලිය මානව සම්පත් සැලසුම්කරණයයි.

(ආ)

- මානව සම්පත් ඉල්ලුම පුරෝකචනය
- මානව සම්පත් සැපයුම තක්සේරු කිරීම
- මානව සම්පත් ඉල්ලුම හා සැපයුම සන්සන්දනය
- මානව සම්පත් හිඟයට හෝ අතිරික්තයට ගත යුතු උපායමාර්ග සංවර්ධනය
- මානව සම්පත් සැලැස්ම සකස් කිරීම
- මානව සම්පත් සැලසුම්කරණ ප්‍රයත්නය ඇගයීම හා වැඩි දියුණු කිරීම.

(ii) (අ)

- රැකියා ආකර්ෂණ හඳුනා ගැනීම
- ආකර්ෂණයට අදාළ සාධක සලකා බැලීම
- රැකියා නියමයන් අධ්‍යනය කිරීම
- අයදුම්පත පිළියෙල කිරීම
- ආකර්ෂණ ක්‍රමය තෝරාගැනීම
- ක්‍රියාත්මක කිරීම

(ආ)

- සේවකයාගේ නම හා ලිපි සොමුව
- සේවකයාගේ තනතුරු නාමය හා එහි ස්වභාවය
- රැකියාව ආරම්භ කරන දිනය
- වැටුප් හා ප්‍රතිලාභ
- පරිවාස කාලය
- වැඩ කරන දින / පැය ගනන
- විනය සම්බන්ධ ක්‍රියා මාර්ග
- සේවක අයිතිවාසිකම් හා වරප්‍රසාද
- සේවය අවසන් කිරීම
- දුක් ගැනවිලි ඉදිරිපත් කල හැකි ආකාරය
- උසස් කිරීම් පිළිබඳ
- සේවාදායකයාගේ අත්සන

(iii) (අ) ආයතනයේ නිෂ්පාදන කටයුතු වලට බාධා ඇතිවීම ඇණවුම් නිසි වේලාවට සපුරාලීමට නොහැකි වීම

(ආ) මෙම ආයතනයේ සේවක සේවිකාවන් වැඩට නොපැමිණීම ඊහළ ගොස් ඇති බව සඳහන් වන නිසා සේවක ප්‍රවාසිතාව ඉහළ මට්ටමක පවතින බව කිව හැකිය. සේවක සේවිකාවන් සැලකිය යුතු පිරිසක් මෙම ආයතනයෙන් ඉවත් ව යන බව සඳහන්ව ඇති නිසා ශ්‍රම පිරිවැටුම ද ඉහළ අගයක් ගනු ඇත.

(iv) රටක මූල්‍ය ක්‍රමයේ සංවිධිත ක්‍රියාකාරීත්වය හා ස්ථායීතාව තහවුරු කිරීම සඳහා ආධාර වන ගෙවීම් හා පියවීම් පද්ධති මූල්‍ය යටිතල පහසුකම් ලෙස හැඳින්වේ.

උදාහරණ

- තත්කාලීන දළ පියවීම් පද්ධතිය
- ජායාගත පිළිඹිබු වෙක්පත් නිශ්කාශන පද්ධතිය
- නිර්ලේඛ සුරැකුම්පත් පියවීමේ පද්ධතිය
- ජගත් අන්තර් බැංකු සන්නිවේදන සංගමය

(v) 1. 520 000

2. දළ ලාභ අනුපාතය - දළ ලාභය / විකුණුම් X 100
520 000/1000 000x100
52%

3. සාමාන්‍ය තොගය - ආරම්භක තොගය + අවසාන තොගය / 2
100 000 + 220 000 / 2
160 000

4. තොග පිරිවැටුම් අනුපාතය - විකුණුම් භාණ්ඩ වල පිරිවැය / සාමාන්‍ය තොගය
480 000 / 160 000
3 (චාර තුනයි)

(08)

(i) (අ) ව්‍යුහගත තීරණ යනු කලින් තීරණය කර ගත් ආකෘතියට අනුව කිසියම් විසඳුමක් ලබා දීම.

නිදසුන : ආර්ථික ඇණවුම් ප්‍රමාණය ගණනය කිරීම

ව්‍යුහගත නොවන තීරණ යනු පෙර තීරණය කරන ලද ආකෘතියකින් තොරව හදිසියේ පැන නගින අවස්ථා සඳහා ගනු ලබන තීරණයි.

නිදසුන : ක්ෂණික ඇණවුම් සපුරාලීමට හදිසි මිලදී ගැනීම්

(ආ)

- රූපමය දත්ත- භාණ්ඩවල ඡායාරූපය
- සංඛ්‍යාමය - භාණ්ඩවල මිල ගණන්
- ශ්‍රව්‍යමය - පටිගත කරන ලද පාරිභෝගික අදහස්
- දෘශ්‍යමය - මිල ගණන් දැක්වෙන නාම පුවරු

(ii) (අ) විදුලි සංදේශ හා පරිගණක තාක්ෂණය ඔස්සේ වාචික, රූපමය, අක්ෂරමය , හා අංකමය තොරතුරු අත්පත් කර ගැනීම , සැකසීම , ගබඩා කිරීම හා බෙදා හැරීම තොරතුරු තාක්ෂණයයි.

(ආ) අලෙවිකරණ තොරතුරු පද්ධති

- ප්‍රචාරණ වැඩසටහන් ක්‍රියාත්මක කිරීම
- වෙළඳපල පර්යේෂණ කටයුතු

මූල්‍ය කළමනාකරණ තොරතුරු පද්ධති

- ප්‍රාග්ධනය අයවැයකරණය
- විගණනය

(iii) (අ)

- දෘඪාංග
- මෘදුකාංග
- ජීව්‍යාංග
- දත්ත
- ක්‍රියාපටිපාටි
- ස්ථිරාංග

(ආ) විදුලි සංදේශ හා පරිගණක තාක්ෂණය ඔස්සේ වාචික රූපමය , අක්ෂරමය හා අංකමය තොරතුරු අත්පත්කර ගැනීම , සැකසීම , ගබඩා කිරීම හා බෙදා හැරීම තොරතුරු තාක්ෂණය ලෙස හැඳින්වේ.

- සන්නිවේදන තාක්ෂණය
- තොරතුරු කළමනාකරණ තාක්ෂණය
- ගණනය කිරීමේ තාක්ෂණය

(iv) (අ)

- මෙහෙයුම් සැලැස්ම
- ස්ථාවර වත්කම් අවශ්‍යතාව
- අමුද්‍රව්‍ය අවශ්‍යතාව
- නිෂ්පාදන පොදුකාර්ය පිරිවැය
- අපද්‍රව්‍ය බැහැර කිරීම

මූල්‍ය සැලැස්ම


- ඇස්තමේන්තුගත ව්‍යාපෘති පිරිවැය
- ඇස්තමේන්තුගත ආදායම් ප්‍රකාශය
- ඇස්තමේන්තුගත මුදල් ප්‍රවාහ ප්‍රකාශය
- ඇස්තමේන්තුගත ශේෂ පත්‍රය

(ආ)

- ව්‍යාපාර කටයුතු පවත්වාගෙන යාම සඳහා මග පෙන්වීම
- ව්‍යාපාරයකට අවශ්‍ය මූල්‍ය පහසුකම් ලබා ගැනීමට ප්‍රයෝජනවත් වීම
- ව්‍යාපාර කෙරෙහි ඇල්මැති පාර්ශවයන්ට ව්‍යාපාරය පිළිබඳ අවබෝධයක් ලබා දීමට
- ව්‍යාපාරයේ කාර්ය සාධනය ඇගයීම සඳහා ප්‍රයෝජනයට ගත හැකි වීම.

(ව)

- නියමිත කාලය තුළ ව්‍යාපාර කටයුතු ආරම්භ කළ නොහැකි වීම
- ව්‍යාපාරික අරමුණු හා පරමාර්ථ කරා ළඟා වීම දුෂ්කර වීම
- මූල්‍ය සම්පාදනය කර ගැනීම අසීරු වීම
- අනපේක්ෂිත පිරිවැයක් දැරීමට සිදු වීම
- සම්පත් නාස්තිය හා අපතේ යාම් වැඩිවීම.
- නිවැරදි තීරණ ගැනීමට නොහැකි වීම



එල්.එච්.මසයිඩ්
දෙවන වසර
මූල්‍ය අධ්‍යයන අංශය



ජේ.ඒ.සී.ගයන්ත්‍රි
දෙවන වසර
මූල්‍ය අධ්‍යයන අංශය

ආර්ථික විද්‍යාව

01 පහත සඳහන් ප්‍රකාශ අතුරින් සත්‍ය ප්‍රකාශය තෝරන්න.

- 1) ශුන්‍ය මිලක් යටතේ පාරිභෝගිකයින්ට ලැබෙන සියළු දෑ ආර්ථික නොවන භාණ්ඩ වේ.
- 2) ආර්ථික නොවන භාණ්ඩයක නිශ්පාදන ක්‍රියාවලියක් නැත.
- 3) ආර්ථික නොවන භාණ්ඩයක් මගින් පුද්ගලයින්ට ධනාත්මක තෘප්තියක් නොලැබේ.
- 4) හිඟකම නොමැති සමාජයක් තුළ වුවද ආර්ථික භාණ්ඩ තිබිය හැකිය.
- 5) ආර්ථික භාණ්ඩ නිශ්පාදනය සම්බන්ධයෙන් වුව ද ආවස්ථික පිරිවැය ශුන්‍ය අවස්ථා පවතී.

02 පහත සඳහන් දෑ අතුරින් අභිමතානුරූපී ප්‍රකාශයක් වනුයේ,

- 1) ආර්ථිකයක ස්වාභාවික සම්පත් ප්‍රතිශ්ඨාපනය කළ හැකි සම්පත් සහ ප්‍රතිශ්ඨාපනය කළ නොහැකි සම්පත් ලෙස වර්ග කරයි.
- 2) පරිසරය හිඟ සම්පතකට උදාහරණයක් වේ.
- 3) අසීමිත වුවමනා සපුරාලීම සඳහා ආර්ථිකයක් සතුව ඇත්තේ සීමිත සම්පත් ප්‍රමාණයකි.
- 4) වර්තමානයේ ශ්‍රී ලංකාවේ උද්ධමන අනුපාතිකය අංක එකේ සංඛ්‍යාවකි.
- 5) ආදායම අසාධාරණ ලෙස බෙදී යාම අසාධාරණ වේ.

03 පූර්ණ සේවා නියුක්තිය පවතින ආර්ථිකයක, ප්‍රාග්ධන ආයෝජන ඉහළ නැංවීමේ ආවස්ථික පිරිවැය වනුයේ,

- 1) පරිභෝජනය පහළ වැටීමයි
- 2) ඉතුරුම් ඉහළ නැංවීම
- 3) නිමවුම පහළ වැටීම
- 4) ආදායම පහළ වැටීම
- 5) පොලී අනුපාතිකය ඉහළ නැංවීම

04 බෝතල් කරන ලද පානීය ජලය සඳහා ඇති ඉල්ලුම, සාපේක්ෂ වශයෙන් මිල නම්‍ය වෙතැයි සලකන්න. මෙම තත්වය යටතේ බෝතල් කරන ලද පානීය ජල සැපයුමෙහි වැඩි විමක් සිදු වුවහොත්, පහත සඳහන් කවර ප්‍රතිච්චාකයන් හටගනු ලැබේ ද?

- 1) මුළු අයහාරය ඉහළ නංවමින් මිල පහළ බසියි
- 2) මුළු අයහාරය පහළ හෙළමින් මිල පහළ බසියි
- 3) බෝතල් කරන ලද පානීය ජලයෙහි අධි සැපයුමක් හටගනී
- 4) බෝතල් කරන ලද පානීය ජලය සඳහා අධි ඉල්ලුමක් හටගනීයි
- 5) මිලෙහි සාපේක්ෂ වශයෙන් සුළු අඩුවීමක් හට ගන්නා නමුදු, සමතුලිත ප්‍රමාණයෙහි වෙනසක් හට නොගනී.

05 කිසියම් කුඩා රටක සීනි සඳහා දේශීය වෙළඳපොළේ පවත්නා ඉල්ලුම් හා සැපයුම් වක්‍ර පිළිවෙලින් පහත සඳහන් සමීකරණ පෙන්වුම් කරයි.

$$Q_d = 320 - 3p \quad Q_s = -80 + 2p \text{ (සැපයුම)}$$

තවද එම රටේ සීනි වෙළෙඳපොළ ජාත්යන්තර වෙළඳාමට විවෘත බවත්, සීනි ඒකකයක ලෝක වෙළෙඳපොළ මිල රු.60 ක් වන බවත් සලකන්න. විදේශ වෙළඳාමට විවෘතව ඇති තත්ත්වය යටතේ, වෙළෙඳ පොළට දේශීය වශයෙන් සපයනු ලබන සීනි ප්‍රමාණය කොපමණ වේද?

- 1) ඒකක 40
- 2) ඒකක 60
- 3) ඒකක 80
- 4) ඒකක 100
- 5) ඒකක 140

06 පෙට්‍රල් සඳහා පවත්නා ඉල්ලුම අතිශයින් අනම්‍ය බවත් එහි සැපයුම අතිශයින් නම්‍ය බවත් සලකන්න. මෙම තත්ත්වය යටතේ පෙට්‍රල් මත නිෂ්පාදන බද්දක් පනවනු ලැබුවහොත් බදු බර,

- 1) ඉතා විශාල වශයෙන් ගැනුම්කරුවන් විසින් දරනු ලැබේ
- 2) ඉතා විශාල වශයෙන් විකුණුම්කරුවන් විසින් දරනු ලැබේ
- 3) ගැනුම්කරුවන් සහ විකුණුම්කරුවන් විසින් සමසමව දරනු ලැබේ
- 4) මුළුමනින්ම අය බදු ගෙවන්නෝ දරති
- 5) ගැනුම්කරුවෝ හෝ විකුණුම්කරුවෝ හෝ නොදරති

07 එක්තරා නිෂ්පාදන ආයතනයක නිෂ්පාදනය කරන ප්‍රමාණය සමග වෙනස් කළ නොහැකි පිරිවැයක් පවතී නම්, එම ආයතනය සම්බන්ධයෙන් සපයා ඇති කවරක් සාවද්‍ය වේ ද?

- 1) එම ආයතනය වර්තමානයේ දී නිෂ්පාදන ක්‍රියාවලිය හීන වන එලදා නීතියට යටත් වේ
- 2) නිෂ්පාදනය වැඩි කළ හැක්කේ විචල්‍ය යෙදවුම් වැඩි කිරීමෙන් පමණි
- 3) නිෂ්පාදනය කරන ප්‍රමාණය වැඩි කරන විට ඒකක විචල්‍ය පිරිවැය මුල දී අඩු වී පසුව වැඩිවන බව
- 4) නිෂ්පාදන ක්‍රියාවලිය තුළ තාක්ෂණය ස්ථාවරව පවතින බව
- 5) නිෂ්පාදන ක්‍රියාවලිය තුළ ස්ථාවර පරිමාණානුකූල එල ක්‍රියාත්මක වන බව

08 කෙටි කාලීන නිෂ්පාදන ක්‍රියාවලියට අදාළව පහත විස්තර සපයා ඇත.

සාමාන්‍ය ස්ථාවර පිරිවැය AFC	8
මුළු විචල්‍ය පිරිවැය TVC	15,000
මුළු පිරිවැය TC	27,000

මෙම ආයතනයේ නිෂ්පාදන මට්ටම වනුයේ,

- 1) ඒකක 1200
- 2) ඒකක 1500
- 3) ඒකක 800
- 4) ඒකක 1000
- 5) ඒකක 750

09 නිම් ඇඳුම් නිපදවන ආයතනයක යන්ත්‍ර ක්‍රියාකරවන්නාට ගෙවන වැටුප සම්පත් නිම්කාරිත්වය හා නිෂ්පාදනය ප්‍රමාණය සමඟ හැසිරීම යන පදනම් මත වර්ග කරනුයේ,

නිම්කාරිත්වය අනුව

හැසිරීම අනුව

- 1) මූල්‍ය පිරිවැයක්
- 2) ආරෝපිත පිරිවැයක්
- 3) ආරෝපිත පිරිවැයක්
- 4) මූල්‍ය පිරිවැයක්
- 5) විචල්‍ය පිරිවැයක්

- ස්ථාවර පිරිවැයක්
- ස්ථාවර පිරිවැයක්
- විචල්‍ය පිරිවැයක්
- විචල්‍ය පිරිවැයක්
- ආරෝපිත පිරිවැයක්

10 වෙළෙඳ පොළ ආර්ථික පද්ධතියක ආණ්ඩුවේ මැදිහත්වීම් කිහිපයක් පහතින් දැක්වේ.

- A ස්වභාවික ඒකාධිකාරියන් පිළිබඳව සෘජු මැදිහත්වීම
- B කතිපයාධිකාරී වෙළඳ පොළවල් පිළිබඳව සෘජු පාලනය
- C දිළිඳු ජන කොටස් වලට මූල්‍ය සංක්‍රාම ලබාදීම
- D ශුද්ධ පොදු භාණ්ඩ සපයනු ලැබීම
- F වෙළඳ පොළවල් තුළ තරඟකාරිත්වය නිර්මාණය කිරීමට අවශ්‍ය පියවර ගැනීම

ඉහත ඒවා අතුරින් වෙළෙඳ පොළ ක්‍රියාකාරිත්වය ශක්තිමත් කෙරෙන ආණ්ඩුවේ මැදිහත්වීම් වනුයේ,

- 1) A,B,D
- 2) B,C,E
- 3) A,B,E
- 4) C,D,E
- 5) A,C,E

11 එක්තරා කර්මාන්ත ශාලාවකින් පිටකරන අපද්‍රව්‍ය අසල ගංගාවකට මුදාහැරීම නිසා එම ගංගා ජලය ප්‍රයෝජනයට ගන්නා පාර්ශව වලට සිදුවන හානිය එම කර්මාන්තශාලාවේ පිරිවැයට ඇතුළත් නොවේ. එම කර්මාන්තශාලාව තුළ නිපදවන භාණ්ඩ වල,

- 1) මිල වැඩියෙන් ද, ප්‍රමාණය අඩුවෙන් ද නිරූපණය වෙයි
- 2) මිල අඩුවෙන් ද, ප්‍රමාණය වැඩියෙන් ද නිරූපණය වේ
- 3) මිල වැඩියෙන් ද, ප්‍රමාණය වැඩියෙන් ද නිරූපණය වේ
- 4) මිල අඩුවෙන් ද ප්‍රමාණය අඩුවෙන් ද නිරූපණය වේ
- 5) මිල ප්‍රශස්ත මට්ටමේ ද, ප්‍රමාණය අඩුවෙන් ද නිරූපණය වේ

12 අතිරේක පුද්ගලයකු පරිභෝජනය කරනු ලැබුව ද අමතර පිරිවැයක් දැරීමට සිදු නොවන භාණ්ඩ වර්ග දැක්වෙන සංයෝගය කුමක් ද?

- 1) ජාතික ආරක්ෂාව හා අධිවේගී මාර්ගයක්
- 2) මුහුදු වෙරළක් හා සාගරේ මත්ස්‍ය සම්පත්
- 3) අධිවේගී මාර්ගයක් හා වන සම්පත
- 4) පරිගණකයක් හා ජාතික ආරක්ෂාව
- 5) ඔරලෝසු කණුවක් හා සාගරයේ මත්ස්‍ය සම්පත

13 ශ්‍රී ලංකාව සම්බන්ධයෙන් සමාජ ප්‍රාග්ධනය යන්නට පහත දැක්වෙන දෑ වලින් කවරක් ඇතුළත් වේ ද?

- 1) මහාමාර්ග, වැව් අමුණු, බලශක්තිය හා සන්නිවේදන පද්ධති වේ
- 2) පාසල් ගොඩනැගිලි, පුස්තකාල, රෝහල් හා සනීපාරක්ෂක ක්‍රියාවලි වේ
- 3) විශේෂඥ වෛද්‍යවරු, ඉංජිනේරුවරු, නීතිඥයින් හා මෘදුකාංග ඉංජිනේරුවන් වේ
- 4) මරණාධාර සමිති, ගොවි සමිති, කාන්තා සමිති හා ණය දෙන සමිති වේ
- 5) භාණ්ඩාගාර ඩිල්පත්, ඉතුරුම් තැන්පතු, සමාගම් කොටස් හා ණයකර වේ

14 අධ්‍යාපන සේවා සම්බන්ධයෙන් සපයා ඇති පහත කවරක් නිවැරදි වේ ද?

- 1) පරිභෝජනයේ තරගකාරීත්වයක් ඇත, පරිභෝජනය සීමාකළ නොහැක, පරිභෝජනයේ ධන බාහිරතා ඇත
- 2) පරිභෝජනයේ තරගකාරීත්වයක් නැත, පරිභෝජනය සීමාකළ නොහැක, පරිභෝජනයේ ධන බාහිරතා ඇත
- 3) පරිභෝජනයේ තරගකාරීත්වයක් ඇත, පරිභෝජනය සීමාකළ හැක, පරිභෝජනයේ ධන බාහිරතා ඇත
- 4) පරිභෝජනයේ තරගකාරීත්වයක් නැත, පරිභෝජනය සීමාකළ නොහැක, පරිභෝජනයේ ඍණ බාහිරතා ඇත
- 5) පරිභෝජනයේ තරගකාරීත්වයක් ඇත, පරිභෝජනය සීමාකළ හැක, පරිභෝජනයේ ඍණ බාහිරතා ඇත

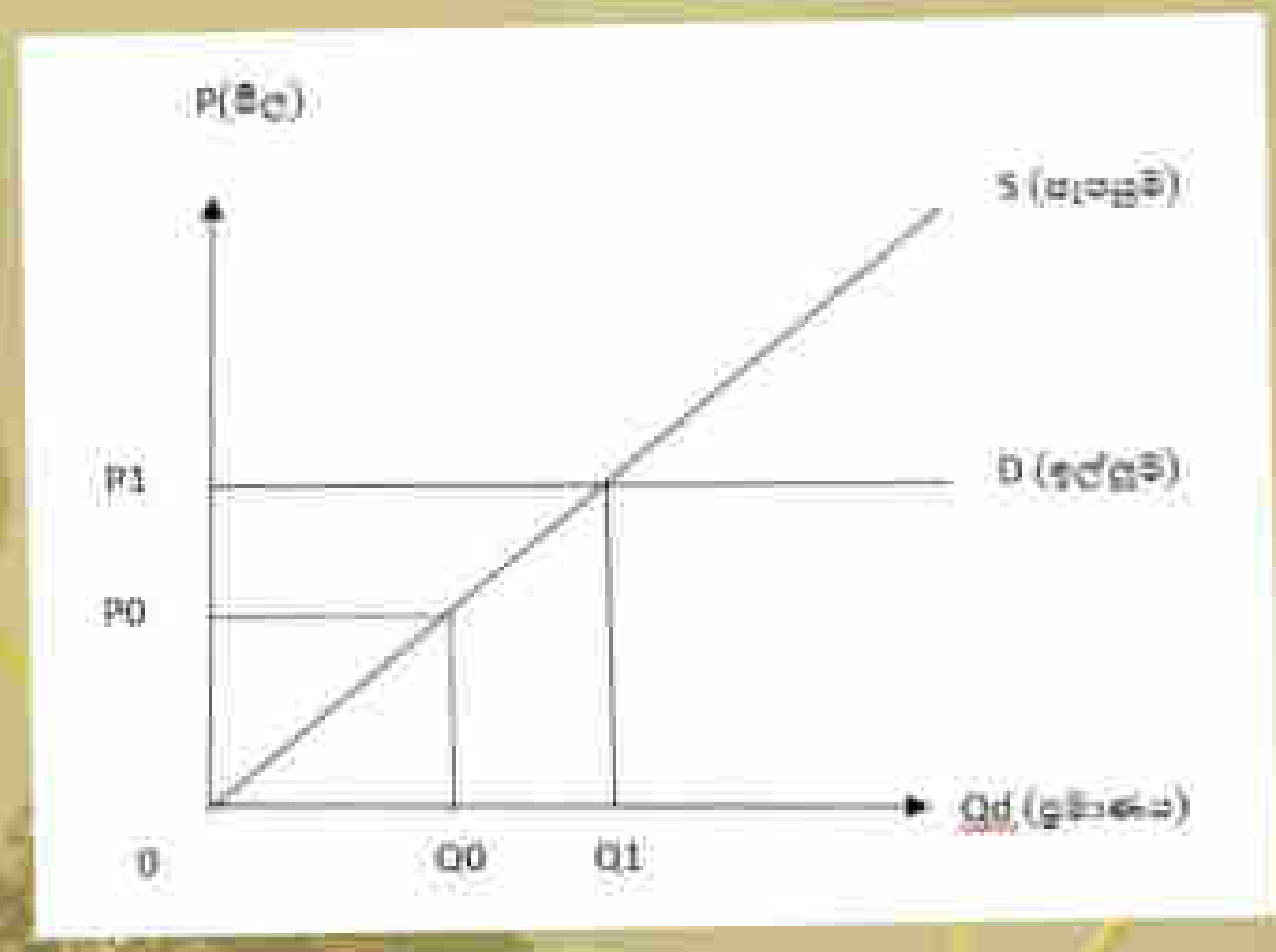
15 "ආණ්ඩුව අසමත් වීම" නමින් ආර්ථික විද්‍යාඥයින් විසින් හඳුන්වනු ලබන සංසිද්ධියට වඩාත්ම බලපෑ හැකි හේතුව වන්නේ පහත සඳහන් දෑ අතරින් කවරක් ද?

- 1) ඇතැම් භාණ්ඩ හා සේවා නිෂ්පාදන කිරීමේ දී ඍණ බාහිරතා හට ගැනීම
- 2) අවගුණ භාණ්ඩ අධි පරිභෝජනය
- 3) ආදායම් හා ධන ව්‍යාපෘතිය අසමාන වීම
- 4) වෙළෙඳ පොළවල අපූර්ණ තරගය පැවතීම
- 5) දේශපාලඥයින් ස්චාර්ථය උදෙසා යොමු වීම

16 ලෝක වෙළෙඳ සංවිධානය බිහි කිරීමේ අපේක්ෂාව වූයේ,

- 1) ජාත්‍යන්තර මූල්‍ය ක්‍රමයේ ස්ථායීතාව පවත්වාගැනීම
- 2) නිෂ්පාදන කටයුතුවලට අවශ්‍යය ආයෝජන පහසුකම් සැපයීම මගින් සංවර්ධනය වේගවත් කිරීම
- 3) ජාත්‍යන්තර මූල්‍ය ප්‍රශ්නවල දී උපදේශන සේවා සහ සහයෝගීතාව ලබා දෙන යාන්ත්‍රණයක් සැපයීම
- 4) ජාත්‍යන්තර කෘෂිකාර්මික ප්‍රතිපත්තියක් ස්ථාපිත කිරීම.
- 5) ජාත්‍යන්තර වෙළෙඳාම නිදහස් ව, නිශ්චිතව හා සුමට ව පවත්වාගෙන යෑමට බලපාන ගෝලීය නීතිරීති සම්පාදනය කිරීම

17 පහත දැක්වෙන රූප සටහනෙහි කිසියම් පාරිභෝගික භාණ්ඩයක් සඳහා ඇති වෙළෙඳ පොළ සමතුලිතය නිරූපණය වේ.



රජය (P0) මිල උපරිම මිල ලෙස නියම කිරීමෙන් පසු සැපයුම් ප්‍රමාණය (Q0) දක්වා අඩු වී ඇත. වෙළෙඳ පොළේ මුළු ප්‍රමාණය ම උපරිම කළු කඩ මිල යටතේ අලෙවි කිරීමේ ප්‍රතිඵලය ලෙස,

පාරිභෝගික අතිරික්තය නිෂ්පාදන අතිරික්තය ආර්ථික ශුභසාධනය

- 1) වෙනස් නොවේ අඩු වේ අඩු වේ
- 2) වෙනස් නොවේ වැඩි වේ වැඩි වේ
- 3) අඩු වේ අඩු වේ අඩු වේ
- 4) අඩු වේ වැඩි වේ වෙනස් නොවේ
- 5) වැඩි වේ අඩු වේ අඩු වේ

18 දිවා සුරැකුම් මධ්‍යස්ථානය වෙත යොමු කෙරෙන දුරුවන් වෙනුවෙන් වැය කිරීමට සිදුවන පිරිවැය ආවරණය කරගනු වස් රජය විසින් සෑම දෙමව්පියෙකුට ම එක් එක් දරුවා වෙනුවෙන් සහනාධාර කුපන් පතක් දෙනු ලැබේ යැයි සලකන්න. මේ නිසා දිවා සුරැකුම් සේවා සැපයුම් වෙළෙඳ පොළෙහි කෙබඳු වෙනසක් ඇති විය හැකි ද?

- 1) දිවා සුරැකුම් සේවා සඳහා ඉල්ලුම අඩු වන අතර මිල පහළ බසීයි
- 2) දිවා සුරැකුම් සේවා සඳහා ඉල්ලුම වැඩි වන අතර මිල ඉහළ නගීයි
- 3) දිවා සුරැකුම් සේවා සැපයුම වැඩි වන අතර මිල පහළ බසීයි
- 4) දිවා සුරැකුම් සේවා සැපයුම අඩු වන අතර මිල ඉහළ නගීයි
- 5) දිවා සුරැකුම් සේවා සැපයීමේ නිඟයක් දිගින් දිගට ම හට ගනීයි

19 ආන්තික ඵලදාව සෘණ වීමට පෙර,

- 1) මුළු ඵලදාව අඩු වන වේගයෙන් වැඩි වේ
- 2) මුළු ඵලදාව වැඩිවන වේගයෙන් අඩු වේ
- 3) මුළු ඵලදාව අඩු වන වේගයෙන් අඩු වේ
- 4) මුළු ඵලදාවේ අවම අගය වාර්තා වේ
- 5) මුළු ඵලදාව සමානුපාතික ව වැඩි වේ

20 "ගෝලීය පොදු භාණ්ඩ" වල ප්‍රධාන ලක්ෂණයක් වන්නේ කුමක් ද?

- 1) මිනිස් චුළුමනාවන්ට සාපේක්ෂව අසීමිත සැපයුමක් තිබීම
- 2) ස්වභාව ධර්මයේ සාධක ලෙස සම්පාදනය වී තිබීම
- 3) පරිභෝජනයේ තරඟකාරීත්වයක් දක්නට ලැබීම.
- 4) එම භාණ්ඩවලින් ලැබෙන ප්‍රතිලාභ ලොව පුරා සිටින පුද්ගලයින්ට භුක්ති විදිය හැකි වීම
- 5) කිසියම් උපරිම මට්ටමක් දක්වා පමණක් පරිභෝජනයේ තරඟකාරීත්වයක් දක්නට ලැබීම

21 තිරසාර සංවර්ධනය සඳහා වන (2030) න්‍යාය පත්‍රයට අනුව සියලුම ජාතීන් එකඟතාවය පළ කළ තිරසාර සංවර්ධන ඉලක්ක සංඛ්‍යාව කොපමණ ද?

- 1) 8
- 2) 11
- 3) 14
- 4) 17
- 5) 19

22 ආර්ථික සංවර්ධනය යන්නෙන් අදහස් කරන්නේ,

- 1) ආර්ථික වෘද්ධියයි
- 2) ආර්ථික වෘද්ධියට අමතරව ආදායම් ව්‍යාප්තියේ සහ ආර්ථික ව්‍යුහයේ නිතකර වෙනස්කම් ද හට ගැනීමයි
- 3) නාගරික ජනතාවගේ ශුභසාධන මට්ටම උසස් වීමයි
- 4) දළ ජාතික නිශ්පාදිතයේ තිරසර ඉහළ යාමයි
- 5) සාපේක්ෂ දරිද්‍රතාව මුලිනුපුටා දැමීමයි

23 Y භාණ්ඩය ගිලන් භාණ්ඩයක් නම්, එකඟ විය නොහැකි ප්‍රකාශය කුමක් ද?

- 1) මිල වැඩි වන විට ඉල්ලුම අඩු වේ
- 2) මිල අඩු වීම නිසා මූර්ත ආදායම ඉහළ ගිය හෙයින් ඉල්ලුම් ප්‍රමාණය අඩු කරයි.
- 3) අනිවාර්යයෙන් ම බාල භාණ්ඩයකි
- 4) පාරිභෝගික විශදම තුල වැඩි වැදගත්කමක් හිමි කරගන්නා භාණ්ඩයකි
- 5) මිල වැඩි වන විට ආදේශක ප්‍රතිවිපාකයේ බලපෑම බලවත් නැති නිසා මිල ප්‍රතිවිපාකය ධන වේ.

24 සමතුලිතතාවේ පවතින විවෘත ආර්ථිකයක අපනයන 500ක් ද ආනයන 400ක් ද අයවැය හිගය රු.300ක් ද පෞද්ගලික ඉතුරුම් 1000ක් ද වේ. එම ආර්ථිකයේ ආයෝජන මට්ටම වන්නේ,

- 1) රු.600
- 2) රු.700
- 3) රු.800
- 4) රු.1000
- 5) රු.1200

25 මුදල් ප්‍රමාණවාදයට අනුව නාමික මුදල් සැපයුම 5%ක වැඩි වීමක් නිසා,

- 1) මුද්‍රිත මුදල් සැපයුම 5%කින් ඉහළ යනු ඇත.
- 2) මූර්ත ජාතික ආදායම 5%කින් ඉහළ යනු ඇත
- 3) සංසරණ ප්‍රවේගය 5%කින් ඉහළ යනු ඇත
- 4) මූර්ත පොලී අනුපාතිකය 5%කින් ඉහළ යනු ඇත
- 5) පොදු මිල මට්ටම 5%කින් ඉහළ යනු ඇත

26 රජය බදු අය කිරීමේ තිරස් සාධාරණත්වය යන්නෙන් අදහස් කරනුයේ,

- 1) සියළු බදු ගෙවන්නාගෙන් සමාන බදු අනුපාතයක් අයකර ගැනීමයි
- 2) වැඩි ආදායම් ලබන අයගෙන් වැඩි බදු ප්‍රතිශතයක් අයකර ගැනීමයි
- 3) සමාන හැකියා ඇති අයගෙන් සමාන බදු ප්‍රතිශතයක් අය කර ගැනීමයි
- 4) භාණ්ඩ සඳහා පනවන සියළු බදු අනුපාතයන් සමාන වන විටදීය
- 5) අඩු ආදායම් ලබන අයගෙන් අඩු බදු ප්‍රතිශතයක් අයකර ගැනීමයි

27 රාජ්‍ය බදු ආදායම් සංවේදීතා සංගුණකය වනුයේ,

- 1) වෙළඳ මිලට දළ දේශීය නිෂ්පාදිතයේ ප්‍රතිශතක වෙනස සහ රාජ්‍ය වියදම් අතර අනුපාතයයි
- 2) රාජ්‍ය බදු ආදායමේ වෙනස වෙළඳ මිලට දළ දේශීය නිෂ්පාදිතයේ වෙනසේ ප්‍රතිශතයක් ලෙස දැක්වීම
- 3) රාජ්‍ය බදු ආදායම, රාජ්‍ය ආදායමේ ප්‍රතිශතයක් ලෙස දක්වන අනුපාතයයි
- 4) රාජ්‍ය බදු ආදායම, රාජ්‍ය වියදමේ ප්‍රතිශතයක් ලෙස දක්වන අනුපාතයයි
- 5) රාජ්‍ය ආදායම් ප්‍රතිශත වෙනස හා රාජ්‍ය බදු ආදායමේ ප්‍රතිශත වෙනස අතර අනුපාතයයි

28 විනිමය අනුපාතිකයේ පහළ වැටීමක් බොහෝ විට තුඩු දෙනුයේ,

- 1) අපනයන මිල ඉහල යාමටය
- 2) ආනයන මිල පහළ වැටීමටය.
- 3) අපනයන සඳහා ඉල්ලුම වැඩි වීමටය
- 4) ආනයන සඳහා ඉල්ලුම වැඩි වීමටය
- 5) පොලී අනුපාතිකය ඉහල යාමටය.

29 ඉල්ලුමෙන් ඇදුණු උද්ධමනයක් බිහිවීමට සෘජුවම බලපාන සාධකය වන්නේ,

- 1) භාණ්ඩ ගත බදු පැනවීම
- 2) මුදල් සැපයුම ඉහල යාම
- 3) ආනයන මිල ගණන් ඉහල යාම
- 4) ලාභ අනුපාතය ඉහළ යාම
- 5) විනිමය අනුපාතය අවප්‍රමාණය

30 මුදල් සඳහා ඇති ඉල්ලුම ව්‍යුත්පන්න ඉල්ලුමක් ලෙස හඳුන්වන්නේ ඇයි?

- 1) කල්තබා ගත හැකි වත්කම් බැවිනි
- 2) මුදල්වල ස්ථායීතාව වෙනස් නොවන බැවිනි
- 3) උපයෝගීතාවක් ලබා දෙන භාණ්ඩ ලබා ගත හැකි බැවිනි
- 4) ආවස්ථික පිරිවැයක් පවතින බැවිනි
- 5) නිෂ්පාදන සාධක සඳහා ගෙවීම් කල හැකි බැවිනි

31) ප්‍රතිවක්‍රීය රාජ්‍ය මූල්‍ය ප්‍රතිපත්තියකට අදාළ නිවැරදි වරණය,

- 1) ආර්ථික පසු බැස්මක් පවතින විට රාජ්‍ය වියදම් හා බදු වැඩි කිරීම
- 2) ආර්ථික පසු බැස්මක් පවතින විට රාජ්‍ය වියදම අඩු කොට බදු වැඩි කිරීම
- 3) ආර්ථික පසු බැස්මක් පවතින විට රාජ්‍ය වියදම වැඩි කොට බදු අඩු කිරීම
- 4) ආර්ථික ප්‍රසාරනයක් පවතින විට රාජ්‍ය වියදම හා බදු අඩු කිරීම
- 5) ආර්ථික ප්‍රසාරනයක් පවතින විට රාජ්‍ය වියදම වැඩි කොට බදු අඩු කිරීම

32) ආදායම් විෂමතාව මැනිය හැක්කේ,

- 1) දළ දේශීය නිෂ්පාදිතය සහ දළ ජාතික ආදායම අතර වෙනස මගිනි
- 2) පීඨී සංගුණකය මගිනි
- 3) මූර්ත දළ දේශීය නිෂ්පාදිතයේ වර්ධන අනුපාතිකය මගිනි
- 4) ජාතික දරිද්‍රතා ඉම මගිනි
- 5) ප්‍රතිශීර්ෂ ආදායම මගිනි

33 (BRICSZ) රටවල් ලෙස ගැනෙනුයේ,

- 1) ඛංගලාදේශය, රුසියාව, ඉන්දියාව, චීනය හා දකුණු කොරියාව
- 2) බ්‍රසීලය, රුසියාව, ඉන්දියාව, චීනය හා සිංගප්පූරුව
- 3) ඛංගලාදේශය, රුසියාව, ඉන්දියාව, චීනය හා සිංගප්පූරුව
- 4) බ්‍රසීලය, රුසියාව, ඉන්දියාව, චීනය හා දකුණු අප්‍රිකාව
- 5) බ්‍රසීලය, රුසියාව, ඉන්දුනීසියාව, චීනය හා දකුණු කොරියාව

34 වර්තමාන ශ්‍රී ලංකා රජයේ පුනරාවර්තන වියදමෙහි විශාලතම සංරචකය වනුයේ,

- 1) පොලී ගෙවීම
- 2) වැටුප් හා වේතන
- 3) විශ්‍රාම වැටුප් ගෙවීම්
- 4) පොහොර සහනාධාර
- 5) රාජ්‍ය සංස්ථා වෙත ලබා දෙන වර්තන පැවරුම්

35 රටක ගෙවීම් ශේෂ ලේඛනයේ ජංගම ගිණුමට ඇතුළත් නොවන්නේ,

- 1) අදායක අපනයන
- 2) විදේශ ණය සඳහා පොලී ගෙවීම්
- 3) විදේශ ආයෝජන වලින් උපයා ගත් ලාභ
- 4) යටිතල පහසුකම් සඳහා අරමුදල් හිඟයක දී
- 5) ආර්ථික පසු බැස්මකදී

36 ව්‍යාපාර වක්‍රයක අදියරයන්ගේ අනුපිලිවල වනුයේ,

- 1) සංකෝචනය, ප්‍රසාරණය, පතුල හා මුදුනන වශයෙනි
- 2) සංකෝචනය, මුදුනන, ප්‍රසාරණය හා පතුල වශයෙනි
- 3) සංකෝචනය, පතුල, මුදුනන හා ප්‍රසාරණය වශයෙනි
- 4) සංකෝචනය, පතුල, ප්‍රසාරණය හා මුදුනන වශයෙනි
- 5) සංකෝචනය, මුදුනන, පතුල හා ප්‍රසාරණය වශයෙනි

37 නිෂ්පාදනයේ ආරෝපිත පිරිවැයක් පවතී නම්,

- 1) ගණකාධිකරණ ලාභය ආර්ථික ලාභය ඉක්මවා යනු ඇත
- 2) ආර්ථික ලාභය සෑම විටම ශුන්‍ය අගයක් ගනී
- 3) ආර්ථික ලාභය ගණකාධිකරණ ලාභය ඉක්මවා යයි
- 4) ගණකාධිකරණ ලාභය සෑම විටම ශුන්‍ය අගයක් ගනු ඇත
- 5) ආර්ථික ලාභය හා ගණකාධිකරණ ලාභය එකිනෙකට සමාන වනු ඇත

38 පහත සඳහන් දෑ අතුරින් නිෂ්පාදන සාධකයක් නොවන්නේ,

- 1) ස්වාභාවික සම්පත්
- 2) මානව සම්පත්
- 3) ප්‍රාග්ධනය
- 4) මුදල්
- 5) ව්‍යවසායකත්වය

39 කිසියම් භාණ්ඩයක් සඳහා පවතින ඉල්ලුම් වක්‍රය හොඳින්ම පවතිනුයේ පහත සඳහන් කවර කරුණක් වෙතත් වූ විටද?

- 1) ජනගහනය
- 2) එම භාණ්ඩයේ මිල
- 3) ආදේශක භාණ්ඩයක මිල
- 4) අනුපූරක භාණ්ඩයක මිල
- 5) කුටුම්භ වල සාමාන්‍ය ආදායම

40 පහත දැක්වෙන කෙබඳු ආර්ථික ගැටලුවක් ඇගයීමෙහි ලා ලෝරන්ස් වක්‍රය භාවිතා කල හැකි ද?

- 1) ආර්ථිකයේ නිෂ්පාදන සහ සම්පත් බෙදා වෙන් කිරීමේ කාර්යක්ෂමතාව
- 2) වෙළඳ හවුල්කරුවන්ගේ සාපේක්ෂ වාසි
- 3) රටවල් අතර විශේෂීකරණයේ තීව්‍රතාව
- 4) ආදායම් බෙදීයාමේ සාධාරණත්වය
- 5) සේවා ව්‍යුත්පාදන හා මිල ස්ථායීතාව අතර සම්බන්ධතාවය

41 වාණිජ බැංකුවලට මුදල් මැනිය හැක්කේ,

- 1) සංචිත සුරැකුම්පත් වලට මාරු කිරීමෙහි
- 2) මහ බැංකුවෙන් භාණ්ඩාගාර බිල්පත් මිලදී ගැනීමෙහි
- 3) අතැති මුදල් මහ බැංකුව වෙත යැවීමෙහි
- 4) 100%ක සංචිත අවශ්‍යතාවක් පවත්වා ගැනීමෙහි
- 5) අධි සංචිත ගනුදෙනුකරුවන්ට ණය වශයෙන් ලබා දීමෙහි

42 1960-1977 කාලය තුළ ශ්‍රී ලංකාවේ ක්‍රියාත්මක කල ආර්ථික සංවර්ධන ප්‍රතිපත්තිය හැඳින්විය හැක්කේ,

- 1) බාහිරානුමුඛ අපනයන සංවර්ධන ප්‍රතිපත්තිය
- 2) අන්‍යෝන්‍යානුමුඛ ආනයන ආදේශක ආර්ථික ප්‍රතිපත්තිය
- 3) නව ලිබරල් ආර්ථික ප්‍රතිපත්තිය
- 4) විවෘත ආර්ථික ප්‍රතිපත්තිය
- 5) වෙළඳපොළ කේන්ද්‍රීය සංවර්ධන ප්‍රතිපත්තිය

43 ආයෝජන ගුණකයේ වටිනාකම වැඩි වන්නේ පහත කවර කරුණක් වැඩි වීම නිසා ද?

- 1) මුදල් සැපයුම
- 2) සමතුලිත නිමැවුම
- 3) පෞද්ගලික ආදායම් බදු අනුපාතිකය
- 4) ආන්තික පරිභෝජන නැමියාව
- 5) ව්‍යවස්ථාපිත සංචිත අනුපාතිකය

44 කිසියම් කල්පිත ආර්ථිකයක සේවා වියුක්ත ජනගහනය ලෙස 50 000 ක් ද, සේවා නියුක්ත ජනගහනය ලෙස 450 000 ක් ද, වේ නම් එම ආර්ථිකයේ සේවා වියුක්ත අනුපාතිකය,

- 1) 11.1%
- 2) 10.0%
- 3) 9.2%
- 4) 8.0%
- 5) 7.4%

45 ශ්‍රී ලංකාවේ වර්තමාන ආර්ථික අර්බුදය විසඳා ගැනීම සඳහා ගෙන ඇති ක්‍රියාමාර්ගයක් නොවන්නේ,

- 1) පවත්නා විදේශ ණය ප්‍රතිව්‍යුහගත කිරීමට අදාළ පාර්ශව සමග සාකච්ඡා කිරීම
- 2) ජාත්‍යන්තර මූල්‍ය අරමුදලින් ණය පහසුකම් ලබා ගැනීම
- 3) ප්‍රතිපත්ති පොලී අනුපාතිකය පහල දැමීම
- 4) ව්‍යවහාර මුදල් හුවමාරු ගිවිසුම් ඇතිකර ගැනීමට කටයුතු කිරීම
- 5) රජයේ බදු ආදායම ඉහල නංවා ගැනීමට පියවර ගැනීම

46 තිරසාර සංවර්ධන සැලැස්මේ දැඩි අවදානයක් යොමු වී ඇති ප්‍රධාන ක්ෂේත්‍ර,

- 1) ජනතාව, පෘතුචි තලය, සමෘද්ධි, හවුල්කාරීත්වය, සාමය
- 2) නාවික, ගුවන්, දැනුම, සමාජ හා ආර්ථික
- 3) පාරිසරික, ආර්ථික, සාමාජික, වෘත්තීය හා මානසික තත්ත්වය
- 4) දිළිඳු බව, ආර්ථික වෘද්ධිය, සංවර්ධනය, සෞඛ්‍ය හා පෝෂණය
- 5) නිෂ්පාදනය, බෙදා හැරීම, ජාත්‍යන්තර වෙළඳාම, හා නව්‍යතා

47 වර්තමාන ශ්‍රී ලංකාවේ උපතේ දී ආයු අපේක්ෂාව සහ වැඩිහිටි සාක්ෂරතාව පිළිවලින්,

- 1) අවුරුදු (73) සහ 93%ක්
- 2) අවුරුදු (74) සහ 92%ක්
- 3) අවුරුදු (70) සහ 90%ක්
- 4) අවුරුදු 70 සහ 94%ක්
- 5) අවුරුදු (68) සහ 90%ක්

48 භාණ්ඩයේ මිල රු.10 තීරු බදු පනවූ පසු භාණ්ඩයේ මිල රු.12, මෙම භාණ්ඩය මත පනවා ඇති නාමික ආරක්ෂණ අනුපාතය කොතෙක් ද?

- 1) 21%
- 2) 16.6%
- 3) 30%
- 4) 20%
- 5) 22%

49 අනපේක්ෂිතව හටගන්නා දැඩි උද්ධමනීය මිල ඉහළ යාමක් හේතුකොටගෙන, සැබවින්ම වාසි ලබනුයේ,

- 1) විශ්‍රාමික සේවකයින්
- 2) ණය හිමියන්
- 3) වැටුප් උපයනන්
- 4) රැකියා කල කාලයේ දී මුදල් ඉතිරි කර ගත් දැනට විශ්‍යපත්ව සිටින පුද්ගලයන්
- 5) ණයගනුවන්

50 ශ්‍රී ලංකාවට විදේශ ඍජු ආයෝජන ආකර්ශණය කර ගැනීමෙහිලා ප්‍රබල සාධකයක් නොවන්නේ,

- 1) සාර්ව ආර්ථික අස්ථායී තත්ත්වයන්
- 2) ශ්‍රම වෙළඳපොළේ දෘඪතාවයන්
- 3) ප්‍රතිපත්ති අවිනිශ්චිතතාව
- 4) දූෂණය හා නියාමනය දර්වල වීම
- 5) අපනයන ක්ෂේත්‍රයේ විවිධාංගීකරණය ප්‍රමාණවත් නොවීම

ආර්ථික විද්‍යාව දෙවන කොටස

(01)

(අ)

- (i) සෑම සමාජයක්ම තෝරා ගැනීමේ ගැටළුවකට මුහුණ දෙනු ලබන්නේ ඇයි (?) එය ආවස්ථික පිරිවැය හා සම්බන්ධ වනුයේ කෙසේ ද? (ලකුණු 03)
- (ii) ආර්ථිකයක සම්පත් භාවිතයේ කාර්යක්ෂමතාවය රූප සටහනක් ඇසුරින් පැහැදිලි කරන්න. (ලකුණු 04)
- (iii) උද්ධමන පීඩනයකින් තොරව ලබාගත හැකි උපරිම නිමැවුම විභව නිමැවුමයි. පැහැදිලි කරන්න. (ලකුණු 03)

(ආ)

- (i) ව්‍යවසායකත්වය සුවිශේෂී හැකියාවෙන් යුත් ශ්‍රමයක් යැයි කියවේ. එම සුවිශේෂී ව්‍යවසායකත්ව කාර්යයන් 3 ක් දක්වන්න. (ලකුණු 03යි)
- (ii) ව්‍යවසායක ආවස්ථික පිරිවැය යන්න අර්ථ දක්වන්න. එවැනි තත්ත්වයක් හට ගැනීමට බලපාන තාක්ෂණික හේතු දෙකක් දක්වන්න. (ලකුණු 03යි)
- (iii) 'ශ්‍රී ලංකාව මිශ්‍ර ආර්ථිකයක් වේ' යන අදහස තහවුරු කෙරෙන ආර්ථික ක්‍රියාකාරකම් සඳහා නිදසුන් හතරක් සපයන්න. (ලකුණු 04)

(02)

(අ) තරගකාරී වෙළඳපොළක අලෙවි වන එක්තරා භාණ්ඩයක් සඳහා ඉල්ලුම් හා සැපයුම් ප්‍රමාණ පහත වේ.

මිල (රු.)	ඉල්ලුම් ප්‍රමාණය	සැපයුම් ප්‍රමාණය
4	10	2
6	8	4

- (i) සමතුලිත මිල හා ප්‍රමාණය ගණනය කර ප්‍රස්තාර සටහනක පෙන්වන්න. (ලකුණු 04)
- (ii) සමතුලිතයේ දී සියළුම පාරිභෝගිකයන්ගේ අතිරික්තය ගණනය කරන්න. (ලකුණු 02)
- (iii) විවිධ භාණ්ඩවල සැපයුම් නමුත්තාවයන් වෙනස් වන්නේ ඇයි දැයි දක්වා එක් හේතුවක් පැහැදිලි කරන්න. (ලකුණු 04)

- (ආ) අනෙකුත් කරුණු නොවෙනස්ව තිබිය දී, බාල භාණ්ඩයක මිල පහළ වැටේ නම් එම භාණ්ඩයේ ඉල්ලුම් කරනු ලබන ප්‍රමාණය අඩුවේ ද? වැඩි වේ ද? ආදේශන සහ ආදායම් ප්‍රතිච්ඡාක කෙරෙහි අවදානය යොමු කරමින් ඔබේ පිළිතුර පැහැදිලි කරන්න. (ලකුණු 06)
- (ඇ) ඉල්ලුම් නීතියට පටහැනි අවස්ථා දෙකක් සඳහන් කරන්න. (ලකුණු 04)

(03)

(අ) රජය වෙළඳපොළ යාන්ත්‍රණයට මැදිහත්ව බද්දක් පැනවීමෙන් උණ නිමවුමක් ඇති වී අහිමිවන සුභ සාධනයක් හෙවත් අධි බදු බරක් බිහිවන ආකාරය රූප සටහනක් ඇසුරින් පැහැදිලි කරන්න. (ලකුණු 04)

(ආ) උපරිම හා අවම මිල ගණන් රජය විසින් භාණ්ඩ හා සේවා වලට නියම කරන්නේ ඇයි දැයි යන්න කෙටියෙන් දක්වන්න. (ලකුණු 04)

(ඇ) කිසියම් භාණ්ඩයක් සඳහා ඉල්ලුම් සැපයුම් ශ්‍රිතයන් පහත පරිදි වේ.

$$Q_d = 8 - P$$

$$Q_s = -2 + P$$

- (i) වෙළඳ පොළ සමතුලිතයේ දී පාරිභෝගික පැහැදුම කොපමණ ද? (ලකුණු.2)
- (ii) මෙම භාණ්ඩය නිෂ්පාදකයන් මත ඒකකයකට රු.2/- ක බද්දක් පනවා ඇත. මෙම බද්දෙහි ප්‍රතිඵලයක් වශයෙන් පාරිභෝගිකයන්ට අහිමි වන පාරිභෝගික අතිරික්තය හා බද්දට පසු නිෂ්පාදන අතිරික්තය ගණනය කරන්න. (ලකුණු04)

(ඉ) පාරිභෝගික අතිරික්තය හා නිෂ්පාදන අතිරික්තය නිර්වචනය කරන්න. (ලකුණු 06)

(04)

(අ)

(i) භීතවන ඵල නීතිය යන්නෙන් කුමක් අදහස් වේද? (ලකුණු 03)

(ii) භීතවන ඵල නීතිය කුමන උපකල්පන මත රඳා පවතින්නේ ද? (ලකුණු 02)

(ආ) කෙටි කාලීන ක්‍රියාවලියේදී ආන්තික පිරිවැය වකුසේ හැඩය තීරණය වන්නේ කෙසේ ද? (ලකුණු 03)

(ඇ) ලාභ උපරිම නිමැවුම් මට්ටම, පූර්ණ තරඟකාරී ආයතනයක් තෝරා ගන්නේ කෙසේද? (ලකුණු 03)

(ඉ) මිල ගණුවො සහ මිල සකසන්නා අතර වෙනස පැහැදිලි කරන්න. (ලකුණු 04)

(උ) සාධකයක සැපයුම් වකුස නමස් තත්ත්වයේ සිට අනමස් සැපයුම් තත්ත්වයක් කරා වෙනස් වුවහොත් සංක්‍රාම ඉපයීමට හෝ ආර්ථික බදු කුලියට කුමක් සිදුවේ ද? (ලකුණු 04)

(05)

(අ) සත්‍ය සුනිශ්චිත පරිභෝජන වියදම යන සංකල්පය කෙටියෙන් විමසන්න. එය ගණනය කළ හැක්කේ කෙසේ ද? (ලකුණු 04)

(ආ) කිසියම් ආර්ථිකයක ජාතික ගිණුම් වලට අදාළ දත්ත කිහිපයක් පහත වේ. (රු. මිලියන)

විදේශ ශුද්ධ ප්‍රාථමික ආදායම	-20
රාජ්‍ය පොදු පරිභෝජන වියදම	80
නිශ්පාදනය මත වෙනත් ශුද්ධ බදු	10
භාණ්ඩ හා සේවා අපනයන	50
පෞද්ගලික පරිභෝජන වියදම්	120
දළ දේශීය ප්‍රාග්ධන සම්පාදනය	60
භාණ්ඩ හා සේවා අපනයන	40
විදේශීය ශුද්ධ වර්තන සංක්‍රාම	15

පහත දැක්වෙන දෑ ගණනය කරන්න

(i) වෙළඳ මිලට දළ දේශීය නිශ්පාදිතය

(ii) වැයකල හැකි දළ ජාතික ආදායම

(iii) ජාතික ඉතුරුම් (ලකුණු 2 x 3)

(ඇ) සමාහාර ඉල්ලුම නිර්වචනය කොට සමාහාර ඉල්ලුම මගින් ආදායම් මට්ටම නිර්ණය වන ආකාරය දක්වන්න. (ලකුණු 04)

(ඉ) පහත දැක්වෙන්නේ රජයේ ආර්ථික කටයුතු සහිත ආර්ථිකයකට අදාළ සාර්ව ආර්ථික දත්ත කිහිපයකි.

$$C = -800 + 0.8yd \quad I = 500 \quad G = 300 \quad T = 100 \quad Tr = 150$$

(i) ඉතුරුම් ශ්‍රිතය ව්‍යුත්පන්න කරන්න. (ලකුණු 03)

(ii) සමතුලිත ජාතික ආදායම කොපමණ ද? (ලකුණු 03)

(06)

(අ) මුදල් ශේෂ ලඟ තබා ගැනීමට මිනිසුන් යොමු කෙරෙන ප්‍රධාන කරුණු කවරේ ද? (ලකුණු 03)

(ආ) මූල්‍ය ප්‍රතිපත්තියක් යන්නෙන් අදහස් කරනුයේ කුමක් ද? (ලකුණු 03)

(ඇ) මුදල් සැපයුම සංකෝචනය කිරීම සඳහා මහ බැංකුව විසින් විවිධ වෙළඳ පොළ කටයුතු යොදා ගනු ලබන්නේ කෙසේදැයි පැහැදිලි කරන්න. (ලකුණු 04)

(ඉ) වාණිජ බැංකුවකට අදාළ තොරතුරු පහත වේ.

වගකීම්	(රු. '0000)	වත්කම්	(රු. '0000)
තැන්පතු	5000	සංචිත	1200
		ණය	3800
	<u>5000</u>		<u>5000</u>

- (i) එම වාණිජ බැංකුවේ අධි සංචිත රු.200,000ක් පවතී නම් ව්‍යවස්ථාපිත සංචිත අනුපාතය සොයන්න. (ලකුණු 02)
- (ii) මෙම වාණිජ බැංකුවට දිය හැකි උපරිම ණය මුදල් ප්‍රමාණය සොයන්න. (ලකුණු 01)
- (iii) අධි සංචිත ණයට දීමෙන් පසු මුදල් සැපයුමට වන බලපෑම කොපමණ ද? (ලකුණු 02)

(07)

- (අ) මිශ්‍ර ආර්ථිකයක් තුළ ආණ්ඩුවේ කාර්යයන් හතරක් සඳහන් කරන්න. (ලකුණු 04)
- (ආ) පහත සඳහන් භාණ්ඩ ශුභ සාධන භාණ්ඩ ද පොදු භාණ්ඩ ද අර්ධ පොදු භාණ්ඩ ද පොදු සම්පත් ද යන්න සඳහන් කරන්න. (ලකුණු 04)
 - i) තෘණ භූමි
 - ii) ප්‍රදීපාගාර
 - iii) මහාමාර්ග
 - iv) සනීපාරක්ෂක සේවා
- (ඇ) කිසියම් රටකට බද්දක් අවශ්‍ය වන්නේ ඇයි දැයි කරුණු 2කින් විග්‍රහ කරන්න. (ලකුණු 04)
- (ඉ) වෙළඳපොළ ආර්ථිකයක් ඇතැම් භාණ්ඩ හා සේවා අධි පරිභෝජනයක් සහ ඇතැම් ඒවා උගත පරිභෝජනයක් සිදුවන්නේ ඇයි? (ලකුණු 04යි)
- (උ) අයවැය ලේඛනයේ ප්‍රාථමික නිගය යන්නෙන් අදහස් වන්නේ කුමක් ද? (ලකුණු 04)

(08)

- (අ) ශ්‍රී ලංකාවේ ප්‍රධාන ආනයන සහ අපනයන අයිතමයන් හතර බැගින් නම් කරන්න. (ලකුණු 04)
- (ආ) ගෙවුම් තුලන ලේඛනයක ඇතුළත් කරනු ලබන ප්‍රධාන ගනුදෙනු පහ සහ මූල්‍ය ගිණුමේ ප්‍රධාන සහ පහ විස්තර කරන්න. (ලකුණු 04)
- (ඇ) විනිමය අනුපාත ක්ෂය විමට බලපාන කරුණු 4ක් ලියන්න. (ලකුණු 04)
- (ඉ) දේශීය නිෂ්පාදකයා ආරක්ෂා කිරීමට සිදු කරනු ලබන තීරු බදු අයකිරීම් හා දේශීය මුදලේ විදේශීය අගය අවප්‍රමාණය කිරීමේ වැඩ පිළිවෙලින් වඩාත් වාසි දායක වන්නේ කවරක් ද? පිළිතුරට හේතු දක්වන්න. (ලකුණු 04)
- (උ) කල්පිත ආර්ථිකයක ගෙවුම් ශේෂ ලේඛනයක තොරතුරු පහත වේ.

ගෙවුම් ශේෂයේ සංරචක	රුපියල් බිලියන
වෙළඳ ශේෂය	-960
සේවා(ශුද්ධ)	340
ප්‍රාථමික ආදායම් (ශුද්ධ)	-230
ද්විතීයික ආදායම් (ශුද්ධ)	630
ප්‍රාග්ධන ගිණුම (ශුද්ධ)	20

- (i) ජංගම ගිණුමේ ශේෂය (ලකුණු 02)
- (ii) මූල්‍ය ගිණුමේ ශේෂය (ලකුණු 02)

(09)

- (අ) සමාජ ආරක්ෂණය යන්නෙන් අදහස් කරන්නේ කුමක් ද? ශ්‍රී ලංකාවේ සමාජ ආරක්ෂණ වැඩසටහන තුළ ඇතුළත් ප්‍රධාන සංරචක තුනක් නම් කරන්න. (ලකුණු 05)
- (ආ) ආර්ථික වෘද්ධි අනුපාතිකය ඉහළ නැංවීම කෙරෙහි ආණ්ඩුවේ ප්‍රතිපත්ති වලට බලපෑ කළ හැක්කේ කවර ආකාරයෙන් ද? (ලකුණු 05)
- (ඇ) ඉතුරුම් ආයෝජන පරතරය පියවීමට ගතයුතු ක්‍රියාමාර්ග මොනවා ද? (ලකුණු 05)
- (ඉ) සංවර්ධනය යන්නෙන් කුමක් අදහස් වේ ද? මිනිසුන්ගේ ජීවන තත්ත්වය අයහපත් වීම කෙරෙහි බලපාන ප්‍රධාන සාධක මොනවා ද? (ලකුණු 05)

(10)

- (අ) බහුමාන දරිද්‍රතා දර්ශකය යන්නෙන් අදහස් කරන්නේ කුමක් ද? එය පිළියෙල කිරීමට පදනම් කර ගන්නා ක්ෂේත්‍ර මොනවාද ? (ලකුණු 05)
- (ආ) මැදි ආදායම් උගුල යන්නෙන් අදහස් කරන්නේ කුමක් ද? මෙම මැදි ආදායම් උගුලට හසු වීමට හේතු තුනක් සඳහන් කරන්න. (ලකුණු 05)
- (ඇ) අතිරේක පොදු වරණිය තීරු බදු සහනය (GSP -Plus) ඉවත් කිරීම ශ්‍රී ලංකා ආර්ථිකය කෙරෙහි කෙලෙස බලපානු ඇද්ද? (ලකුණු 05)
- (ඉ) ජනගහන වර්ධනය යන්න හඳුන්වා ඒ සඳහා බලපාන ප්‍රජා විද්‍යාත්මක සාධක නම් කරන්න. (ලකුණු 5)

පිළිතුරු

- 1) 2
- 2) 5
- 3) 1
- 4) 1
- 5) 1
- 6) 1
- 7) 5
- 8) 2
- 9) 4
- 10) 3
- 11) 2
- 12) 1
- 13) 4
- 14) 3
- 15) 5
- 16) 5
- 17) 1
- 18) 2
- 19) 1
- 20) 4
- 21) 4
- 22) 2
- 23) 1
- 24) 1
- 25) 5
- 26) 3
- 27) 2
- 28) 3
- 29) 2
- 30) 3
- 31) 3
- 32) 2
- 33) 4
- 34) 1
- 35) 4
- 36) 4
- 37) 1
- 38) 4
- 39) 2
- 40) 4

- 41) 5
- 42) 2
- 43) 4
- 44) 2
- 45) 3
- 46) 1
- 47) 3
- 48) 4
- 49) 5
- 50) 5

II කොටස

(01)

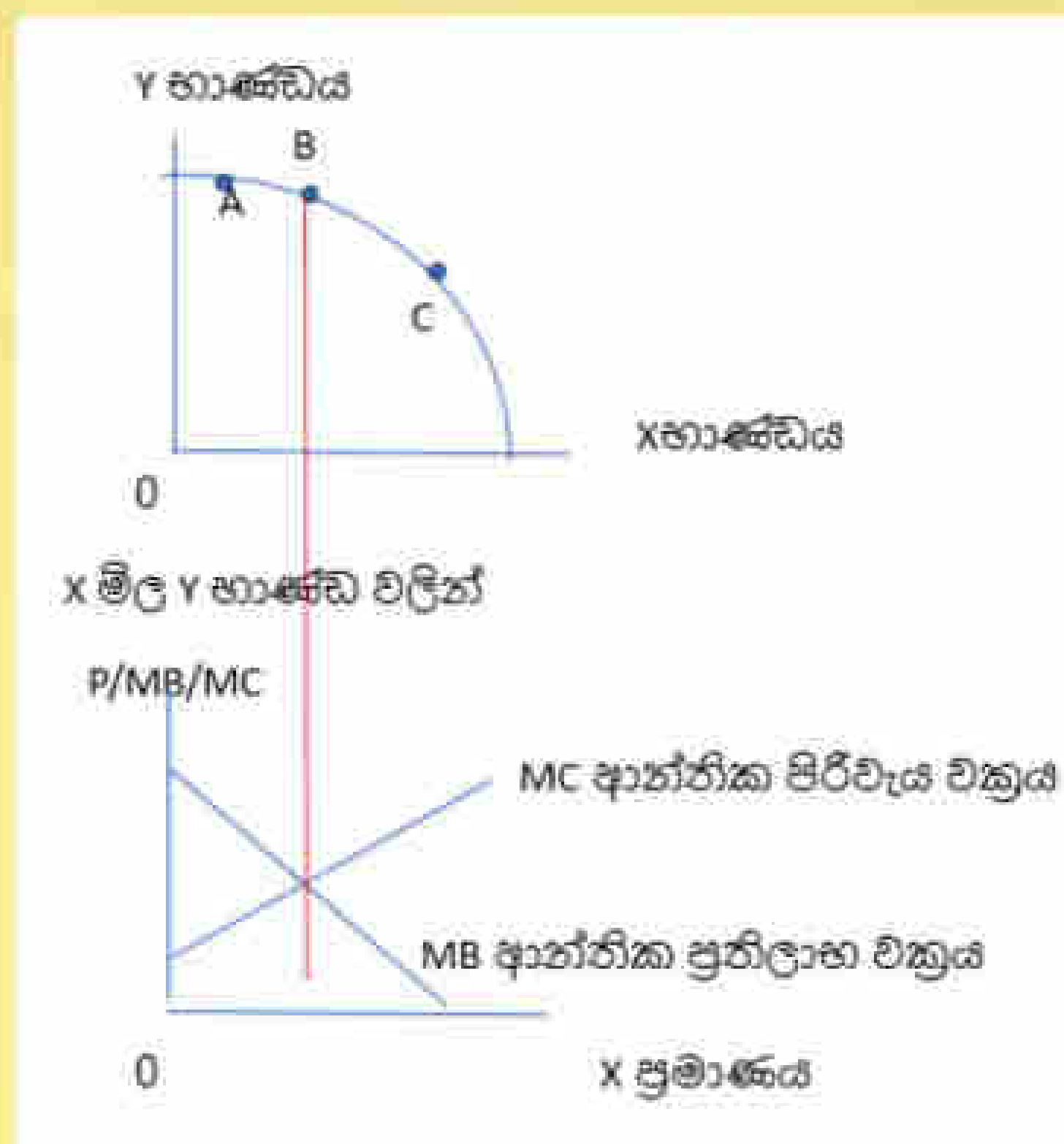
(අ)

(i) වුවමනාවන්ට සාපේක්ෂව, විකල්ප ප්‍රයෝජන වලින් යුක්ත , සම්පත් සීමිත නිසා සෑම සමාජයක්ම තේරීමේ ගැටළුවකට මුහුණ දෙයි. තේරීමක් සිදු කරන විට විකල්පයන් පවතින නිසා අනි-වාර්යයෙන් කැප කිරීමක් (ආවස්ථික පිරිවැයක්) දැරීමට සිදුවන නිසා එය ආවස්ථික පිරිවැය හා සම්බන්ධ වේ.

(ii) ආර්ථිකයක සම්පත් භාවිතය කාර්යක්ෂමවීම හෙවත් ආර්ථික කාර්යක්ෂමතාවය සඳහා ප්‍රධාන වශයෙන් නිෂ්පාදන කාර්යක්ෂමතාවය සහ සම්පත් බෙදීයාමේ කාර්යක්ෂමතාවය අවශ්‍ය වෙයි.

නිෂ්පාදන කාර්යක්ෂමතාවය යනු, අවම යෙදවුම් පිරිවැයක් තුළ උපරිම නිමැවුමක් ලබා ගැනීමයි. ඒ සඳහා (පූර්ණ) සේවා නියුක්තිය හා පූර්ණ නිෂ්පාදනය ඉටුවිය යුතුය. (නිෂ්පාදන හැකියා මායිම් වක්‍රය මත ඕනෑම ලක්ෂ්‍යයක මෙම තත්ත්වය පිළිබිඹු කරයි.)

සම්පත් බෙදීයාමේ කාර්යක්ෂමතාවය යනු, "සමාජ වර්ණයට වඩාත් ගැලපෙන නිමැවුම් සංයෝගය තෝරා ගැනීමයි. එහිදී ආන්තික ප්‍රතිලාභ ආන්තික පිරිවැයට සමාන වීම අවශ්‍ය වේ. හැතිනම්, ආන්තික පිරිවැයට මිල සමාන විය යුතුය.



(iii) මිල මට්ටම ඉහළ යාමකින් තොරව නිපදවිය හැකි මෙන්ම තිරසාර ලෙස පවත්වා ගත හැකි නිමැවුම විභව නිමැවුම වෙයි. උපරිම නිමැවුමක් සෑම විටම විභව නිමැවුම ලෙසට සැලකිය නොහැකිය.

(ආ)

(i) ශ්‍රමය ව්‍යවසායකත්වය බවට පත්වීමට පහත සඳහන් කාර්යයන් ඉටු කිරීමේ හැකියාව අවශ්‍ය වෙයි. එම කාර්යයන් නම්,

- නිෂ්පාදනය පිළිබඳ තීරණ ගැනීම. (ව්‍යාපාරික අවස්ථා හඳුනා ගැනීම)
- නිෂ්පාදනය පිළිබඳ සංවිධානය කිරීමේ හැකියාව (නිෂ්පාදන තීරණ ක්‍රියාත්මක කිරීම)
- වාණිජ පදනමින් නව්‍යතා වෙලඳ පොළට හඳුන්වා දීම
- අවදානම් දැරීම.

(ii) වැඩෙන ආවස්ථික පිරිවැය යනු, සියළුම සම්පත් උපරිම කාර්යක්ෂමතාවයෙන් නිෂ්පාදනයට යොදවා ඇති විටක, නිෂ්පාදන හැකියා මායිම මත ගමන් කිරීමේ දී එක් භාණ්ඩයක නිමැවුම සමාන ප්‍රමාණයකින් වැඩි කරන විට අනෙක් භාණ්ඩයෙන් කැප කරන ප්‍රමාණය ක්‍රමයෙන් වැඩිවීමයි.

මේ සඳහා බලපාන තාක්ෂණික හේතු නම්,

- සම්පත් සමජාතීය නොවීම
- භාණ්ඩ නිෂ්පාදනයට අදාළ ශිල්ප ක්‍රම (සාධක සංයෝග කරන ආකාර) වෙනස්වීම.
- එක් භාණ්ඩයකින් මුදා හැරෙන, සම්පත් අනෙක් භාණ්ඩයට එම කාර්යක්ෂමතාවයෙන්ම ගලපාගත නොහැකි වීම.

(iii)

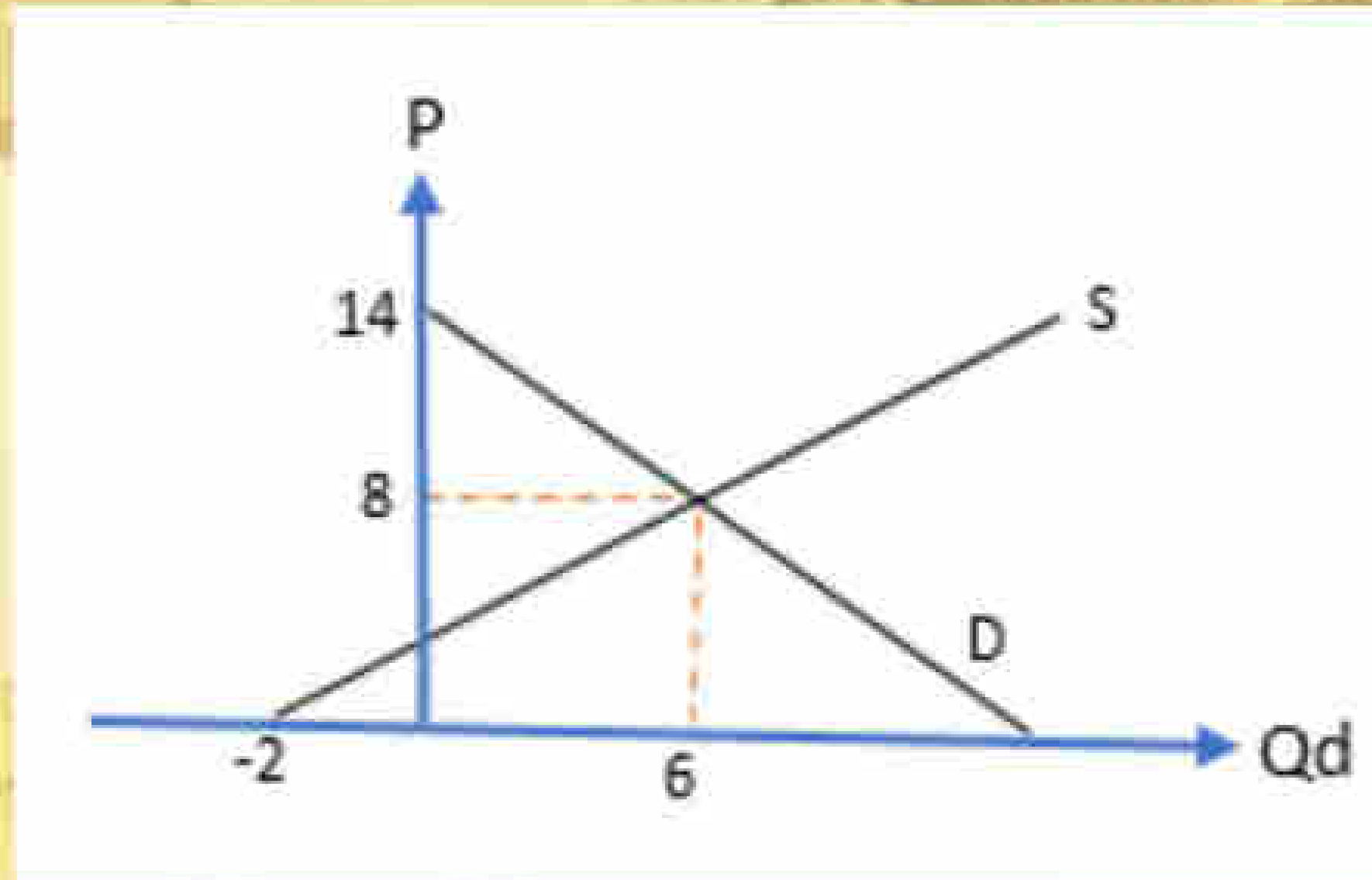
- සම්පත් පිළිබඳ රාජ්‍ය හා පෞද්ගලික හිමිකාරිත්වය.
- රාජ්‍ය හා පෞද්ගලික ව්‍යවසායන් ක්‍රියාත්මක කිරීම.
- පෞද්ගලික දේපළ ආරක්ෂා කිරීම
- පෞද්ගලික අංශය නියාමනය කිරීම
- ඉල්ලුම හා සැපයුම මත මිල ගණන් නිදහසේ තීරණය වීමට ඉඩ හැරීම. (මිල යාන්ත්‍රණය)
- යටිතල පහසුකම් හා වෙනත් පහසුකම් සපයා දෙමින් රජය පෞද්ගලික අංශය ධෛර්යයමත් කිරීම.

(02)

(අ)

$$\begin{aligned}
 (i) \quad Q_d &= 14 - p \\
 Q_d &= Q_s \\
 14 - p &= -2 + p \\
 16/2 &= p \\
 8 &= p
 \end{aligned}$$

$$\begin{aligned}
 Q_s &= -2 + p \\
 Q_d &= 14 - 1 \times 8 \\
 Q_d &= 14 - 8 \\
 Q_d &= 6
 \end{aligned}$$



$$\begin{aligned}
 (ii) \quad \text{පාරිභෝගික අතිරික්තය} &= \frac{(14 - 8) \times 6}{2} \\
 &= 6 \times 3 \\
 &= 18 \text{ ය.}
 \end{aligned}$$

(iii)

- කර්මාන්ත අතර සම්පත් සංචලනය කිරීමේ හැකියාව (නිෂ්පාදන ආදේශන හැකියාව)
- කාලය (වෙළඳපොළ කාලය, කෙටි කාලය, දිගු කාලය)
- කර්මාන්තයේ ධාරිතාවය උපයෝජනය කොට තිබෙන ආකාරය.
- භාණ්ඩයේ ස්වභාවය.
- භාණ්ඩයේ පවත්නා තොග ප්‍රමාණය
- නිෂ්පාදන කටයුතු වලට යොදා ගන්නා යෙදවුම් වල ස්වරූපය.

(ආ)

- අනෙකුත් කරුණු නොවෙනස්ව තිබිය දී බාල භාණ්ඩයක මිල පහළ වැටේ නම් එම භාණ්ඩයෙන් ඉල්ලුම් කරනු ලබන ප්‍රමාණය වැඩි වේ.
- මෙහි දී බාල භාණ්ඩයේ සාපේක්ෂ මිල පහළ බසින නිසා ආදේශන ප්‍රතිච්ඡාකය ඔස්සේ භාණ්ඩයක ඉල්ලුම් කරනු ලබන ප්‍රමාණය වැඩි වේ.
- ආදේශන ප්‍රතිච්ඡාකය සෑම විටම භාණ්ඩයේ සාපේක්ෂ මිල වෙනස්වීම සමග ප්‍රතිලෝම සම්බන්ධයක් පෙන්වුම් කරන බැවින් සාපේක්ෂ මිල අඩු වූ විට ඉල්ලුම් කරනු ලබන ප්‍රමාණය වැඩි වේ.
- බාල භාණ්ඩයක මිල පහළ ගිය විට ආදායම් ප්‍රතිච්ඡාකය ඔස්සේ ඉල්ලුම් කරනු ලබන ප්‍රමාණය අඩු කෙරෙනු ඇත. මන්දයත් බාල භාණ්ඩයක ආදායම් ප්‍රතිච්ඡාකය සෘණ අගයක් ගන්නා නිසාය. භාණ්ඩයේ මිල අඩු වන විට ගැනුම්කරුවාගේ මූර්ත ආදායම ඉහළ යන නමුදු සෘණ ආදායම් ප්‍රතිච්ඡාකය නිසා ඉල්ලුම් කරන ප්‍රමාණය අඩු වේ.
- බාල භාණ්ඩයක මිල අඩු වූ විට ආදේශන ප්‍රතිච්ඡාකය ඔස්සේ ඇති කෙරෙන ප්‍රසාරණාත්මක බලපෑම සෘණ ආදායම් ප්‍රතිච්ඡාකය ඔස්සේ ඇති කරන සංකෝචනාත්මක බලපෑමට වඩා බලවත් වේ. එබැවින් බාල භාණ්ඩයේ මිල අඩුවීමේ සමස්ථ ප්‍රතිච්ඡාකය ඉල්ලුම් කරනු ලබන ප්‍රමාණය වැඩි කරයි.

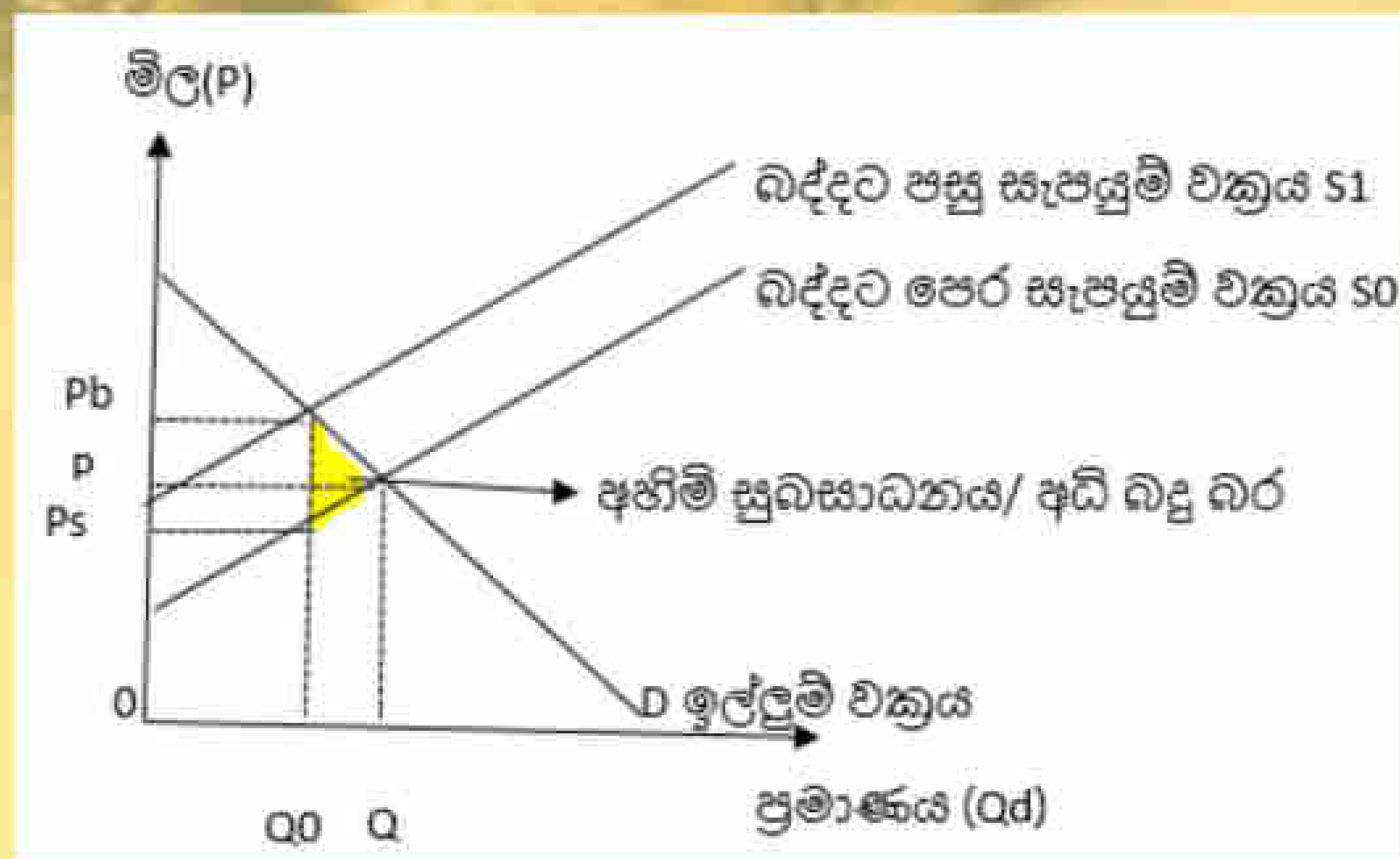
(අ)

- ප්‍රදර්ශනාත්මක/ ජේන්තුකාර පරිභෝජනයට අදාළ භාණ්ඩ
- ගිගන් භාණ්ඩ
- භාණ්ඩයේ ගුණාත්මක තත්ත්වය මිල මගින් තීරණය කරන අවස්ථා

(03)

(අ)

රජය වෙළඳපොළ යාන්ත්‍රණයට මැදිහත් වී බදු පැනවීමෙන් අකාර්යක්ෂම නිමැවුමක් බිහි වෙයි. එම නිසා ප්‍රශස්ත / කාර්යක්ෂම නිමැවුමට වඩා අඩු උණ නිමැවුමක් බිහි වෙයි. එහිදී ආන්තරික පිරිවැය (නිෂ්පාදන සැපයුමේ මිල) සහ ආන්තරික ප්‍රතිලාභ (පාරිභෝගික ඉල්ලුමේ මිල) අතර වෙනසක් බිහිවෙයි. එවිට එම නිමැවුම උණ නිමැවුමක් වෙයි ($Q_0 - Q_1$) බදු පැනවීම තුළින් සිදුවීමක් එවැනිනක් සිදුවන නිසා එය සමාජයට අහිමි වන සමාජ ශුභ සාධනය/ අධි බදු බර ලෙස හැඳින්වේ.



(ආ) වෙළඳ පොළ යාන්ත්‍රණය තුළින් තීරණය වී ඇති මිල පාරිභෝගිකයන්ට අවාසි / අසාධාරණයයි රජය අදහස් කරන්නේ නම්, එම මිලට වඩා අඩු මිලක් නියම කිරීම උපරිම මිල වේ.

උදා:-) අත්‍යවශ්‍ය භාණ්ඩ සඳහා උපරිම පාලන මිලක් නියම කිරීම .

අවම මිල නියම කරනු ලබන්නේ, වෙළඳ පොළ යාන්ත්‍රණය යටතේ තීරණය වී ඇති මිල නිෂ්පාදකයාට අවාසි / අසාධාරණයයි රජය අදහස් කරන විටය. එවිට සමතුලිත මිලට වඩා ඉහළ මිලක් අවම මිල ලෙස (නීත්‍යානුකූල මිල ලෙස) නියම කරයි.

උදා :- කෘෂි නිෂ්පාදන වලට සමතුලිත මිලට ඉහළ මිලක් නියම කිරීම.

(ආ)

(i)

$Q_d = Q_s$	
$8 - p = -2 + p$	
$10 / 2 = p$	
$5 = p$	සමතුලිත මිල රු.
$Q_d = 8 - 5$	
$= 3$	සමතුලිත ප්‍රමාණය ඒකක
	පාරිභෝගික පැහැදීම
	$5 \times 3 =$ රුපියල් 15 කි

ii) බද්දට පසු සමතුලිත මිල හා ප්‍රමාණය

$$8 - p = -2 + (p-t)$$

$$8 - p = -2 + (p-2)$$

$$8 - p = -4 + p$$

$$12/2 = p$$

$$6 = p \quad \text{සමතුලිත මිල රු.}$$

$$Q_d = 8 - 6$$

$$= 2 \text{ සමතුලිත ප්‍රමාණය ඒකක}$$

බද්ද නියා පාරිභෝගිකයාට අහිමි වන අතිරික්තය,

$$\text{බද්දට පෙර පාරිභෝගික අතිරික්තය} = \frac{(8-5) \times 3}{2} = \frac{3 \times 3}{2} = \text{රු. } 4.50$$

$$\text{බද්දට පසු පාරිභෝගික අතිරික්තය} = \frac{(8-6) \times 2}{2} = \frac{2 \times 2}{2} = \frac{4}{2} = 2$$

$$\text{මේ අනුව අහිමි වන පාරිභෝගික අතිරික්තය} = 4.50 - 2 = \text{රු. } 2.50$$

$$\text{බද්දට පසු නිෂ්පාදක අතිරික්තය} = \frac{(4-2) \times 2}{2} = \frac{2 \times 2}{2} = \frac{4}{2} = \text{රු. } 2$$

(ඉ)

-පාරිභෝගික අතිරික්තය යනු කිසියම් භාණ්ඩයක අතිරේක ඒකකයක් ලබා ගැනීම සඳහා පාරිභෝගිකයා ගෙවීමට කැමති මිලට එම භාණ්ඩයේ වෙළඳපොළ මිලට අතර වෙනසයි.

-පාරිභෝගිකයා කිසියම් භාණ්ඩයක ඒකක කිහිපයක් මිල දී ගන්නා විට මුළු පාරිභෝගික අතිරික්තය වන්නේ මිල දී ගත් එක් එක් ඒකකයක් සඳහා හිමිවුණු පාරිභෝගික අතිරික්තයන්ගේ එකතුවයි. පෞද්ගලික ඉල්ලුම් වක්‍රයත් වෙළඳ පොළ මිල රේඛාවත් ඇති ප්‍රදේශයෙන් මෙය පෙන්නුම් කරනු ඇත.

-වෙළඳ පොළ පාරිභෝගික අතිරික්තය ලෙස සලකන්නේ වෙළඳ පොළේ සියලුම ගැනුම්කරුවන්ගේ පෞද්ගලික පාරිභෝගික අතිරික්තයන්ගේ එකතුවයි. වෙළඳපොළ ඉල්ලුම් වක්‍රයත් වෙළඳ පොළ මිල රේඛාවත් අතර ඇති ප්‍රදේශයෙන් මෙය පෙන්නුම් කරයි.

-නිෂ්පාදන අතිරික්තය යනු, කිසියම් භාණ්ඩයක අතිරේක ඒකකයක් අලෙවි කිරීමේ දී ආයතනයට ලැබෙන මිලට එම ඒකකය නිෂ්පාදනය කිරීම සඳහා වැය වූ ආන්තික පිරිවැයත් අතර වෙනසයි.

-කිසියම් භාණ්ඩ ඒකක කිහිපයක් අලෙවි කිරීමේ දී ආයතනයට හිමි වන මුළු නිෂ්පාදන අතිරික්තය වන්නේ අලෙවි කල එක එක ඒකකයක් සඳහා ලැබුණු පෞද්ගලික නිෂ්පාදන අතිරික්තයන්ගේ එකතුවයි. ආයතනයේ සැපයුම් වක්‍රයත් වෙළඳ පොළ මිල රේඛාවත් අතර ප්‍රදේශයෙන් මෙය පෙන්නුම් කෙරේ.

(04)

(අ)

i)

කෙටි කාලීන නිෂ්පාදන ක්‍රියාවලියේ දී පවතියි. ස්ථාවර යෙදවුම් නොවෙනස්ව පවතිද්දී විචල්‍ය යෙදවුම් වැඩි කරන විට, විචල්‍ය යෙදවුමේ ආන්තික හා සාමාන්‍ය ඵලදායීතාව කිසියම් හිමැවුම් මට්ටමක් දක්වා වැඩි වී ඉන් පසුව අඩුවීමයි.

ii)

-විචල්‍ය යෙදවුම් සමජාතීය වීම

-නිෂ්පාදන ක්‍රියාවලිය තුළ තාක්ෂණය නොවෙනස්ව පැවතීම.

(ආ)

මෙහි හැඩය තීරණය වන්නේ, හීනවන ආන්තික ඵලදායී හීනිය මතය ය. ආන්තික පිරිවැය වක්‍රය ("U") අකුරක හැඩයක් ගනු ලබයි. එසේ වන්නේ හීනවන ආන්තික ඵලදායී හීනිය නිසාය.

-ආන්තික ඵලදාව උපරිම වන විට ආන්තික පිරිවැය අවම වේ. ආන්තික ඵලදාව අඩු වන විට ආන්තික පිරිවැය වැඩි වේ.

-මුළු ඵලදාව අඩුවන වේගයකින් ඉහළ නගින විට, ආන්තික ඵලදා වක්‍රය සාමාන්‍ය ඵලදා වක්‍රයේ මුදුන හරහා පහළ බසී.

-සාමාන්‍ය මුළු පිරිවැය වක්‍රය හා සාමාන්‍ය විචල්‍ය පිරිවැය වක්‍රය පහළ බසින විට , ආන්තික පිරිවැය වක්‍රය, සාමාන්‍ය පිරිවැය වක්‍ර වලට පහළින් පිහිටයි. අනතුරුව, ආන්තික පිරිවැය වක්‍රය සාමාන්‍ය මුළු පිරිවැය වක්‍රයේ හා සාමාන්‍ය විචල්‍ය පිරිවැය වක්‍රයේ අවමය කපා ගෙන ඉහළ නගිමින් සාමාන්‍ය මුළු පිරිවැය හා සාමාන්‍ය විචල්‍ය පිරිවැය වක්‍ර වලට ඉහළින් පිහිටයි. හීනවන ආන්තික ඵලදාව මෙසේ විමට හේතුවයි.

(ඇ)

ආන්තික අයභාරය, ඉහළ යන ආන්තික පිරිවැයට සමාන වන විට දිය. ($MR = MC$)

පූර්ණ තරඟකාරී ආයතනයක් වෙළඳ පොළ මිල අනුගමනය කරන්නෙක් බැවින් පූර්ණ නමය ඉල්ලුම් වක්‍රයක් ආයතනයට ඇත. මේ නිසා මෙම ඉල්ලුම් වක්‍රය තිරස් අක්ෂයට හෙවත් ප්‍රමාණ අක්ෂයට සමාන්තතව පිහිටයි.

ආයතනයේ ඉල්ලුම් වක්‍රය වන්නේ මෙම (AR) වක්‍රයයි. එය ආයතනයේ ආන්තික අයභාර (MR) වක්‍රය ද වේ. අනෙක් අතට ආයතනයේ මිල වන්නේ ද මෙම ආන්තික අයභාරය/ සාමාන්‍ය අයභාරයම වේ. මෙහි දී මිල ආන්තික පිරිවැයට සමාන විමක් ලාභ උපරිම නිමැවුමේ දී දැකිය හැකිය.

(ඉ)

වෙළඳ පොළෙන් පැවරෙන මිල වෙනස් කරනවා වෙනුවට වෙළඳපොළ මිල අකර්මණ්‍ය ලෙස භාර ගැනීමට සිදුවන අතර, සෑම අතින්ම සමජාතීය භාණ්ඩ නිපදවන ආයතන රාශියක් වෙළඳ පොළ තුළ සිටින විට , සහ පාරිභෝගිකයන්ට පූර්ණ දැනුමක් පවතින විට, වෙළඳ පොළ මිලට බලපෑම් කළ නොහැකි වේ. ඒ නිසාම පූර්ණ තරඟකාරී ආයතන මිල ගණුවෙකු ලෙස සලකයි. එම නිසා පූර්ණ නමය ඉල්ලුම් වක්‍රයට ආයතනය මුහුණ දෙයි.

නමුත් මිල සකසන්නෙකු යනු, වෙළඳ පොළෙන් ලබා දෙන මිල භාර ගන්නවා වෙනුවට වෙළඳ පොළ මිලට බලපෑම් කල හැකි ආයතන වේ. එක් එක් ආයතන වෙළඳ පොළට සපයනු ලබන භාණ්ඩ සමජාතීය නොවන විට මිලට බලපෑම් කල හැකි වේ. සෑම අතින්ම නොවුන ද ඒකාධිකාරී ආයතන විශාල සංඛ්‍යාවක් තිබුණත්, එක් එක් ආයතනවල නිෂ්පාදනයේ වෙනස්කම් පවතින නිසා සම්පූර්ණයෙන් මිල සකස් කරනු ලබන්නේ එම ආයතන විසිනි. ඒ අනුව තම වෙළඳපොළ කොටස අතිමි නොවන ලෙස මිලට බලපෑම් කරයි. එවන් තත්වයක් යටතේ මිලට බලපෑම් කරන විට ආයතනයේ ඉල්ලුම් වක්‍රය ද වමේ සිට දකුණට බැවුම් වේ.

(උ)

සංක්‍රාම ඉපැයීම යනු, කිසියම් නිෂ්පාදන සාධකයක් පවත්නා භාවිතයෙහිම රඳවා තබා ගැනීම සඳහා එම සාධකය විසින් අපේක්ෂා කරනු ලබන අවම ඉපැයීමයි. එනම් සාධකයක ආවස්ථික පිරිවැයයි.

මෙම සංක්‍රාම ඉපැයීම් ඉක්මවා ලැබෙන අතිරේක ඉපැයීම ආර්ථික බදු කුලියයි.

සාධක සැපයුම අනමය වන විට ආර්ථික බදු කුලිය වැඩිවන අතර නමය වන තරමට සංක්‍රාම ඉපැයීම් වැඩි වේ. සාධක සැපයුම නමය වන විට ආර්ථික බදු කුලිය, සංක්‍රාම ඉපැයීම් වලට වඩා අඩු වේ. මෙසේ සාධකයක සැපයුම් වක්‍රය නමය තත්වයක සිට අනමය තත්වයකට වෙනස් වුවහොත් සංක්‍රාම ඉපැයීම් අඩුවී ආර්ථික බදු කුලිය වැඩිවේ.

(05)

(අ) මුදල් විභවයේ කවුරුන් ද යන්න නොසලකා සැබවින්ම භාණ්ඩ හා සේවා අත්පත් කර ගැනීම සත්‍ය සුනිශ්චිත පරිභෝජන විභවය ලෙස සැලකේ. එසේ වන්නේ සෑම විටම විභවයේ කුඩා සහ පරිභෝජනය කරන්නා එකම පුද්ගලයකු නොවන බැවිනි.

කුටුම්භ වල සත්‍ය සුනිශ්චිත පරිභෝජන විභවය ප්‍රධාන සංරචක (3) කින් සමන්විත වේ.

-වෙළඳ පොළ හුවමාරුවට පාත්‍ර වන්නාවූ භාණ්ඩ හා සේවා වල වටිනාකම ඇතුළුව පරිභෝජන භාණ්ඩ හා සේවා මිල දී ගැනීමට කුටුම්භ විසින් දරන මුළු විභවය.

-ද්‍රව්‍යමය සමාජ සංක්‍රාම ස්වරූපයෙන් රජය විසින් සපයන ලද පුද්ගල පරිභෝජන භාණ්ඩ හා සේවා සඳහා දරන ලද මුළු විභවය

-(ලාභ අපේක්ෂාවක නොමැති කුටුම්භ සඳහා සේවා සපයන ආයතනික අංශ විසින් කුටුම්භ වෙත සපයන ලද පුද්ගල පරිභෝජන භාණ්ඩ හා සේවා සඳහා දරන ලද විභවය

රජයේ සත්‍ය සුනිශ්චිත පරිභෝජන විභවය යනු, සමූහ පරිභෝජන සේවා සැපයීම සඳහා දරන ලද විභවය වන අතර, (ලාභ අපේක්ෂාවක නොමැති කුටුම්භ සඳහා සේවා සපයන ආයතනයන්ගේ සත්‍ය සුනිශ්චිත පරිභෝජන විභවය යනු, ඔවුන්ගේ සමස්ත අවසාන පරිභෝජන විභවයින්, ද්‍රව්‍යමය සමාජ සංක්‍රාම විභවයේ අඩු කළ පසු පවතින පරිභෝජන විභවයයි).

(ආ)

i) වෙළඳ මිලට දළ දේශීය නිෂ්පාදිතය = $120 + 80 + 60 + 40 - 50 = 250$

ii) වැය කළ හැකි දළ ජාතික ආදායම = $250 - 20 + 15 = 245$

iii) ජාතික ඉතුරුම් = $245 - (120 + 80) = 45$

(ඇ)

යම් දෙන ලද කාල පරිච්ඡේදයක දී රටක සමස්ත ආර්ථික කාරක වන , කුටුම්භ , ව්‍යාපාර, රජය හා විදේශ යන අංශ විසින් භාණ්ඩ හා සේවා මිලදී ගැනීමට, සැලසුම් කරන ලද විභවය ප්‍රවාහයයි.

සමාහාර ඉල්ලුමට සමාන සමාහාර සැපයුමක් පවතින විට සමතුලිත ආදායම් මට්ටම ($Y = E$) තීරණය වේ. මූර්ත නිෂ්පාදිතයේ වටිනාකමට වැඩි සමාහාර ඉල්ලුමක් පැවතුනහොත් ($Y < E$) ආදායම් මට්ටම ප්‍රසාරණය වේ. එය අසමතුලිතතාවයකි. එසේ ම මූර්ත නිෂ්පාදිතයේ වටිනාකමට වඩා සමාහාර ඉල්ලුම අඩු වන්නේ නම් ($Y > E$) ආදායමේ මට්ටම ද සංකෝචනය වේ. එය ද අසමතුලිත තත්ත්වයකි.

(ඉ)

i) $S = Yd - (800 + 0.8 yd) = Yd - 800 - 08 yd = -800 + 0.2 yd$

ii) $Y = 800 + 0.8 yd + 500 + 300$
 $Y = 1600 + 0.8 (Yd - t + tr) = 1600 + 0.8 (Y - 100 + 150)$
 $Y = 1600 + 0.8y + 40$
 $Y - 0.8Y = 1640$
 $0.2 Y = 1640$
 $Y = 1640 / 0.2 = 15600 / 2 = 8200$

(06)

(අ)

- ගණුදෙනු වේතනාව
- ආරක්ෂණ වේතනාව
- සමපේක්ෂණ වේතනාව

(ආ)

මූල්‍ය ප්‍රතිපත්තිය මෙහෙය වන්නේ එරට මහ බැංකුව විසිනි. සාර්ව ආර්ථික අරමණ ළඟා කර ගනු පිණිස මුදල් සලබතාව හා මුදල් මිල පාලනය කරමින් සමාහාර ඉල්ලුම කෙරෙහි බලපෑම් කිරීම මූල්‍ය ප්‍රතිපත්තියයි. එනම් මුදල් සැපයුම හා එහි පිරිවැය වන පොලී අනුපාතය පාලනය කිරීමයි. මේ සඳහා ප්‍රමාණාත්මක හා ගුණාත්මක උපකරණ මහ බැංකුව විසින් යොදා ගනු ලබයි.

(ඇ)

මුදල් සැපයුම සංකෝචනය කිරීම සඳහා මහ බැංකුව විසින් සුරැකුම්පත් අලෙවි කළ විට එමගින් බැංකු පද්ධතිය තුළ ඇති ද්‍රවශීලතාව ඉවත් කළ හැකිය. මහ බැංකුව සුරැකුම්පත් අලෙවි කරන විට, එමගින් වාණිජ බැංකු සතු සංචිත අඩු වේ. එවිට වාණිජ බැංකු වල ණය දීමේ ශක්තිය අඩු වී මුදල් සැපයුම සංකෝචනය වේ.

(ඉ)

i) ව්‍යවස්ථාපිත සංචිත අනුපාතය = $\frac{\text{ව්‍යවස්ථාපිත සංචිතය} * 100}{\text{තැම්පතු}}$

$$= \frac{(1200,000 - 200,000) * 100}{5000,000}$$

$$= 20\%$$

ii) තනි වාණිජ බැංකුවකට උපරිම වශයෙන් ණය ලබා දිය හැක්කේ අධි සංචිත දක්වා පමණි. එමනිසා, උපරිම වශයෙන් ලබා දිය හැකි ණය ප්‍රමාණය වන්නේ රු. 200,000කි.

iii) බහුවිධ තැන්පතු ප්‍රසාරණය = අධි සංචිත * තැම්පතු ප්‍රසාරණ ගුණකය

$$= 200,000 * 1/20\%$$

$$= 200,000 * 5$$

$$= 1000,000$$

එමනිසා මුදල් සැපයුම රු.1000,000කින් වැඩි වේ.

07)

(අ)

සාධාරණ ආදායම් ව්‍යාප්තියක් ඇති කිරීම
 සාර්ව ආර්ථික ස්ථායීතාව තහවුරු කිරීම
 ආර්ථික වෘද්ධිය සහ තිරසාර සංවර්ධනය ඉහළ නැංවීම
 යටිතල පහසුකම් සංවර්ධනය
 තරඟය තහවුරු කිරීම සඳහා හිසාමනය කිරීම

(ආ)

- i) පොදු සම්පත්
- ii) පොදු භාණ්ඩ
- iii) අර්ධ පොදු භාණ්ඩ
- iv) ශුභ සාධන භාණ්ඩ

(අූ)

කේන්ද්‍රීය සාර්ව ආර්ථික කළමනාකරණය

-උද්ධමන පීඩනයකින් තොරව පූර්ණ සේවා නිලධාරීන් සහ තිරසාර ආර්ථික වෘද්ධියක් අත්කර ගැනීම සඳහා සමාහාර ඉල්ලුම පාලනය කිරීම

-ගෙවුම් ශේෂ දුෂ්කරතා පාලනය කිරීම

-ප්‍රදර්ශ කාර්යාල ආරක්ෂා කිරීම

ආණ්ඩුවේ විශදුම් පියවා ගැනීමට අවශ්‍ය අයහාරය රැස් කර ගැනීමට

-ඒකාධිකාරී ලාභ මත බදු පැනවීම

-ආදායම් ව්‍යාප්ති විෂමතා අවම කිරීමට

-නිව භාණ්ඩ පරිභෝජනය අධිකරණය කිරීම හෝ වළක්වාලීම

(ඉ)

-මෙම තත්ත්වය පිළිබිබු කරනුයේ පරිභෝජනය ආශ්‍රිත බාහිරතා නිසා හටගන්නා වෙළඳපොළ අසමත් වීමකි. බාහිරතා හේතු කොටගෙන පෞද්ගලික හා සමාජ ප්‍රතිලාභ අතර වෙනසක් හට ගනී. මිල යාන්ත්‍රණය විසින් සැලකිල්ලට ගනු ලබන්නේ පෞද්ගලික ප්‍රතිලාභ හා පෞද්ගලික පිරිවැය පමණක් වන බැවින් සමාජීය වශයෙන් ප්‍රශස්ත භාණ්ඩ පරිභෝජනයක් ඇති වීමට එමගින් ඉඩ නොලැබේ.

-කිසියම් පරිභෝජන ක්‍රියාවක් සාණ බාහිරතා ඇති කරන විට පෞද්ගලික ප්‍රතිලාභ සමාජ ප්‍රතිලාභ ඉක්මවා යයි. එය අධි පරිභෝජනයකට ඉඩ සලසයි.

-කිසියම් පරිභෝජන ක්‍රියාවක් ධන බාහිරතා ඇති කරන විට සමාජ ප්‍රතිලාභ පෞද්ගලික ප්‍රතිලාභ ඉක්මවා යයි. එහි ප්‍රතිඵල වශයෙන් උගත පරිභෝජනයක් සිදු වේ.

එ සමස්ත අයවැය හිඟයෙන් පොලී ගෙවීම් අඩු කළ විට ලැබෙන ශේෂය ප්‍රාථමික නිගය ලෙස හැඳින්වේ. නැතහොත් දීමනා ඇතුළු රජයේ මුළු අයහාරයෙන් පොලී ගෙවීම් රහිත මුළු විශදුම (වර්තන හා ප්‍රාග්ධන) අඩු කළ විට ලැබෙන ශේෂය ප්‍රාථමික නිගය වේ.

08)

(අ)

අපනයන

-රෙදිපිළි සහ ඇඟලුම්

-තේ

-රබර් නිශ්පාදිත

-කුළුබඩු

-ආනයන

-බණිප තෙල්

-රෙදිපිළි

-ගොඩනැගිලි ද්‍රව්‍ය

-වාහන

(ආ)

-ගෙවුම් ශේෂ ලේඛනයක ඇතුළත් ගනුදෙනු ප්‍රධාන වශයෙන් කොටස් පහකි. එනම්,

-භාණ්ඩ හා සේවා අපනයනය කිරීම හා ආනයනය කිරීමට අදාල ගනුදෙනු.

-ආදායම් ලැබීම් හා ගෙවීම් ආශ්‍රිත ගනුදෙනු.

-වත්කම්, ධනය, ත්‍යාග වැනි දෑ පිළිබඳව ඒක පාර්ශවීයව සිදු කරන සංක්‍රාම.

-මූල්‍ය වත්කම් හිමිකර ගැනීම හා විකිණීම ආශ්‍රිත ගනුදෙනු

-නිෂ්පාදනය නොකල මූල්‍ය නොවන වත්කම් හිමිකර ගැනීම හා විකිණීම ආශ්‍රිත ගනුදෙනු.

එසේම මූල්‍ය ගිණුමෙහි ද ප්‍රධාන සභා (5)කි.

- සෘජු ආයෝජන
- කළම ආයෝජන
- මූල්‍ය ව්‍යුත්පන්න
- වෙනත් ආයෝජන
- වෙනත් සංචිත වත්කම්

(ආ)

- ජාත්‍යන්තර වෙළඳාමේ දී අපනයන ඉල්ලුම අඩු වී ආනයන ඉල්ලුම ඉහළ යාම.
- ප්‍රාග්ධන සංචලන ගලා ඒම අඩුවීම
- රට තුළ උද්ධමනය ඉහළ යාම
- අනාගතයේ දී ලාභ ලැබීමට පුද්ගලයෝ විදේශ මුදල් රැස් කිරීම.
- ආර්ථික වර්ධනය පහත වැටීම.
- දේශපාලන අස්ථාවරත්වය නිසා විදේශ ආයෝජන අඩුවීම.
- කොටස් වෙළඳ පොළ බිඳ වැටීම.

(ඉ)

සාමාන්‍ය ඉල්ලුම් සැපයුම් තත්ත්වයක් සහිත තීරු බදු පැනවීමෙන් මෙන්ම මුදලේ අගය අවප්‍රමාණය කිරීම තුළින් ද සිදු වන්නේ ආනයනය සීමා විමත් දේශීය නිෂ්පාදකයා දිරිමත් විමත් දේශීය පරිභෝජනය අඩුවීමත්ය .

- නමුත් තීරු බද්දක දී රජයට ආදායමක් ලැබෙන අතර අවප්‍රමාණයක දී නොලැබේ.
- තීරු බද්දක දී මෙන් නොව, මුදලේ අගය අවප්‍රමාණය කිරීම දේශීය මුදලින් ණය ගෙවීමේ දී මෙන්ම, සමස්ත ගෙවුම් ශේෂයටම බලපානු ඇත.

(උ)

i) ජංගම ගිණුමේ ශේෂය	රුපියලි බිලියන
වෙළඳ ශේෂය	(960)
සේවා	340
ප්‍රාථමික ආදායම්	(230)
ද්විතියික ආදායම්	<u>630</u>
	<u>(220)</u>
ii) මූල්‍ය ගිණුමේ ශේෂය = ජංගම ගිණුමේ ශේෂය + ප්‍රාග්ධන ගිණුමේ ශේෂය	
	= (220) + 20
	= (200)

(09)

(ආ)

සමාජ ආරක්ෂණය යනු ලමයින්, කාන්තාවන්, වියපත් වූවන්, ආබාධිතයන්, අවතන් වූවන් විරැකියාවෙන් පෙළෙන්නන් සහ රෝගීන් වැනි දිළිඳු සහ අනාරක්ෂිත තත්ත්වයක සිටින්නන් රැක ගැනීමට සහ උපකාර කිරීමට පවත්නා වැඩ පිළිවලයි.

- සමෘද්ධි දිළිඳු සහන වැඩසටහන
- වැඩිහිටි මාසික දීමනා
- මාසික පිං පඩිය
- පෝෂණ මල්ල
- ආබාධිත පුද්ගලයින්ට ලබා දෙන මාසික දීමනා

(ආ)

- ඉල්ලුම් හා සැපයුම් පාර්ශවීය ප්‍රතිපත්ති දෙවර්ගයම යෝග්‍ය පරිදි යොදා ගැනීම
- යටිතල පහසුකම් සඳහා කෙරෙන රාජ්‍ය ආයෝජන ඉහළ නැංවීම
- බදු පහල හෙලීම
- දේපොළ හිමිකම් සුරක්ෂිත කිරීම
- සාර්ව ආර්ථික ස්ථායීතාව පවත්වා ගෙන යාම.

(ඇ)

- මූර්ත පොලී අනුපාතිකය ධනාත්මක කර ගැනීම
- මූර්ත වේතන හා ඉහල ශ්‍රම ඵලදායීතාවයක් ළඟා කර ගැනීම
- විදේශ විනිමය පාලන රෙගුලාසි ලිහිල් කිරීම
- මූල්‍ය උපකරණ පරාසය පුළුල් කිරීම
- වාණිජ බැංකු වලට ප්‍රවේශ විය හැකි අවස්ථා වැඩි කිරීම

(ඉ)

සංවර්ධනය යනු, පුද්ගලයන්ගේ ජීවන මට්ටම, ආත්ම ගරුත්වය සහ නිදහස වැඩි දියුණු කිරීම මගින් ඔවුන්ගේ මානව ජීවන තත්ත්වය හා හැකියාවන් වර්ධනය කිරීමේ ක්‍රියාවලියයි. මිනිසුන්ගේ ජීවන තත්ත්වය අයහපත් වීම කෙරෙහි බලපාන ප්‍රධාන සාධක පහකි.

- භෞතික දෑ හීන වීම
- ශාරීරික වශයෙන් දුර්වල වීම
- සමාජ සම්බන්ධතා අයහපත් වීම
- අනාරක්ෂිත බව
- බල රහිත බව

(10)

(අ)

බහුමාන දරිද්‍රතා දර්ශකය යනු, කුටුම්භ මට්ටමේ දී පුද්ගලයන්ට මුහුණ පෑමට සිදුවන විවිධාකාර වූ විහිනතාවයන් පදනම් කරගෙන දරිද්‍රතාව මිනිම් කිරීම සඳහා යොදා ගන්නා මිනුමයි. මේ සඳහා ආදායම වැනි සරල පදනමක් යොදා ගනිමින් දරිද්‍රතාව මිනුම් කරනවාට වඩා, මිනිස් ජීවිතයට වඩාත් වැදගත් ක්ෂේත්‍ර තුනක් සැලකිල්ලට ගනී. එනම්,

- අධ්‍යාපනය
- සෞඛ්‍ය
- ජීවන තත්ත්වය

(ආ)

අඩු ආදායම් මට්ටමේ දී මුහුණ දුන් අභියෝග ජයගෙන මැදි ආදායම් ලබන රටක් බවට පත් වූ එහෙත් ඉහළ ආදායම් ලබන රටක් බවට පත්වීම වළක්වාලන ගැටලු වලට මුහුණ දී ඇති රටවල් මෙසේ මැදි ආදායම් උගුලට හසු වී ඇති රටවල් යනුවෙන් හඳුන්වයි.

- මැදි ආදායම් උගුලට හසු වීමට හේතු කිහිපයකි. එනම්,
- ශ්‍රම සුක්ෂම නිශ්පාදන ක්‍රියාවලි සහ අපනයන ව්‍යුහය වෙනස් නොවීම
 - වාසිදායක පිරිවැය ව්‍යුහයක් ඇති නැති එන ආර්ථිකයන්ගෙන් ඇතිවන තරගකාරීත්වය
 - අඩු එකතු කල අගයකින් යුතු කර්මාන්ත මත ආර්ථිකය රඳා පැවතීම
 - කර්මාන්ත නව අංශයක් කරා විකාශනය නොවීම හා නවෝත්පාදන අවම වීම

(ඇ)

- අපනයන ආදායම් වල කිසියම් පසු බැසීමක් සිදු විය හැක
- ප්‍රධාන වශයෙන් ශ්‍රී ලංකාවේ ඇගලුම් අපනයන කර්මාන්තයට යුරෝපා සංගම් වෙළඳ පොළ තුල දැඩි තරගකාරීත්වයකට මුහුණ පෑමට සිදුවනු ඇත.
- ඉතා අඩු ලාභ ආන්තිකයක ක්‍රියාත්මක වූ අපනයන සමාගම් කායික්ෂමව පවත්වාගෙන යාම පිළිබඳ අවදානමක් හට ගනී
- නිශ්පාදන ආයතන ඵලදායීතාවය ඉහළ නංවා පිරිවැය අඩු කිරීමට කටයුතු කරනු ඇත.

(ඉ)

ජනගහන වර්ධනය යනු කිසියම් කාලපරිච්ඡේදයක් තුළ රටක සිදු වූ උපත්, මරණ සහ සංක්‍රමණ හේතු කොට ගෙන එම ජන සංඛ්‍යාවේ සිදු වූ වෙනසයි.

කිසියම් කාලපරිච්ඡේදයක් තුළ ජනගහනයේ ප්‍රමාණය, ව්‍යුහය හා වර්ධනය කෙරෙහි බලපාන ප්‍රජා විද්‍යාත්මක සාධක 3කි.

- සාකලසතාව
- මර්තසතාව
- ශුද්ධ සංක්‍රමණ



පී.ඩී.අයි.බර්නදෙන්
දෙවන වසර
මූල්‍ය අධ්‍යයන අංශය

ගිණුම්කරණය

01 1995 අංක 15 දරණ ගිණුම්කරණ හා විගණන ප්‍රමිති පනත අනුව ශ්‍රී ලංකා ගිණුම්කරණ ප්‍රමිති පනත අනුව ශ්‍රී ලංකා ගිණුම්කරණ ප්‍රමිත පිළියෙල කිරීමේ බලය හිමි ආයතනය වනුයේ

- 1) ශ්‍රී ලංකා වරලත් ගණකාධිකාරී ආයතනය
- 2) ශ්‍රී ලංකා පාර්ලිමේන්තුව
- 3) ශ්‍රී ලංකා ගිණුම්කරණ හා විගණන ප්‍රමිති අධීක්ෂණ මණ්ඩලය.
- 4) ශ්‍රී ලංකා වරලත් කළමනාකරණ ගණකාධිකාරී ආයතනය
- 5) ශ්‍රී ලංකා සුරැකුම්පත් හා විනිමය කොමිෂන් සභාව

02 පහත දෑ වලින් කළමනාකරණ ගිණුම්කරණ කාර්යයන් ඇතුළත් වන්නේ කුමන ප්‍රකාශයෙන්ද?

- 1) සැලසුම්කරණය, සංවිධානකරණය, මෙහෙයවීම, පාලනය
- 2) සැලසුම්කරණය, අයවැය පිළියෙල කිරීම, පාලනය
- 3) සැලසුම්කරණය, සංවිධානකරණය, පාලනය
- 4) සැලසුම්කරණය , අයවැය පිළියෙල කිරීම, මෙහෙයවීම
- 5) සැලසුම්කරණය , සංවිධානකරණය, අයවැය පිළියෙල කිරීම

03 ලකුණු කළ මිල රු 800 000 ක් වූ තොගයක් රු 50 000ක වෙළඳ වට්ටමකට යටත්ව 12% VAT සහිතව ණයට විකුණා ඇත . එම තොගයේ පිරිවැය රු. 500 000කි. එය පහත සම්කරණයට ගැලපූ විට ශුද්ධ ප්‍රතිලාභය වන්නේ?

	වත්කම	+	වියදම	=	වගකීම	+	සීමකම	+	ආදායම
01)	+ 340 000	+	50 0000	=	-	+	-	+	840 000
02)	+ 250 000	+	500 000	=	-	+	750000	+	-
03)	+ 340 000	+	500 000	=	+90 000	+	-	+	750 000
04)	+ 340 000	+	-	=	+90 000	+	250 000	+	-
05)	+ 250 000	+	-	=	-	+	250 000	+	-

පහත තොරතුරු ප්‍රශ්න අංක 04 හා 05 ට අදාළ වේ.
 විශ්ව විසින් රු 150 000ක පිරිවැය වූ තොග රු 200 000 ක ලකුණු කළ මිලෙන් 10% වෙළෙඳ වට්ටමක් යටතේ ණයට විකුණා ඇත. ඉන් විකුණුම් මිල රු 36 000ක් වටිනා තොග ගනුදෙනුකරු විසින් ආපසු එවා ඉතිරි ශේෂය පියවීමට 10% ක වට්ටමකට යටත්ව මුදල් ලබා දී ඇත.

04 ඉහත ගනුදෙනු විශ්වගේ ව්‍යාපාරයේ සටහන් කිරීමට අදාළ මූලාශ්‍ර ලියවිලි පිළිවෙලින්

- 1) ඉන්වොයිසිය, හරපත , ලදුපත
- 2) ඉන්වොයිසිය, බැරපත , ගෙවුම් වවුචරය
- 3) ඉන්වොයිසිය, හරපත , ගෙවුම් වවුචරය
- 4) ඉන්වොයිසිය, බැරපත ,ලදුපත
- 5) ඉන්වොයිසිය, හරපත , ජනල් වවුචරය

05 මෙම ගනුදෙනු නිසා විශ්වගේ ව්‍යාපාරයේ ශුද්ධ ලාභයට වූ බලපෑම වන්නේ

- 1) රු 27 000 2) රු 12 600
- 3) රු 9 600 4) රු 15 600
- 5) රු 44 100

06 ජංගම වත්කම් තුළ අවසන් තොගය හඳුනා ගැනීමට අදාළ ගිණුම්කරණ සංකල්පය වන්නේ ?

- 1) ඓතිහාසික පිරිවැය සංකල්පය 2) ගැලපුම් සංකල්පය
- 3) ආරක්ෂක සංකල්පය 4) කාලවිච්ඡේද සංකල්පය
- 5) උපචිත සංකල්පය

07 දේපළ පිරිසත උපකරණ ප්‍රත්‍යාගණනය කර ගිණුම්ගත කිරීමට පාදක කරගන්නා මූලික ගුණාත්මක ලක්ෂණය වන්නේ?

- 1) විශ්වසනීය නියෝජනය 2) අදාළ බව
- 3) සැසඳිය හැකි බව 4) කාලීන බව
- 5) සත්‍යාපනය කළ හැකි බව

08. 2022.03.31 දිනට වෙළඳ ණයගැති පාලන ගිණුමේ පැවති ශේෂය රු.896 000ක් වූ අතර එදිනට ශේෂ ලැයිස්තුවේ පැවති ශේෂය එකිනෙකට සමාන නොවීය. වෙනසට හේතුව පසුව අනාවරණය විය.

- රු. 100 000ක විකුණුම් ඉන්වොයිසියේ රු. 10 000 ක් ලෙස වෙළඳ ණයගැති ගිණුමේ සටහන් කර ඇත .
- රු.4 000ක දුන් වට්ටම් වෙළඳ ණයගැති පාලන ගිණුමේ සටහන් කර නොමැත
- වෙළඳ ණයගැති ශේෂ ලැයිස්තුවේ එකතුව රු. 6 000 ක් වැඩියෙන් සටහන් කර ඇත .

ඒ අනුව 2022.03.31 දිනට පැවති ශේෂ ලැයිස්තුවේ ශේෂය වන්නේ?

- 1) රු 816 000 2) රු 820 000
- 3) රු 800 000 4) රු 808 000
- 5) රු 812 000

පහත තොරතුරු ප්‍රශ්න අංක 09 හා 10ට අදාළ වේ.

දක්ෂණයේ ව්‍යාපාරයේ 2022.03.31 දින ගබඩාවේ පැවති තොගය ගිණිතක් නිසා විනාශ වූ අතර එහි වටිනාකම නිශ්චිතව ගණනය කිරීමට නොහැකි විය. හානි වූ අවසන් තොගය සඳහා 80% ක් රක්ෂණ වන්දි ලබාදීමට රක්ෂණ සමාගම එකඟ වූ අතර ඊට අදාළ පහත තොරතුරු ඔබට සපයා ඇත.

	රු.
ආරම්භක තොගය	250 000
ගැනුම්	1 650 000
ගෙනඒමේ කුලී	50 000
ආපසු යැවුම්	100 000
විකුණුම්	2 000 000

අතිරේක තොරතුරු

(i) 2022.03.30 දින රු. 200 000 ක විකුණුම් ආපසු එවා ඇති අතර එම තොග 2022.04.02 වන දින ගබඩාවට ලැබී ඇත . ඒ පිළිබඳ කිසිවක් ගිණුම් තබා නොමැත
:සස*මෙම ව්‍යාපාරය විකුණුම් පිරිවැය මත 25% දළ ලාභයක් තබා ගත යුතුය.

09 2022.03.31 දින ගිණිතට හසු වූ තොග වන්නේ

- 1) රු 410 000 2) රු 200 000
- 3) රු 250 000 4) රු 400 000
- 5) රු 36 000

10. 2022.03.31 දින ලැබිය යුතු රක්ෂණ වන්දියේ වටිනාකම වන්නේ ?

- 1) රු 200 000 2) රු 160 000
- 3) රු 328 000 4) රු 320 000
- 5) රු 288 000

11 සුභ සාධන සමිතියක 2021.04.01 දිනට සාමාජිකයන් 100 ක් සිටි අතර එක් අයෙකුගේ මාසික ගාස්තුව රු. 1 000 කි.

	2022.03.31 දිනට (රු')	2021.04.01 දිනට (රු')
නිග සාමාජික මුදල්	40 000	30 000
කලින් ලද සාමාජික මුදල්	50 000	20 000

ඒ අනුව වර්ෂය තුළ මුදලින් ලද සාමාජික මුදල් වටිනාකම වන්නේ

- 1) රු 100 000 2) රු 1 200 000
- 3) රු 150 000 4) රු 120 000
- 5) රු 1 220 000

- 12 හවුල් ව්‍යාපාර ආඥා පනතේ 24 වන වගන්තිය අනුව වරදි ප්‍රකාශය වන්නේ,
- 1) හවුල්කරුවන්ගේ ලාභ අලාභ සමානව බෙදාගත යුතුය.
 - 2) විශ්‍රාම ගිය හවුල්කරුවන්ගේ හිමිකම ණය ගිණුමකට මාරු කළේ නම් ඒ සඳහා 5% ක පොලියක් ලබාදිය යුතුය
 - 3) ප්‍රාග්ධන ශේෂ මත කිසිදු පොලියක් හිමි නොවේ.
 - 4) හවුල්කරුවන් සඳහා කිසිදු හවුල් වේතනයක් හිමි නොවේ.
 - 5) හවුල්කරුවන් ව්‍යාපාරය වෙනුවෙන් දැරූ වියදුම් සඳහා හවුල්කරුවන්ට ප්‍රතිපූර්ණය කළ යුතුය

■ පහත තොරතුරු ප්‍රශ්න අංක 13 ට හා 14 ට අදාළ වේ.

තාරා හා රේඛා 2 : 1 අනුපාතයට ලාභ අලාභ බෙදා ගනිමින් පවත්වාගෙන යන හවුල් ව්‍යාපාරයට 2021.04.01 දින ලාභයෙන් 1/3 ක කොටසකට මීරා ඇතුළත් විය. 2022.03.31 දිනෙන් අවසන් වර්ෂය සඳහා ශුද්ධ ලාභය රු. 1 800 000 ක් විය. එදිනට ඇස්තමේන්තු කළ කීර්තිනාමය 900 000 කි.

2021.03.31 දිනට (රු')

ප්‍රාග්ධන ගිණුම්

තාරා	4 000 000
රේඛා	2 000 000

ජංගම ගිණුම්

තාරා	40 000
රේඛා	60 000

අතිරේක තොරතුරු

- තාරා, රේඛා හා මීරාගේ හවුල් ව්‍යාපාරයේ ප්‍රාග්ධන ශේෂ මත 10% ක පොලියක් ගැලපිය යුතුය.
- මීරා යෙදූ ප්‍රාග්ධනය රු. 3 000 000 කි.

13. 2022.03.31 දිනට හවුල්කරුවන්ගේ ප්‍රාග්ධන ගිණුම් ශේෂ වන්නේ,

	තාරා රු.	රේඛා රු.	මීරා රු.
1)	4 200 000	2 100 000	2 700 000
2)	4 000 000	2 200 000	2 800 000
3)	4 100 000	2 000 000	2 900 000
4)	4 200 000	2 000 000	2 800 000
5)	4 000 000	2 300 000	2 700 000

14 2022.03.31 දිනෙන් අවසන් වර්ෂයේ හවුල්කරුවන්ගේ ලාභ කොටස් පිළිවෙලින්

	තාරා රු.	රේඛා රු.
1)	800 000	400 000
2)	600 000	300 000
3)	400 000	300 000
4)	400 000	200 000
5)	860 000	470 000

15 සංඛගේ ව්‍යාපාරයේ පහත තොරතුරු ඔබට සපයා ඇත.

- 2021.04.01 දිනට තොගයේ පිරිවැය රු. 200 000 ක් වූ අතර, එහි ශුද්ධ උපලබ්ධි අගය රු. 180 000 ක් විය.
- වසර තුළ සිදු කළ මුළු ගැනුම් රු. 800 000 ක් වූ අතර, මින් 5% ක් ආපසු යැවීය.
- 2022.03.31 දිනට තොගයේ පිරිවැය රු. 60 000 ක් වූ අතර, එහි ශුද්ධ උපලබ්ධි අගය රු. 54 000 ක් විය.
- විකුණුම් පිරිවැය මත දළ ලාභ අනුපාතය 30% ක් නම්, ව්‍යාපාරයේ මුළු විකුණුම් වනුයේ,

1) රු. 880 000	2) රු. 1 144 000
3) රු. 940 000	4) රු. 1 122 000
5) රු. 1 257 000	

16 2021.04.01 දිනට පැවති සාමාන්‍ය කොටස් ගණන 100 000 ක් වන අතර එක් කොටසක වටිනාකම රු. 20 කි. 2021.10.01 දින කොටස් 20 000 කොටසක් රු. 25 ක් සාමාන්‍ය කොටස් නිකුතුවක් සිදු කර ඇත. 2022.01.01 දිනට පැවති කොටස් 4 කට 1 බැගින් කොටසක් රු. 20 බැගින් රඳවාගත් ඉපයුම් ප්‍රාග්ධනිත කරන ලදී. 2022.03.31 දිනට සාමාන්‍ය කොටස් ගණන හා ප්‍රකාශිත ප්‍රාග්ධනයේ වටිනාකම වන්නේ,

සාමාන්‍ය කොටස් ගණන	ප්‍රකාශ කළ ප්‍රාග්ධනය රු.
1) 150 000	2 500 000
2) 120 000	2 500 000
3) 150 000	3 000 000
4) 145 000	3 000 000
5) 150 000	3 100 000

පහත තොරතුරු ප්‍රශ්න අංක 17 ට හා 18 ට අදාළ වේ.

රෝස් සමාගමේ 2022.03.31 දිනෙන් අවසන් වර්ෂය සඳහා පහත තොරතුරු ඔබට සපයා ඇත.

	(රු.000)
විකුණුම්	60 000
විකුණුම් පිරිවැය	25 000
මෝටර් රථ විකුණුම් ලාභ	2 000
ලද වට්ටම්	100
පරිපාලන වියදම්	10 000
බෙදාහැරීමේ වියදම්	6 000
ආදායම් බදු	400
ඉඩම් ප්‍රත්‍යාගණන අලාභ	1 600

අතිරේක තොරතුරු,

- (i) ඉඩම් වර්ෂය තුළ දෙවනවරට ප්‍රත්‍යාගණනය කළ අතර ප්‍රථම ප්‍රත්‍යාගණනයේ දී රු.2 000 000 ක අතිරේකයක් වාර්තා කර නිසි පරිදි ගිණුම් තබා ඇත.
- (ii) වර්ෂය තුළ ගෙවූ රු. 600 000 ක ලාභාංශ පරිපාලන වියදම් තුළ දක්වා ඇත.

17 2022.03.31 දිනෙන් අවසන් වර්ෂය සඳහා මුළු ආදායම හා මුළු වියදම වන්නේ,
මුළු ආදායම (රු"000) මුළු වියදම (රු"000)

1)	63 000	42 400
2)	62 000	42 400
3)	62 100	43 000
4)	62 000	43 000
5)	62 100	42 400

18 2022.03.31 දිනෙන් අවසන් වර්ෂය සඳහා ශුද්ධ ලාභය හා වෙනත් විස්තීර්ණ ආදායම් වන්නේ,
2022.03.31 දිනෙන් අවසන් වර්ෂය සඳහා 2022.03.31 දිනෙන් අවසන් වර්ෂය සඳහා
ශුද්ධ ලාභය (රු"000) වෙනත් විස්තීර්ණ ආදායම් :රු.000*

1)	19 700	2 000
2)	19 700	(1 600)
3)	21 300	(1 600)
4)	21 300	2 000
5)	20 900	400

19. ව්‍යාපාරයක් සතු ගොඩනැගිලි පිළිබඳ තොරතුරු පහත දැක්වේ.
2021.04.01 දිනට ගොඩනැගිලි පිරිවැය හා ක්ෂය වෙන් කිරීමේ ගිණුමේ ශේෂයන් පිළිවෙලින් රු. 1 000 000 හා රු. 250 000 කි. 2022.01.01 දින මෙම ගොඩනැගිලි රු. 800 000 ක අගයකට ප්‍රත්‍යාගණනය කර ඇත. ගොඩනැගිලි සරල මාර්ග ක්‍රමයට වාර්ෂිකව 10% ඛණිත ක්ෂය කරයි. මෙම ගොඩනැගිලි ප්‍රත්‍යාගණනයෙන් 2022.03.31 දිනෙන් අවසන් වර්ෂයේ ඇතිවන ප්‍රතිඵලය වන්නේ

- 1) රු. 125 000 ක අතිරික්තයකි. 2) රු. 175 000 ක අතිරික්තයකි.
- 3) රු. 100 000 ක උභයතාවයකි. 4) රු. 200 000 ක අතිරික්තයකි.
- 5) රු. 150 000 ක උභයතාවයකි.

20. සීමිත ආනන්ද පොදු සමාගමේ 2022.03.31 දිනෙන් අවසන් වර්ෂය සඳහා මූල්‍ය ප්‍රකාශන 2022.06.19 දින අධ්‍යක්ෂකවරු අනුමත කර, 2022.07.10 දින මූල්‍ය ප්‍රකාශන ප්‍රසිද්ධ කර ඇත. එම කාලය තුළ පහත සිදුවීම් සිදු වී ඇත.

- A - 2022.03.31 දිනට තිබූ තොගයේ පිරිවැය රු. 800 000 ක් වූ අතර එම තොගය රු. 600 000 2022.04.10 දින විකුණා ඇත.
- B - 2022.04.01 දින සිදු කළ ණයට විකුණුමක් නිසා ඇති වූ වෙළඳ ණයගැතියෙකු 2022.05.10 දින මුත්තුවී ඇත.
- C - 2022.03.31 දිනට රු. 100 000 ක ප්‍රතිපාදනයක් කර ඇති නඩුවක් සඳහා 2022.06.01 දින තීන්දුව ලබා දී ඇත. ඒ සඳහා රු. 200 000 ක වන්දි ගෙවීමට සිදු විය.

LKAS 10 (වාර්තා කරන කාලපරිච්ඡේදයට පසු සිදුවීම්) ප්‍රමිතියට අනුව ඉහත සිදුවීම් වලින් 2022.03.31 දිනට මූල්‍ය ප්‍රකාශනවල ගලපන සිදුවීම/සිදුවීම් වන්නේ,

- 1) A හා B පමණි. 2) A පමණි.
- 3) A හා C පමණි. 4) A හා B පමණි.
- 5) A , B හා C යන සියල්ලම

21 LKAS 37 (ප්‍රතිපාදන, අසම්භාව්‍ය වගකීම් හා අසම්භාව්‍ය වත්කම්) ප්‍රමිතියට අනුව පහත කුමන අයිතමය මූල්‍ය තත්ව ප්‍රකාශයේ ප්‍රතිපාදන ලෙස හඳුනාගත යුතුද?

- A - ක්ෂය වෙන් කිරීම් B - වගකීම් සහතික වෙන් කිරීම්
C - නඩු වන්දි සඳහා වෙන් කිරීම් D - අධිමාණ ණය වෙන් කිරීම්

- 1) A හා B පමණි. 2) B හා C පමණි.
3) B , C හා D පමණි. 4) A , C හා D පමණි.
5) C පමණි.

22. 2022.03.31 දිනෙන් අවසන් වර්ෂය සඳහා සමාගමක පහත තොරතුරු ඔබට සපයා ඇත.

විස්තරය	(රු"000)
වර්ෂයේ ශුද්ධ ලාභය	1 350
වර්ෂය සඳහා ඇස්තමේන්තුගත ආදායම් බද්ද	400
වර්ෂය තුළ ගෙවූ බදු	200
වාර්ෂික ක්ෂයවීම්	300
රථ විකුණුම් ලාභ	150
වර්ෂය තුළ - තොග වැඩිවීම්	60
- ණයගැති අඩුවීම	40
- ණයහිමි වැඩිවීම	50

LKAS 07 (මුදල් ප්‍රවාහ ප්‍රකාශ) ප්‍රමිතියට අනුව 2022.03.31 දිනෙන් අවසන් වර්ෂය සඳහා මෙහෙයුම් ක්‍රියාකාරකම් වලින් ජනනය වූ ශුද්ධ මුදල් ප්‍රවාහය වන්නේ,

- 1) රු. 1 530 000 2) රු. 1 850 000
3) රු. 1 700 000 4) රු. 1 730 000
5) රු. 1 630 000

23. පහත තොරතුරු සමාගමක් 2021.10.01 දින මිලදී ගත් යන්ත්‍රයක් සඳහා අදාළ වේ.

විස්තරය	(රු"000)
මිලදී ගැනුම් පිරිවැය	2 400
ගෙන ඒමේ කුලී	600
සවි කිරීමේ වියදම්	100
සුන්බුන් අගය	400

යන්ත්‍රයේ අපේක්ෂිත ඵලදායී ජීව කාලය වසර 9 ක් වන අතර, ආර්ථික ආයු කාලය වසර 10 කි. පිරිවැය මත සරල මාර්ග ක්‍රමයට වාර්ෂිකව ක්ෂය කළ යුතුය. LKAS 16 ට අනුව යන්ත්‍රයේ පිරිවැය හා 2022.03.31 දිනෙන් අවසන් වර්ෂය සඳහා ක්ෂය වීම් වන්නේ,

යන්ත්‍රයේ පිරිවැය (රු"000)	2022.03.31 දිනෙන් අවසන් වර්ෂය සඳහා ක්ෂය (රු"000)
1) 3 100	135
2) 3 100	270
3) 500	116
4) 3 100	300
5) 3 100	150

24. සමාගමක ජංගම අනුපාතය සහ ක්ෂණික අනුපාතය පිළිවෙලින් 2 : 1 හා 1.2 : 1 විය. අනෙකුත් සියලු සාධක නොවෙනස්ව පවතින විට භාණ්ඩ ණයට ගැනීම නිසා මෙම අනුපාත දෙක කෙරෙහි සිදුකරන බලපෑම කුමක්ද?

- | ජංගම අනුපාත | ක්ෂණික අනුපාතය |
|----------------|----------------|
| 1) වැඩි වේ. | වැඩි වේ. |
| 2) අඩු වේ. | අඩු වේ. |
| 3) වැඩි වේ. | අඩු වේ. |
| 4) අඩු වේ. | වැඩි වේ. |
| 5) වෙනස් නොවේ. | වෙනස් නොවේ. |

25. තොග පාලනයට අදාළ ව පහත කුමන ප්‍රකාශය / ප්‍රකාශ නිවැරදි වේද?

A - ආර්ථික ඇණවුම් ප්‍රමාණයේ දී මුළු තබා ගැනීමේ පිරිවැය මුළු ලබා ගැනීමේ පිරිවැයට සමාන වේ.

B - එක වරකට ඇණවුම් කරන ඒකක ප්‍රමාණය වැඩි වූ විට මුළු තබා ගැනීමේ පිරිවැය සෘජුවම වැඩි වේ.

C - ආරක්ෂිත තොගයක් පවත්වා ගන්නේ නම් එය අවම තොග මට්ටම සමාන වේ.

- 1) A පමණි.
- 2) B පමණි.
- 3) A හා C පමණි.
- 4) B හා C පමණි.
- 5) A , B හා C යන සියල්ලම

ප්‍රශ්න 26 හා 27 සඳහා පහත සඳහන් තොරතුරු අදාළ වේ.

ව්‍යාපාරයක් ඒකක 5 000 ක් නිෂ්පාදනයේ දී, සෘජු ද්‍රව්‍ය පිරිවැය රු. 1 000 000 ක් හා සෘජු ශ්‍රම පිරිවැය රු. 900 000 ක් දැරී. ඒකකයක වෙන් සෘජු පිරිවැය රු. 40 ක් වන අතර නිෂ්පාදනය නොවන පොදුකාර්ය පිරිවැය ඒකකයකට රු. 40 කි. ඒකකයක් නිෂ්පාදනයේ දී එක් එක් දෙපාර්තමේන්තුව තුළ ගතකළ කාලය හා අන්තර්ග්‍රහණ අනුපාත මෙසේය.

අංශය	යන්ත්‍ර පැය	ශ්‍රම පැය	අන්තර්ග්‍රහණ අනුපාතය
එකලස්	7	5	යන්ත්‍ර පැයකට රු. 20
ඉදි කිරීම්	8	6	යන්ත්‍ර පැයකට රු. 15
නිම කිරීම්	5	9	ශ්‍රම පැයකට රු. 10

26. ඒකකයක නිෂ්පාදන පොදුකාර්ය පිරිවැය,

- 1) රු. 310
- 2) රු. 350
- 3) රු. 390
- 4) රු. 300
- 5) රු. 26

27. ඒකකයක මුළු නිෂ්පාදන පිරිවැය,

- 1) රු. 770
- 2) රු. 540
- 3) රු. 730
- 4) රු. 890
- 5) රු. 810

28. පොදුකාර්ය අන්තර්ග්‍රහණය සඳහා සෘජු ශ්‍රම පිරිවැය පදනම භාවිත කරන සමාගමක් පහත තොරතුරු ලබා දී ඇත.

	රු.
සෘජු ද්‍රව්‍ය	1 000 000
සෘජු ශ්‍රමය	500 000
කර්මාන්ත ශාලා පොදු කාර්ය	1 000 000
අවසන් තොගයේ පිරිවැය	75 000 (මෙහි රු. 30 000 ක සෘජු ද්‍රව්‍ය පිරිවැය ඇතුළත් වේ.)

පොදුකාර්ය අන්තර්ග්‍රහණ අනුපාතය හා අවසාන තොගයේ අන්තර්ග්‍රහණය කර ඇති පොදුකාර්ය වටිනාකම කුමක්ද?

පොදුකාර්ය අන්තර්ග්‍රහණ අනුපාතය (%)	අන්තර්ග්‍රහණය කළ පොදුකාර්ය රු.
1) 400	45 000
2) 50	20 000
3) 200	30 000
4) 200	7 500
5) 250	50 000

29. නිෂ්පාදන සමාගමක ආරක්ෂිත ආන්තිකය රු. 600 000 ක් වූ අතර එම ඒකක සංඛ්‍යාවේ දී මුළු විචල්‍ය පිරිවැය රු. 880 000 කි. දායක විකුණුම් අනුපාතය 20% ක් සමාගම සෑම විටම පවත්වා ගන්නේ නම් මුළු ස්ථාවර පිරිවැය වන්නේ,

- 1) රු. 100 000 2) රු. 180 000
- 3) රු. 120 000 4) රු. 60 000
- 5) රු. 80 000

30. ඇස්තමේන්තුගත නිෂ්පාදන පරිමාව යටතේ නිපදවන ඒකක ප්‍රමාණය වැඩිවන විට, පහත කුමන පිරිවැය අයිතමයක් අඩු වේද?

- A. මුළු ස්ථාවර පිරිවැය B. ඒකක ස්ථාවර පිරිවැය
- C. මුළු විචල්‍ය පිරිවැය D. ඒකක විචල්‍ය පිරිවැය

- 1) A හා B පමණි. 2) B පමණි.
- 3) A හා C පමණි. 4) B හා C පමණි.
- 5) B , C හා D පමණි.

අංක 31 සිට 50 තෙක් ප්‍රශ්න වලට පිළිතුරු සපයන්න

31. පහත දක්වා ඇති ප්‍රකාශ සත්‍ය හෝ අසත්‍ය බව දක්වන්න.

ප්‍රකාශය - සත්‍ය./අසත්‍ය.

A මූල්‍ය ගිණුම්කරණයේ දී කළමණාකරුවන්ට තීරණ ගැනීමට අවශ්‍ය සියළුම තොරතුරු ලබාදේ.

.....

B ද්විත්ව සටහන් න්‍යයේදී සෑම හර සටහනකටම බැර සටහන් යෙදීම කළ යුතුය.

C ගිණුම්කරණ සමීකරණය තුළ සෑම විටම මුළු වත්කම් වල එකතුවට මුළු වගකීම් හා මුළු හිමිකම් වල එකතුවට සමාන වේ.

D හවුල් ව්‍යාපාරයක ශුද්ධ ලාභය විසර්ජනය කිරීමේ දී ලිඛිත ගිවිසුමක් නොමැති නම් ලාභ අලාභ සමානව බෙදා ගැනීම කළ යුතුය

32. අමින් විසින් 2022.04.01 දින රු. 400 000 ක මුදලක් ආයෝජනය කරමින් ආරම්භ කළ ව්‍යාපාරයේ අප්‍රේල් මාසය තුළ මුළු වත්කම් රු. 800 000 කින් හා මුළු වගකීම් රු. 200 000 කින් වැඩි වී ඇත. මාසය තුළ අයිතිකරු රු. 20 000 ක මුදලක් ගැනිලි කර ඇත. 2022.04.30 දිනට ව්‍යාපාරයේ ශුද්ධ ලාභය හෝ අලාභය වන්නේ රු.

33. පහත ගනුදෙනු වලට අදාළ ද්විත්ව සටහන් ලියා දක්වන්න.

(1) රු.150 000ක පිරිවැය වූ තොග රු.200 000ක වටිනාකමකට ණයට විකුණුම්.

.....

(2) රු. 100 000ක වෙළඳ ගෙවිය යුතු ශේෂයක් පියවීමට 10% ක වට්ටමකට යටත්ව අයිතිකරු විසින් මුදල් ගෙවා ඇත.

.....

පහත ගනුදෙනු ප්‍රශ්න අංක 34 හා 35 ට අදාළ වේ.

සමන්තේ ව්‍යාපාරයේ සිදු වූ ගනුදෙනු කිහිපයක් පහත දක්වා ඇත.

A රු. 40 000 ක පිරිවැය වූ තොග රු. 35 000 කට ණයට විකුණුම්,

B වාර්ෂික ක්ෂයවීම් රු. 20 000 කි.

C ආරම්භක දිනට උපචිත විදුලි වියදුම් රු. 4 000 ක් ගෙවීම,

D රු. 2 000 ක පිරිවැය වූ විකුණුම් මිල රු. 4 000 ක තොගයක් ආපසු එවුම්,

34. ඉහත ගනුදෙනු පොදු ලෙපරයේ පහත ගිණුම් වල දක්වන ආකාරය ලකුණ යොදා දක්වන්න. ගනුදෙනුව

	වත්කම්	වියදම්	වගකීම්	හිමිකම්	ආදායම්
A
B
C
D

35. ඉහත ගනුදෙනු වලට අදාළ මූලික ලියවිලි හා මූලික සටහන් පොත් වන්නේ

ගනුදෙනුව	මූලාශ්‍ර ලියවිලි	මූලික සටහන් පොත
A
B
C
D

36. පහත දැක්වෙන ප්‍රකාශ වලට අදාළ ගිණුම්කරන සංකල්පය ලියා දක්වන්න.

A වෙළඳපල වටිනාකම නොසලකා ගත් මිල මත දේපල පිරිසත උපකරණ පවත්වාගෙන යාම.

B පිරිවැයට වඩා අඩු වටිනාකමින් යුතු ශුද්ධ උපලබ්ධි අගයට අවසන් තොගය හඳුනා ගත යුතුය.

C භාවිත අයිතිය ඇති වත්කම් සමාගමේ වත්කම් ලෙස හඳුනා ගැනීම.

D ඉදිරියට ගෙවූ රක්ෂණය ජංගම වත්කම් ලෙස හඳුනා ගැනීම.

පහත තොරතුරු 37 ට හා 38 ට අදාළ වේ.

නිෂ්පාදන ව්‍යාපාරයේ 2022.03.31 දිනෙන් අවසන් වර්ෂය සඳහා පහත තොරතුරු ඔබට සපයා ඇත.

	රු.
2021.04.01 දිනට අමුද්‍රව්‍ය තොගය	40 000
නොනිම් තොගය	10 000
නිම් තොගය (ඒකක 100)	100 000
අමුද්‍රව්‍ය මිල දී ගැනීම්	440 000
සෘජු ශ්‍රමය	160 000
විදුලි වියදම්	20 000
යන්ත්‍ර පිරිවැය	400 000
වක්‍ර ශ්‍රමය	50 000
2022.03.31 දිනට අමුද්‍රව්‍ය තොගය	10 000
නොනිම් තොගය	20 000
නිම් තොගය	?
උපචිත විදුලිය	10 00

අතිරේක තොරතුරු

- යන්ත්‍ර වාර්ෂිකව පිරිවැය මත 10% ක්ෂය කළ යුතුය.
- වර්ෂය තුළ ඒකක 7300 ක් නිපදවා ඇති අතර නිම් ඒකක 40 ක් හානි වී ඇත.
- වර්ෂය තුළ ආරම්භක ඒකක ඇතුළුව ඒකක 7 200 ක් අලෙවි කර ඇත.

37. 2022.03.31 දිනෙන් අවසන් වර්ෂය සඳහා,

- (1) ප්‍රාථමික පිරිවැය රු.
- (2) නිෂ්පාදන පිරිවැය රු.

38. (i) 2022.03.31 දිනට අවසන් නිම් තොගයේ පිරිවැය රු.

ii) 2022.03.31 දිනට හානි වූ තොගයේ පිරිවැය රු.

39. 2022.03.31 දිනෙන් අවසන් වර්ෂය සඳහා ඇස්තමේන්තු ආදායම් බද්ද රු. 3 000 000 කි. ශේෂ පිරික්සුමෙන් උපුටාගත් තොරතුරු පහත දැක්වේ

	රු.
2021.04.01 දිනට ආදායම් බදු වෙන් කිරීම්	600 000
2020/2021 වර්ෂය සඳහා ගෙවූ ආදායම් බදු	750 000
2021/2022 වර්ෂය සඳහා ගෙවූ ආදායම් බදු	2 200 000

ඒ අනුව,

(i) 2022.03.31 දිනෙන් අවසන් වර්ෂය සඳහා ආදායම් බදු වියදම

රු.

(ii) 2022.03.31 දිනට ජංගම වගකීම්වල ඇතුළත් ආදායම් බදු වෙන් කිරීම් වටිනාකම,

රු.

40. 2016.04.01 දින රු. 1 000 000 මිලදී ගනු ලැබූ රථයක් එදිනට එලදායි ජීව කාලය වසර 8 ක් හා සුන්බුන් අගය රු. 200 000 ක් විය. පසුව 2020.04.01 දින කරන ලද සමාලෝචනයක දී වත්කමේ එලදායි ජීව කාලය එදින සිට තවත් වසර 4 ක් බව තහවුරු වූ අතර, සුන්බුන් අගය වෙනසක් නොවීය. ඒ අනුව 2022.03.31 දිනට මූල්‍ය තත්ව ප්‍රකාශයේ දැක්විය යුතු මෝටර් රථයේ ධාරණ වටිනාකම,

රු.

41. පුබුදු PLC හි 2022 මාර්තු 31 න් අවසන් වසර සඳහා පහත ස්කන්ධ වෙනස්වීම් ප්‍රකාශය පිළියෙල කර ඇත

දිනය	විස්තරය	සාමාන්‍ය කොටස්	ප්‍රකාශණය සංචිතය	පොදු සංචිත	රඳවාගත් ලාභ
2021.04.01	ශේෂය	10 000	1 000	500	4 250
05.10	A	1 000	-	-	-
06.01	B	-	-	1 500	(1 500)
07.08	C	-	600	-	4 200
08.20	D	2 500	-	(2 500)	-

ඉහත ස්කන්ධ වෙනස් වීම් ප්‍රකාශනයෙහි A B C හා D යන ඉංග්‍රීසි අක්ෂර වලින් නිරූපණය වන්නේ

A.....

B

C.....

D

42. SLFRS 15 (ගනුදෙනුකරුවන් සමඟ ගිවිසුම්වලින් අයභාරය) ප්‍රමිතයට අනුව පහත දෑ සඳහන් කරන්න.

(අ) ආයතනයක අයභාරය හඳුනාගත යුතු අවස්ථාව

.....

(අ) ගනුදෙනුවක මිල යන්ත නිර්වචනය කරන්න

.....

.....

.....

.....

.....

43. නිෂ්පාදන ව්‍යාපාරයක පහත තොරතුරු 2022.03.31 දිනට ඔබට සපයා ඇත.

■ ඒකකයක් සෑදීම සඳහා සෘජු ශ්‍රම පැය 2 ක් අවශ්‍ය වන අතර, ශ්‍රම පැයක වටිනාකම රු. 450 කි. කාලපරිච්ඡේදය තුළ නිපද වූ ඒකක ගණන 5 000 කි.

■ 2021/2022 වර්ෂයේ මුළු නිෂ්පාදන පිරිවැය රු. 9 000 000 කි.

■ නිෂ්පාදන පොදුකාර්ය පිරිවැය සෘජු ශ්‍රම පැය පදනම මත අන්තර්ග්‍රහණය කරන ලද අතර ශ්‍රම පැයක අන්තර්ග්‍රහණ අනුපාතය රු. 200 කි.

ඒකකයක සෘජු ද්‍රව්‍ය පිරිවැය රු.

පහත තොරතුරු ප්‍රශ්න අංක 44 හා 45 සඳහා අදාළ වේ.

2021.04.01 දින දිගුකාලීන කල්බදු ක්‍රමය යටතේ ගත් යන්ත්‍රයක පහත තොරතුරු ඔබට ලබා දී ඇත.

(රු''000)

යන්ත්‍රය සඳහා ගෙවූ මූලික තැන්පතුව	4 000
සවි කිරීමේ පිරිවැය	400
අනෙකුත් සෘජු වියදම්	600

ඉදිරි වසර 5 තුළ රු. 1 000 000 බැගින් සමාන වාරික වලින් ගෙවීමට එකඟ වී ඇත. ඒ සඳහා පොලී පහත පරිදි වේ

වර්ෂය	පොලිය (රු.'000)
2021/2022	300
2022/2023	250
2023/2024	200
2024/2025	150
2025/2026	100

44. යන්ත්‍රයේ පිරිවැය වනුයේ රු.

45. වසර තුළ පළ මු වාරිකය ගෙවා ඇත්නම් 2022.03.31 දිනට,

(අ) ජංගම භාවිත කල්බදු වගකීම රු.

(ආ) ජංගම කල්බදු වගකීම රු.

46. පහත දී ඇති එක් එක් ලියවිලි වලට අදාළව ඒවා පිළියෙළ කරන අංශය හෝ පුද්ගලයා කවුරුන්ද යන්න ලියා දක්වන්න.

- (1) ගබඩා අධිකාරිනා පත්‍රය.
- (2) ගැනුම් ඉන්වොයිසිය.
- (3) භාණ්ඩ භාරගැනීමේ පත්‍රය
- (4) භාණ්ඩ භාරදීමේ තුණ්ඩුව

47. සමාගමක 2021/2022 වර්ෂයේ ශුද්ධ ලාභය රු. 1 000 000 කි. ආදායම් බදු විශදම බදු පෙර ලාභයෙන් 20% ක් වන අතර, 2022.03.31 දිනට හා 2021.03.31 දිනට (උපචිත පොලී, මුදල් සහ යෝජිත ලාභාංශ හැර) ජංගම වත්කම් හා ජංගම වගකීම් පහත වේ.

	2022.03.31 දිනට (රු.)	2021.03.31 දිනට (රු.)
ජංගම වත්කම්	600 000	400 000
ජංගම වගකීම්	360 000	140 000
උපචිත ආදායම් බදු	50 000	120 000

2021/2022 වර්ෂයේ ලාභ හෝ අලාභ ප්‍රකාශයේ පැවති මුදල් නොවන අයිතමයන්,

- රථ විකුණුම් ලාභ රු. 100 000
- කෂයවීම් රු. 60 000

LKAS 07 ට අනුව මෙහෙයුම් ක්‍රියාකාරකම්වලට අදාළ මුදල් ප්‍රවාහය වනුයේ, රු.

48. පහත ගණුදෙනු නිසා ජංගම අනුපාතයට වන බලපෑම වැඩිවේ ද අඩුවේ ද වෙනස් නොවේ ද යන්න දක්වන්න.

වැඩිවේ, අඩුවේ, වෙනස් නොවේ

- A - ලාභයක් සහිතව ණයට විකුණූ භාණ්ඩ ආපසු එවීම.
- B - ගෙවිය යුතු බිලක් සඳහා මුදල් ගෙවීම.
- C - 10%ක වටිටමකට යටත්ව වෙළඳ ගෙවිය යුතුදෑ සඳහා මුදල් ගෙවීම.....
- D - 10% ක වටිටමකට යටත්ව වෙළඳ ලැබිය යුතු දෑ වලින් මුදල් ලැබීම.

49. පහත තොරතුරු භාවිත කරමින් හිස්තැන් වලට අදාළ වටිනාකම ගණනය කරන්න.

සාමාන්‍ය ණයගැනියෝ	2 000 000
ණයගැනී පිරිවැටුම් අනුපාතය (වාර)	8
දළ ලාභ අනුපාතය	25 %
පොලී ආවරණ අනුපාතය (වාර)	6
පොලිය	500 000

සියළුම විකුණුම් ණය පදනම මත සිදු කර ඇත.

රු.

- A. විකුණුම්
- B. විකුණුම් පිරිවැය
- C. දළ ලාභය
- D. බදුපෙර ශුද්ධ ලාභය

50. එක් භාණ්ඩයක් නිපදවනු ලබන ආයතනයක වර්තමාන නිෂ්පාදන හා අලෙවි ඒකක ගණන 3 000 ක් වන අතර එම අවස්ථාවේ දී සමාගම රු. 600 000 ක ලාභයක් උපයයි. සමාගමේ ඒකක ස්ථාවර පිරිවැය හා ඒකක විචලන පිරිවැය පිළිවෙළ හි රු. 400 ක් හා රු. 300 ක් වේ. එම අවස්ථාවේ දී ව්‍යාපාරයේ සමවිච්ඡේදන ලක්ෂ්‍යය ඒකක හා ආරක්ෂිත ආන්තිකයේ වටිනාකම සොයන්න.

- 1) සමවිච්ඡේදන ලක්ෂ්‍යය ඒකක
- 2) ආරක්ෂිත ආන්තිකය රු.

38. 1) රු. 16 000
2) රු. 4 000

39. (i) රු. 3 150 000
(ii) රු. 800 000

40. රු. 400 000

41. A - සාමාන්‍ය කොටස් හිකුතුව / හිමිකම් කොටස් හිකුතුව.
B - පොදු සංවිතයට මාරු කිරීම්.
C - මුළු විස්තීරණ ආදායම්.
D - ප්‍රසාද කොටස් හිකුතුව

42. (i) කාර්ය සාධන බැඳීම තෘප්තිමත් වූ පසු අයහාරය හඳුනාගත යුතුය.
(ii) පොරොන්දු වූ භාණ්ඩ හෝ සේවා පැවරීම වෙනුවෙන් ගනුදෙනුකරුගෙන් ව්‍යාපාරය ලබා ගැනීමට අපේක්ෂිත ප්‍රතිශ්ථාවෙහි වටිනාකමයි.

43. රු. 500 44. රු. 9 000 000

45. (i) රු. 2 550 000
(ii) රු. 750 000

46. 1) නිෂ්පාදනාගාරය
2) සැපයුම්කරු
3) ගබඩාව / භාණ්ඩ භාරගැනීමේ අංශය
4) සැපයුම්කරු

47. රු. 910 000

48. A අඩුවේ.
B වැඩි වේ.
C වැඩි වේ.
D අඩු වේ.

49. A රු. 1 600 000
B රු. 1 200 000
C රු. 4 000 000
D රු. 2 500 000

50. 1) ඒකක 2 000
2) රු. 900 000



එස්.සී.ධනංජය සේනානායක
දෙවන වසර
මූල්‍ය අධ්‍යයන අංශය

ප්‍රශ්න පත්‍ර සමාලෝචනය



ව්‍යාපාර අධ්‍යයනය ප්‍රශ්න පත්‍රය
එල්.ඒ.එස්.පෙරේරා
කථිකාවාර්ග
මූල්‍ය අධ්‍යයන අංශය
කැලණිය විශ්වවිද්‍යාලය



ආර්ථික විද්‍යාව ප්‍රශ්න පත්‍රය
ගංඟා මධුසානි
කථිකාවාර්ග
මූල්‍ය අධ්‍යයන අංශය
කැලණිය විශ්වවිද්‍යාලය



ගිණුම්කරණය ප්‍රශ්න පත්‍රය
ධනුශ්කා පියනන්ද
කථිකාවාර්ග
මූල්‍ය අධ්‍යයන අංශය
කැලණිය විශ්වවිද්‍යාලය

Dihan qualified as a **CHARTERED ACCOUNTANT** at just 23 years!

If he can successfully complete the
CA Sri Lanka programme in 3 years,

why not you?



This is Dihan's story



I started my CA journey soon after my advanced level exam, because I wanted a head start in my professional accounting career with the best accounting qualification, which is why I chose CA Sri Lanka. I sat for my first exam in 2016 and was able to complete the entire Executive Level and two subjects in the Business Level within that year.

Then, in early 2017, I gained admission to the university, and the knowledge I gained from pursuing the CA programme at CA Sri Lanka was of immense help in my undergraduate studies. I was proactive in pursuing practical training even before entering the university, which helped me immensely when I was following the Strategic Level of the CA Programme. Thus, I was able to complete both my degree and the CA Sri Lanka professional qualification simultaneously.

Today, I am proud to say that I have successfully completed the CA programme at the age of 23. ”

Think Ahead

ACCA

What's next after A/Ls?

ACCA + BSc (Hons) Degree in Applied Accounting within two and a half years.

Become a globally recognised finance professional with ACCA.

Special offer for A/L students!

Make use of this great opportunity and expand your career mobility. Call **0112424801 / 0773874247** or email **info@lk.accaglobal.com** for more details.

ACCA Sri Lanka, Block A, 18 Floor, 33, Parkland, Park street, Colombo 2.

ACCA

Think Ahead



මූල්‍ය විමසුම - සංවිධායක කමිටුව සංස්කරණය



යොහාන් අවිශ්ක

සොදුපත් කියවීම



සවින්ත රාජපක්ෂ



ලක්ෂිත ලහිරු



ජේ.ඒ.සී.ගයන්ත්‍රි

සහයක මණ්ඩලය



උත්පල රත්නායක



යශෝන් දිල්මිත්

මූල්‍ය අධ්‍යයන අංශයේ ප්‍රකාශනයකි.



<https://web.facebook.com/FinanceStudentsAssociation>



<https://www.youtube.com/c/DepartmentofFinanceUOK>



<https://www.linkedin.com/Company/FinSK>



<https://fcms.kln.ac.lk/dep/dfin/>